

GUÍA PEDAGÓGICA N° 20 DE RETROALIMENTACIÓN GRUPO 2.

ESCUELA: HORACIO MANN.

CUE: 7000103-00

DOCENTE: SANDRA ALICIA PLATERO.

GRADO: 2° PRIMERO

TURNO: MAÑANA.

ÁREAS: CIENCIAS SOCIALES. MATEMÁTICA.

TÍTULO DE LA PROPUESTA: BUSCANDOS DATOS.

CONTENIDOS: CIENCIAS SOCIALES: ESPACIO RURAL.MATEMÁTICA: SITUACIONES PROBLEMÁTICAS. TABLA DE DOBLE ENTRADA

DESAFÍO: ELABORAR EN UN AFICHE EL ESQUEMA CON LAS CARACTERÍSTICAS QUE TIENE EL ESPACIO RURAL PARA COMPARTIR POR WHATSAPP.

INDICADORES DE EVALUACIÓN PARA LA NIVELACIÓN

- ✚ RECONOCER ESPACIOS RURALES.
- ✚ RECONOCER LOS DIFERENTES TRABAJOS RURALES.
- ✚ PODER EXPLICAR LAS CARACTERÍSTICAS DEL ESPACIO RURAL.
- ✚ RESOLVER CUADROS DE DOBLE ENTRADA.
- ✚ REGISTRAR Y ORGANIZAR DATOS EN LISTAS Y TABLAS A PARTIR DE DISTINTAS INFORMACIONES.

ACTIVIDADES.

MIS PEQUEÑOS ALUMNOS ESTAMOS EN EL TRAMO FINAL DE ESTE AÑO. DEBES PONER TODAS LAS FUERZA PARA QUE TE SALGA GENIAL EL DESAFÍO. TU ERES CAPÁZ.

LEE LOS CRITERIOS QUE DEBERÁS TENER EN CUENTA A LA HORA DE TRABAJAR.

CRITERIOS	SI	NO
RECONOZCO ESPACIOS RURALES.		
RECONOZCO DIFERENTES TRABAJOS RURALES.		
PUEDO EXPLICAR LAS CARÁCTERÍSTICAS DEL ESPACIO RURAL.		
UTILIZO NÚMEROS NATURALES PARA RESOLVER SITUACIONES PROBLEMÁTICAS.		
RESUELVO CUADROS DE DOBLE ENTRADA.		
REGISTRO Y ORGANIZO DATOS EN LISTAS Y TABLAS A PARTIR DE DISTINTAS INFORMACIONES.		

LEE ATENTAMENTE EL DESAFÍO QUE DEBES LLEVAR A CABO AL FINAL DE LA GUÍA.

DESAFÍO: ELABORAR EN UN AFICHE EL ESQUEMA CON LAS CARACTERÍSTICAS QUE TIENE EL ESPACIO RURAL PARA COMPARTIR POR WHATSAPP

LEE ATENTAMENTE EL SIGUIENTE TEXTO.

EL CAMPO.

LA VIDA DEL CAMPO ESTÁ MÁS RELACIONADA CON LA NATURALEZA QUE LA VIDA DE CIUDAD.

LAS TAREAS QUE SE REALIZAN DIARIAMENTE EN CHACRAS, GRANJAS Y ESTANCIAS SON DIVERSAS, MUCHAS DE ELLAS AL AIRE LIBRE.

POR ESO, LAS PERSONAS Y LAS PRODUCCIONES DEL CAMPO DEPENDEN DE LAS CONDICIONES DEL TIEMPO: LAS LLUVIAS, LAS CAIDAS DE GRANIZO, LAS GRANDES HELADAS, LAS SEQUÍAS.

LOS TRABAJOS DEL HOMBRE DEL CAMPO, ENTRE OTRAS, SON: ARAR, SEMBRAR, FUMIGAR, COSECHAR Y CRIAR, Y CUIDAR ANIMALES.

EN LOS CAMPOS SE CRÍAN AVES COMO GALLINAS, GANSOS, PAVOS. PATOS Y TAMBIÉN OTROS ANIMALES COMO, CONEJOS, CERDOS, OVEJAS, VACAS, CABALLOS, Y ABEJAS.

SE CULTIVAN CEREALES COMO EL TRIGO EL MAÍZ, EL SORGO, LA AVENA Y OTROS.

EN LOS ESTABLECIMIENTOS DEL CAMPO COMO LAS GRANJAS, LOS MIEMBROS DE LA FAMILIA REALIZAN CASI TODOS LOS TRABAJOS; EN LOS LUGARES MÁS GRANDES COMO ESTANCIAS, TRABAJAN PEONES, CONTRATISTAS, PUESTEROS.

CUANDO ES NECESARIO SE CONTRATAN LOS SERVICIOS DE PROFESIONALES COMO INGENIEROS AGRÓNOMOS Y LOS VETERINARIOS.

COMPLETA

✚ LA VIDA EN EL CAMPO ESTÁ RELACIONADA CON LA _____.

✚ LAS TAREAS SE REALIZAN EN _____, _____ Y _____.

✚ LOS TRABAJOS DEL HOMBRE DEL CAMPO SON: _____, _____, _____, _____ Y _____.

✚ EN EL CAMPO SE CRÍAN: _____, _____, _____, _____, _____ ETC.

✚ SE CULTIVAN CEREALES COMO: _____, _____, _____, _____ ETC.

PINTA LA BURBUJA DE COLOR VERDE LAS IMÁGENES QUE SEAN DEL ESPACIO RURAL.



¡A RESOLVER!!!!!!!

1) EN LA GRANJA DE JUAN UNA GALLINA PONE 2 HUEVOS POR DIA. ¿PODRÍAS AYUDARLO A DESCUBRIR CUÁNTOS HUEVOS PONEN 5 GALLINAS, 8 GALLINAS O 10 GALLINAS? COMPLETA LA TABLA.

GALLINAS	1	2	3	4	5	6	7	8	9	10
HUEVOS	2									

2) DON JUAN NECESITA ARRIAR EL GANADO Y PARA ELLO OCUPA 3 EMPLEADOS POR DÍA Y NO LE ALCANZA.

¿CUÁNTOS EMPLEADOS NECESITARÁ PARA 4 DIAS Y 9 DIAS?

DIAS	1	2	3	4	5	6	7	8	9	10
EMPLEADOS	3									

3) EN EL CAMPO DE DON JUAN EN ÉPOCA DE COSECHA, TRABAJAN 4 MÁQUINAS POR DÍA. ¿CUÁNTAS MÁQUINAS TRABAJARÁN EN 3 DÍAS, 8 DÍAS Y EN 10 DÍAS?

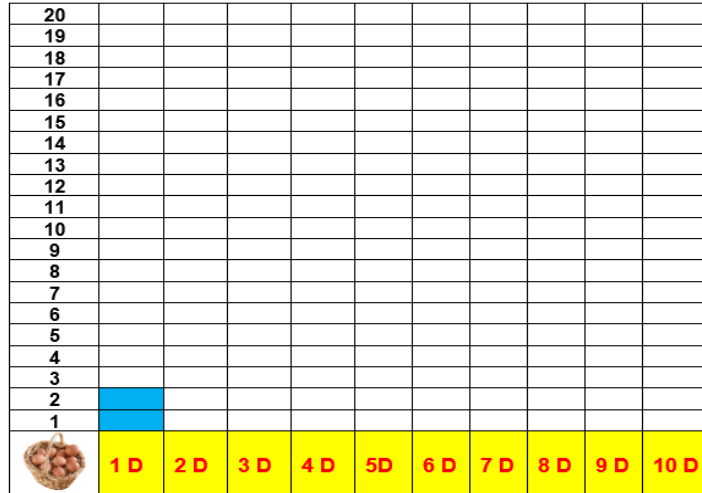
DIAS	1	2	3	4	5	6	7	8	9	10
MÁQUINAS	4									

PODRÍAS RESPONDER: ¿DESCUBRISTE ALGUNA TABLA?

♥ CUENTA Y COMPLETA EL GRÁFICO, LA SEÑO TE MUESTRA UN POQUITO Y TU COMPLETAS EL RESTO. (NO TE OLVIDES DE MANDAR LAS FOTOS A LA SEÑO)

	1 D	2 D	3 D	4 D	5 D	6 D	7 D	8 D	9 D	10 D
TOTAL, DE HUEVOS	2	4	6	8	10	12	14	16	18	20

PRESENTA LOS DATOS EN EL GRÁFICO, UTILIZA COLORES DIFERENTES



COMPLETA.

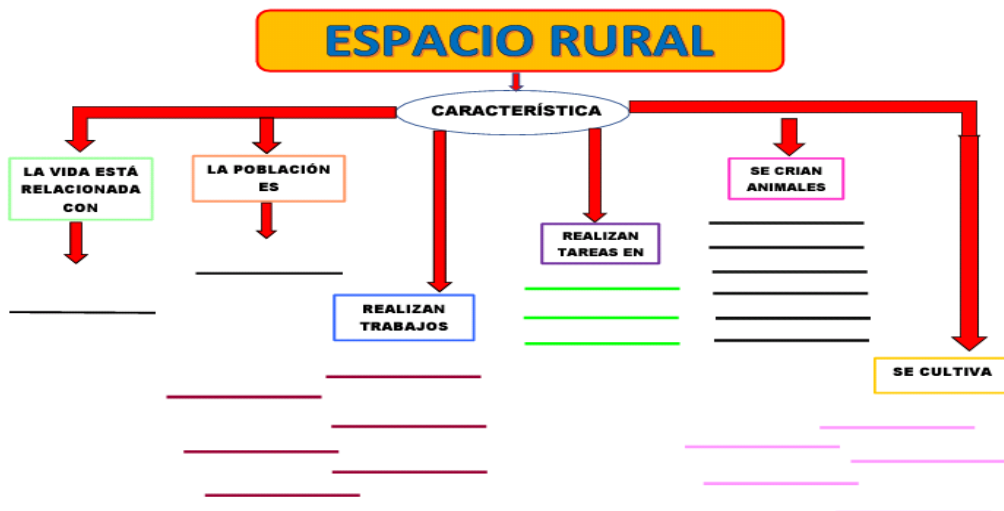
¿CUÁNTOS HUEVOS RECAUDÓ EL DIA 4? _____

¿CUÁNTOS HUEVOS RECAUDÓ EL DIA 8? _____

¿CUÁNTOS HUEVOS RECAUDÓ EL DIA 10? _____

SI LLEGASTE HASTA ACÁ QUIERE DECIR QUE RESOLVISTE TODO MUY BIEN Y ESTAS A UN PASO DE TERMINAR LA TAREA.

PARA RESOLVER EL DESAFÍO DEBES COMPLETAR EL ESQUEMA CON LAS CARACTERÍSTICAS DEL ESPACIO RURAL. TRABÁJALO EN EL AFICHE.




NO TE OLVIDES DE MANDAR FOTOS MIENTRAS REALIZAS LAS ACTIVIDADES.

CUANDO COMPLETES LOS GRÁFICOS RESPONDE ALGUNAS PREGUNTITAS QUE LUEGO ME EXPLICARÁS EN UN HERMOSO VIDEO.

	1 D	2 D	3 D	4 D	5 D	6 D	7 D	8 D	9 D	10 D
TOTAL, DE EMPLEADOS	3	6	9	12	15	18	21	24	27	30

PRESENTA LOS DATOS EN EL GRÁFICO, UTILIZA COLORES DIFERENTES



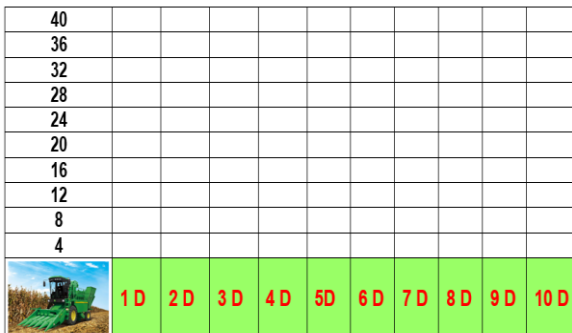
RESPONDE:

♥ ¿CUÁNTOS EMPLEADOS VA A NECESITAREL DÍA 5?

♥ ¿CUÁNTOS EMPLEADOS VA A NECESITAR EL DÍA 10?

	1 D	2 D	3 D	4 D	5 D	6 D	7 D	8 D	9 D	10 D
TOTAL, DE MÁQUINAS	4	8	12	16	20	24	28	32	36	40

PRESENTA LOS DATOS EN EL GRÁFICO, UTILIZA COLORES DIFERENTES



RESPONDE:

♥ ¿CUÁNTAS MÁQUINAS OCUPÓ EL DÌA 1?

♥ ¿QUÉ DÍA OCUPÓ EL DOBLE DE MÁQUINAS QUE NECESITÓ EL DÍA 1?

NO TE OLVIDES DE COMPLETAR LA LISTA DE COTEJO.

DIRECTORA: LILIANA DEL VALLE RUIZ.



FIN !!!