

GUÍA PEDAGÓGICA N° 21 DE RETROALIMENTACIÓN
GRUPO N° 1

ESCUELA: PROVINCIA DE CORRIENTES CUE 7000349-00

DOCENTES: LORENA GARCÍA - AZUCENA NAVARRO

GRADO: PRIMERO "A" y "B" TURNO: MAÑANA Y TARDE

ÁREAS: MATEMÁTICA, LENGUA, CIENCIAS SOCIALES, CIENCIAS NATURALES Y FORMACIÓN ÉTICA Y CIUDADANA.



TÍTULO DE LA PROPUESTA: **“¡CUÁNTO CRECÍ Y APRENDÍ ESTE AÑO!”**

CONTENIDOS:

- ESCRITURAS EQUIVALENTES DE UN NÚMERO.
- COMPOSICIÓN Y DESCOMPOSICIÓN ADITIVA DE UN NÚMERO EN UNOS Y DIECES. SUMA Y RESTA.
- CUERPOS GEOMÉTRICOS.
- LA ESCUCHA COMPRESIVA Y DISFRUTE DE TEXTOS LITERARIOS.
- LA ESCRITURA DE PALABRAS Y DE ORACIONES QUE CONFORMAN UN TEXTO.
- LA FAMILIA: MODO DE RECREACIÓN Y ALIMENTACIÓN. HÁBITOS SALUDABLES.
- LOS VALORES Y SU PUESTA EN PRÁCTICA.

INDICADORES DE EVALUACIÓN PARA LA NIVELACIÓN:

- RESUELVE SITUACIONES PROBLEMÁTICAS USANDO ESTRATEGIAS.
- DESCOMPONE Y COMPONE NÚMEROS EN UNOS Y DIECES.
- IDENTIFICA CUERPOS GEOMÉTRICOS.
- DISFRUTA DE LA ESCUCHA DE TEXTOS LITERARIOS.
- ESCRIBE PRODUCCIONES.
- IDENTIFICA HÁBITOS Y ALIMENTOS SALUDABLES.
- SE CONCIENTIZA DE QUE LA BUENA CONVIVENCIA DEPENDE DEL BUEN ACCIONAR DE TODOS.

DESAFÍO: DIBUJAR UN PLATO NUTRITIVO Y DIVERTIDO, USANDO FRUTAS Y VERDURAS DE LA ÉPOCA.

FECHA: DESDE 16/11/20 AL 19/11/20

ACTIVIDADES:

- MIRA Y ESCUCHA EL CUENTO DE LA CAPERUCITA ROJA EN EL SIGUIENTE LINK:

<https://youtu.be/soQPecTp2Gc>

- TE LEEN Y ESCRIBE LAS RESPUESTAS:

¿A DÓNDE IBA CAPERUCITA?


¿CON QUIÉN SE ENCONTRÓ?

¿POR QUÉ NO HAY QUE HABLAR CON DESCONOCIDOS?

¿QUÉ APRENDISTE CON ESTE CUENTO?

ANOTA LAS FRUTAS Y VERDURAS QUE LE LLEVABA A LA ABUELITA.

- ESTANDO EN CASA RESOLVIERON ESTA SOPA DE LETRAS, AHORA TE TOCA A VOS:



- ¿Y EN TU FAMILIA CÓMO SE ENTRETENEN? ESCRIBE Y DIBUJA LO QUE HACEN.

¿QUÉ OTRO TIPO DE ALIMENTOS SALUDABLES CONOCES? ESCRÍBELOS.


- ¿CUÁL DE LOS SIGUIENTES POSTRES CUESTA MENOS? RODÉALO:



¿CUÁNTO GASTAS SI COMPRAS LOS DOS POSTRES?

DIBUJA LOS BILLETES Y MONEDAS QUE SE NECESITAN PARA PAGARLOS.

- SI COMPRAS UN HELADO QUE CUESTA \$36, ¿CON CUÁL DE LAS SIGUIENTES SUMAS SE PUEDE FORMAR EL PRECIO?




- SI PAGAS CON 2 BILLETES DE \$20, ¿TE DAN VUELTO? ¿CUÁNTO? ¿CÓMO LO HICISTE?
- ¿A QUÉ CUERPO GEOMÉTRICO SE PARECE EL CUCURUCHO DEL HELADO?
- ¿Y SI TE LO SIRVEN EN VASITO, A QUÉ CUERPO GEOMÉTRICO SE PARECE?
- CAPERUCITA TIENE QUE UNIR CON FLECHAS LOS OBJETOS QUE SE PARECEN A LA FORMA DE ESTOS CUERPOS GEOMÉTRICOS. AYÚDALA:



- MIRA LOS DIBUJOS: ¿QUÉ HAY QUE HACER ANTES DE COMER? MARCA CON UNA "X":



- ESCRIBE OTROS CONSEJOS PARA CUIDAR LA SALUD.
- OBSERVA LAS IMÁGENES Y ESCRIBE UN NUEVO FINAL PARA EL CUENTO:



- PINTA LOS ALIMENTOS QUE SE DEBEN CONSUMIR EN MAYOR CANTIDAD PARA CUIDAR LA SALUD:



- PIENSA, LUEGO ESCRIBE O DIBUJA UN MENÚ PARA UN ALMUERZO SALUDABLE.

- **AHORA SI TRABAJAMOS EN LA RESOLUCIÓN DEL DESAFÍO.**



PIENSA EN TODO LO VISTO Y SELECCIONA ALGUNAS FRUTAS Y VERDURAS.

¿QUÉ PLATO DIVERTIDO, NUTRITIVO Y SALUDABLE PODRÍAS PREPARAR CON ELLOS?

LISTA LOS INGREDIENTES Y LOS UTENSILIOS QUE OCUPARÍAS.

DIBUJA EL POSIBLE PLATO. PUEDES USAR LA HOJA DEL TAMAÑO QUE DESEES Y CUALQUIER TÉCNICA PARA

PINTAR.

UNA VEZ TERMINADO ENVÍA A TU MAESTRA UNA FOTO DEL MISMO Y DE TODO EL TRABAJO REALIZADO.

VICEDIRECTORA: GABRIELA SANDOBARES

DIRECTORA: DELFINA POSSE

DOCENTES: LORENA GARCÍA - AZUCENA NAVARRO