

GUÍA PEDAGÓGICA N° 23 DE RETROALIMENTACION

Escuela: Albergue Provincia de Entre Ríos

C.U.E.: 7000512-00

Directora: Mónica Susana Speso

Grado: Primer Grado

Turno: Único

Área Curricular : Matemática –Ciencias Sociales

Título de la propuesta: “ Involucro mis saberes e imaginación”

Contenidos:

- **Matemática:**
Numeración hasta el 100: Relaciones
Operaciones: Sumas y restas
Situaciones problemática.
Figuras Geométricas.
- **Ciencias Sociales:**
Paisajes rurales y urbanos.

Indicadores de Evaluación para la nivelación

- Construye la sucesión numérica de 10 en 10.
- Identifica el anterior y posterior de un número.
- Resuelve situaciones problemáticas y operaciones.
- Reconoce las figuras geométricas.
- Diferencia el paisajes rurales del urbano
-


Desafío

“Crear o diseñar un juego casero: mi propio dominó matemático”


Actividades:

1-El juego del dominó.





Delinea con color los números punteados y completa cada ficha con mucha atención.








2- Jugamos con las sumitas: Completa las piezas del dominó de modo que la suma corresponda al dibujo




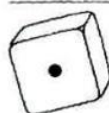



3- Resuelve


	+	<input type="text"/>	=	<input type="text"/>
	+	<input type="text"/>	=	<input type="text"/>
	+	<input type="text"/>	=	<input type="text"/>
	+	<input type="text"/>	=	<input type="text"/>




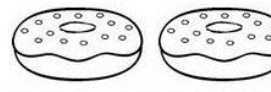
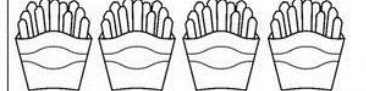
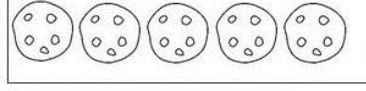



	+	<input type="text"/>	=	<input type="text"/>
	+	<input type="text"/>	=	<input type="text"/>
	+	<input type="text"/>	=	<input type="text"/>
	+	<input type="text"/>	=	<input type="text"/>



	+	<input type="text"/>	=	<input type="text"/>
	+	<input type="text"/>	=	<input type="text"/>
	+	<input type="text"/>	=	<input type="text"/>
	+	<input type="text"/>	=	<input type="text"/>



	$4-2=$	<input type="text"/>
	$5-3=$	<input type="text"/>
	$3-1=$	<input type="text"/>
	$2-2=$	<input type="text"/>
	$4-2=$	<input type="text"/>
	$5-2=$	<input type="text"/>

➤ ¿Qué problemita? A  le regaló su mamá cerdita 4 globos brillantes y su hermano George 3 globos con corazones. ¿Cuántos globos tiene Peppa?

4- Escribe su anterior y posterior

<input type="text"/>	8	<input type="text"/>	<input type="text"/>	14	<input type="text"/>	<input type="text"/>	19	<input type="text"/>	
<input type="text"/>	10	<input type="text"/>	<input type="text"/>	39	<input type="text"/>	<input type="text"/>	3	<input type="text"/>	
<input type="text"/>		<input type="text"/>						33	<input type="text"/>

5 – Completa la sucesión de 10 en 10

0	10			40			70			
---	----	--	--	----	--	--	----	--	--	--

6- Realiza un paisaje rural donde encontremos : 5 palomas, 10 flores, 8 árboles, 4 nubes, dos niños.


7- Realiza un paisaje urbano (ciudad) , donde uses distintas formas para tu dibujo: rectángulos, círculos , cuadrados, triángulos y también que se vean números.

Ahora mano a la obra para el desafío:

Armar un juego de dominó matemático que contenga 20 piezas rectangulares de cartón, con las medidas que a vos mas te guste.



Puedes recortar números de revistas y elementos necesarios para armar y jugar. Puede relacionar sumas con sus respuestas, cantidad con su número.



Y a jugar!! Debes guardarlo en una cajita o bolsita para presentarlo cuando tengamos las clases presenciales.

