

GUÍA PEDAGÓGICA N°22 DE RETROALIMENTACIÓN – GRUPO N° 1

ESCUELA: ING. MARCO ANTONIO ZALAZAR.

CUE: 700056200

DOCENTES: LINARES SUSANA, CASTRO CLAUDIA, PINTOR BETINA, LACIAR EUGENIA.

GRADO: SEGUNDO

TURNO: TARDE

ÁREAS: MATEMÁTICA, CIENCIAS NATURALES Y TECNOLOGÍA

TÍTULO: ¡CUÁNTO APRENDIMOS!

CONTENIDOS**MATEMÁTICA:** NUMERACIÓN HASTA 499 REGULARIDADES NUMÉRICAS. ESTRATEGIAS DE CÁLCULO. SITUACIONES PROBLEMÁTICAS**CIENCIAS NATURALES:** EL CUERPO HUMANO: CARACTERÍSTICAS. PARTES EXTERNAS CABEZA, TRONCO Y EXTREMIDADES. HÁBITOS SALUDABLES: EL CUIDADO DEL CUERPO**EDUCACIÓN TECNOLÓGICA:** PRODUCTO TECNOLÓGICO**INDICADORES**

IDENTIFICA NÚMEROS NATURALES HASTA 499.

RESUELVE SITUACIONES PROBLEMÁTICAS SENCILLAS DE LA VIDA COTIDIANA DE SUMAS Y RESTAS APLICANDO LA DESCOMPOSICIÓN

IDENTIFICA CARACTERÍSTICAS DE ESPACIOS URBANOS Y RURAL.

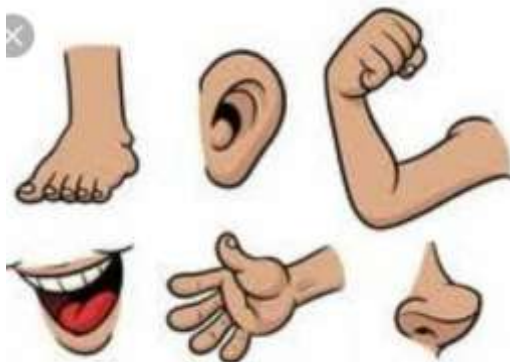
RECONOCE LAS PARTES DEL CUERPO.

RECONOCE LA IMPORTANCIA DE LOS HÁBITOS

IDENTIFICA PRODUCTOS TECNOLÓGICOS

DESAFÍO: DISEÑAR UNA TARJETA CON UNA ADIVINANZA DEL MATE.**DÍA 1****ÁREA: CIENCIAS NATURALES**

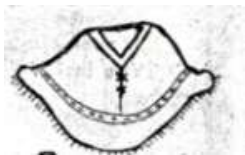
DESTACA CON COLOR LAS PARTES DE TU CUERPO QUE USAS PARA TOMAR MATE.



OBSERVA TU CUERPO CON MUCHA ATENCIÓN Y LUEGO COMPLETA ESTA FIGURA CON LAS PARTES QUE FALTAN Y SUS NOMBRES.



COMPLETA ¿A QUÉ PARTE DEL CUERPO CORRESPONDEN LAS PRENDAS GAUCHESCAS?



DÍA 2

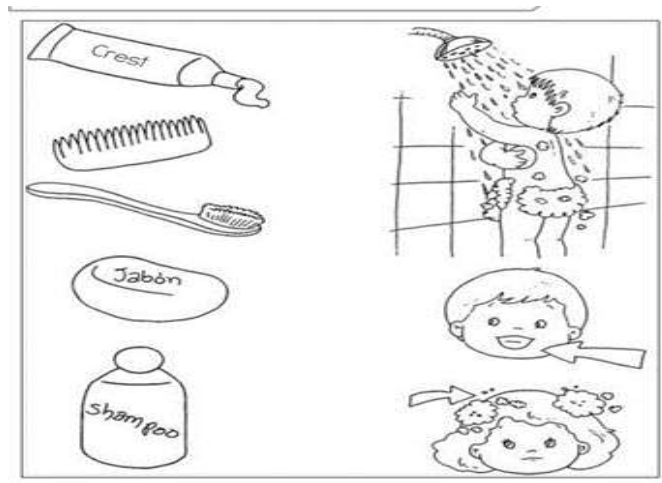
ÁREA: CIENCIAS NATURALES

ENCIERRA CON UN CÍRCULO LAS PARTES DEL CUERPO QUE SE NECESITAN PARA TOMAR MATE

PIERNAS CABEZA BOCA BRAZO MANO PIES TRONCO

NOMBRA Y LISTA TRES HÁBITOS PARA LA HIGIENE DE TODO CUERPO. UNE CON FLECHAS SEGÚN CORRESPONDA

- -----
- -----
- -----



ESCRIBE UN CONSEJO PARA CUIDAR TU CUERPO Y ENVIA AUDIO A TU SEÑO

DIA 3 MATEMÁTICA

PROBLEMITAS GAUCHESCOS.

MAMÁ FUE A COMPRAR LOS INSUMOS PARA EL MATE Y ENCONTRÓ LAS SIGUIENTES PRECIOS. AYUDA A CALCULAR POR MÁS PAQUETES

DOCENTES: CASTRO CLAUDIA, SUSANA LINARES, BETINA PINTOR, EUGENIA LACIAR, CUELLO ANDREA, SUSANA ACOSTA

PRODUCTOS	VALOR POR PAQUETE	VALOR EN 2 PAQUETES
AZÚCAR	\$ 150	
YERBA	\$ 200	

EN EL LOCAL DE ARTESANÍAS SE MEZCLARON LOS PRECIOS DE COMESTIBLES Y PRENDAS GAUCHESCAS.

ORDÉNA LOS PRECIOS DE MAYOR A MENOR. REPASANDO NUMERITOS

\$330 , \$110 , \$150. \$210, \$300, \$290, \$400.

PIENSA Y COLÓCALE LOS PRECIOS A LOS ARTÍCULOS SEGÚN LAS PISTAS

\$.....0

\$3.....

\$...3.....

\$4.....



\$.....0



\$....9.....



\$1.....



PINTA EN EL CASTILLO LOS VALORES DE TODOS LOS PRODUCTOS Y COMPLETA LOS CASILLEROS VACÍOS

100	110	120			150	160	170	180	
200	210		230	240		260		280	290
300			330	340	350		370		390
400	410	420		440	450	460		480	490

DESCOMPONE EN CIENES, DIECES Y UNOS LOS NÚMEROS QUE PINTASTE EN EL CASTILLO NUMÉRICO

ENVIAR FOTOS DE TUS RESOLUCIONES

DÍA 5

TECNOLOGÍA

OBSERVA DISTINTOS MODELOS DE UN PRODUCTO TRADICIONAL ARGENTINO: EL MATE



CONSIGNA: PREPARA PASTA DE SAL CON 1 TAZA DE SAL, 2 TAZAS DE HARINA COMÚN Y 1 TAZA DE AGUA TIBIA, LUEGO CON LA MASA DE SAL OBTENIDA, REALIZA UN PRODUCTO TECNOLÓGICO, DECORATIVO, TRADICIONAL ARGENTINO : UN MATE. DECÓRALO A TU AGRADO.

DIBUJA EN TU CUADERNO EL MATE REALIZADO



DIRECTORA: PROFESORA MARÍA ESTER PADILLA