

## GUÍA PEDAGÓGICA N°22 DE RETROALIMENTACIÓN- GRUPO 3

Escuela: Falucho Turno Mañana CUE: 7000390/0

Docentes: Cortez Lorena – Díaz Valeria – Martínez Betina.

Grado :Primero Turno Mañana

Áreas: Matemática – Lengua – Cs. Naturales – Cs. Sociales – Formación Ética



Título de la Propuesta: “ORGANIZANDO TU FIESTA DE CUMPLEAÑOS”

**Contenidos:Matemática:**Número y Operaciones. # Número Natural hasta 15. # Funciones y usos en la vida cotidiana (contar, ordenar, identificar, anticipar resultados, repartir) # Sumas y restas. Distintos significados. Cálculos mentales simples. Espacio, Formas y Medidas: # Representación de espacios físicos. # Respecto de las formas: Cuerpos geométricos relacionando con figuras geométricas. Comparación# Lectura del calendario: Ubicación de mes, semana, día.**Lengua:** Eje Lectura: # Lectura de palabras y oraciones con ilustraciones como soporte.Eje Escritura: # La escritura de palabras de oraciones (mensajes, invitaciones), frases. # Identificación de vocales y consonantes.**Ciencias Sociales:** ##Diversidad de costumbres. # Celebraciones de la sociedad del presente.**Ciencias Naturales:** # Hábitos que favorecen la salud. # Higiene y seguridad para evitar contagio de enfermedades. **Formación Ética y Ciudadana:** # En relación con la reflexión de las identidades: # Los valores y su puesta en práctica en diferentes situaciones, familiares, sociales. # La discriminación.

### **Indicadores:**

- \*- Escribe palabras con ayuda del abecedario móvil.\*- Organiza listas de palabras
- \*- Escribe frases con un sentido determinado.\*- Lee pequeños textos escritos por él.
- \*- Resuelve situaciones problemáticas usando suma y resta.\*- Reparte cantidades en partes iguales.\*- Razona con un adulto los valores(discriminar.) \*-Compara y diferencia cuerpos geométricos con figuras. \*- Razona con un adulto los valores. Discriminación.
- \*- Describe hábitos de higiene que protegen su salud. \*- Nombra costumbres y fiestas familiares en relación a la sociedad actual que se conservan a través del tiempo.

### **ACTIVIDADES:**



**¡EL CUMPLE ! 1- OBSERVAR EL DIBUJO Y RESPONDER**




¿ALCANZAN LAS EMPANADAS? \_\_\_\_\_

¿ LOS VASOS? \_\_\_\_\_

¿Y LAS SERVILLETAS? \_\_\_\_\_

¿CUÁNTOS AÑOS CUMPLE MARISA? \_\_\_\_\_

**2- ORDENAR Y COLOCAR EL NÚMERO CORRECTO EN LAS IMÁGENES.**



**3-OBSERVAR LAS IMÁGENES DEL PUNTO 2 Y COMPLETAR.**

PERSONAS	COSAS
M__ __ Á	T__ R__ __
P__ __ __	V__ __ AS
NE__ __ S	G__RR__

**4-AHORA HAY QUE ARMAR LA PIÑATA.**

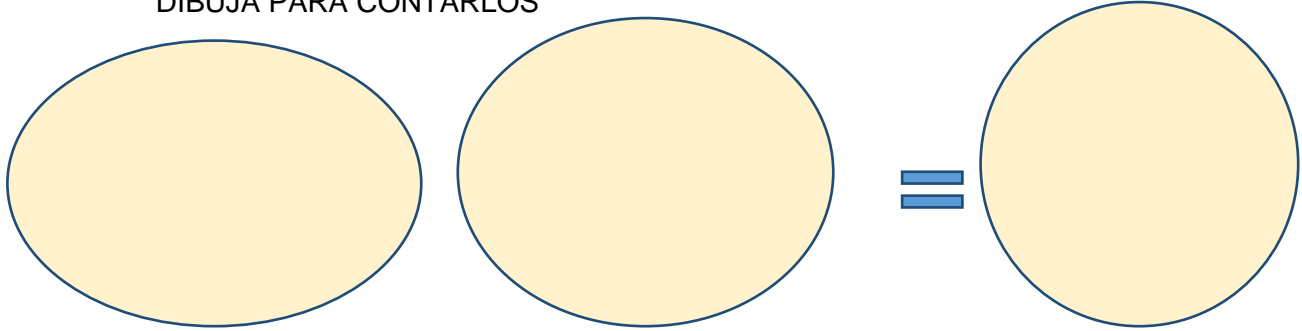
-VAS A COLOCAR **4 AUTITOS** Y **11 CAMIONCITOS** ¿CUÁNTOS SERÁN EN TOTAL?

DIBUJA PARA CONTARLOS

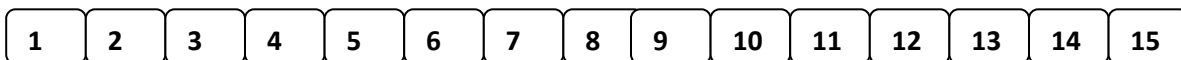
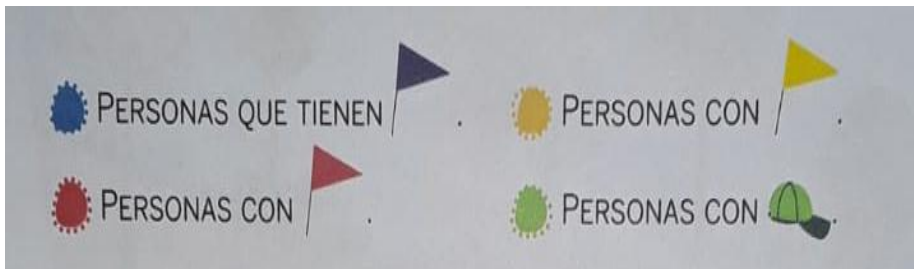


-PARA LAS NENAS PONDRAS **6PULSERAS** Y **7COLLARES**¿CUÁNTOS SERÁN EN TOTAL?


DIBUJA PARA CONTARLOS



**¡CUMPLE A TODO COLOR!** 5-OBSERVAR EL DIBUJO Y PINTAR EN LA BANDA NUMÉRICA LAS CANTIDADES QUE CORRESPONDEN CON EL COLOR INDICADO



6- ESCRIBE EL NOMBRE DE LO QUE COMERÁN Y BEBERÁN



\_\_\_\_\_

\_\_\_\_\_

**¡LOS REGALOS!** MARISA OBSERVA SUS REGALOS Y QUIERE UNIRLOS CON EL CUERPO GEOMÉTRICO QUE SE PARECE.

7-¿LA AYUDAS?



PRISMA



PIRÁMIDE



ESFERA



CILINDRO



CONO



8-SI TUVIESES UN COMPAÑERO QUE USE SILLA DE RUEDAS ¿LO INVITARÍAS AL CUMPLE? \_\_\_\_\_

9- OBSERVAR LAS SIGUIENTES IMÁGENES Y MARCAR CON UNA X LA QUE CONSIDERES QUE SÍ ESTÁN DISCRIMINANDO.



### **¡A CUIDARNOS ENTRE TODOS!**

**10-LEER Y ENCERRAR LOS CONSEJOS QUE LES DARÍAS A TUS INVITADOS PARA CUIDAR SUSALUD.**

- ✓ LAVARSE LAS MANOS ANTES DE COMER.
- ✓ USAR CADA UNO SU VASO.
- ✓ BEBER DE LA MISMA LATA DE GASEOSA.
- ✓ NO COMER UN ALIMENTO QUE CAYÓ AL PISO.

**11-ADEMÁS DE FESTEJAR LOS CUMPLEAÑOS ¿QUÉ OTRA **COSTUMBRE** TIENE TU FAMILIA**

**-ESCRIBIR UNA:**

\* \_\_\_\_\_

**Directora:** Sra. Margarita Fernández.

**Vicedirectora:** Mónica Macía.