

GUÍA PEDAGÓGICA N°23 DE RETROALIMENTACIÓN- GRUPO 2

**ESCUELA:** PERITO FRANCISCO P. MORENO.

**CUE:** 700582-00

**DOCENTES:** Cortés, Estela - Aragón, Belén

**GRADO:** 2º “A “y “B”.

**TURNO:** Tarde.



**ÁREA CURRICULAR:** Matemática-Lengua-Ciencias Sociales-Formación Ética y ciudadana.

**CONTENIDOS:**

- ❖ **LENGUA:** La comprensión y la producción oral-**La lectura:** La lectura comprensiva y disfrute de textos literarios (poesía)-**La escritura:** Escritura de textos en colaboración con la familia.
- ❖ **MATEMÁTICA:** situaciones problemáticas- Situaciones para resolver la tabla del 2- Espacio, formas y medidas(cuerpos).
- ❖ **CIENCIAS SOCIALES:** Las sociedades a través del tiempo- (el afianzamiento de la identidad nacional).
- ❖ **FORMACIÓN ÉTICA Y CIUDADANA:** En relación con los derechos y la participación (La familia).

**INDICADORES DE EVALUACIÓN PARA LA NIVELACIÓN:**

- Comprende y produce textos literarios.
- Diferencia mitad y triple -realiza dictado y escritura de números-Reconoce mayor y menor, anterior y posterior-Resuelve situaciones problemáticas-Reconoce figuras, cuerpos y medidas.
- Establece relaciones sobre su crianza.
- Reconoce sus derechos y deberes.

**DESAFÍO:** “Armar carteles con juegos tradicionales de nuestro país y compartir los juegos en familia”.

**Actividades**

**Lunes 16 de noviembre del 2020**

**ÁREA: LENGUA**

**“Tradición en poesía”**

1)-Lee con atención.





2)-Elige una de estas tradiciones argentinas y dibújalas.

COMPARTIR EL MATE

REUNIRNOS EN FAMILIA

**ÁREA: MATEMÁTICA**

1)-Observa a Jimena, lo que compró para una fiesta familiar, del “Día de la tradición”



Si compré lo que indica la siguiente tabla, ¿cuánto gasté?

Pollo con fritas	\$ 392
Tortilla	\$ 128
Ensalada	\$ 76

Tortilla	Cantidad	Pago
Pollo con fritas	7	
Tortilla	4	
Ensalada	9	

¿Qué cantidad de productos tiene Jimena?

**Marte 17 de noviembre del 2.020**

**ÁREA: Ciencias Sociales**

1)-Leemos con mucha atención, el siguiente cuadro.

**¿QUÉ ENTENDEMOS POR TRADICIÓN?**



Hoy en día, existen muchas tradiciones, que heredamos del gaucho.

**ÁREA: LENGUA**

De acuerdo al texto ¿Qué es la tradición?

1)-Con los siguientes verbos, escribe lindas oraciones.

**JUGAR -- COMPARTIR -- FESTEJAR**

**Miércoles 18 de noviembre del 2.020**

**ÁREA: MATEMÁTICA**

1)-Pinta cuál es el cálculo que corresponde, escribe el resultado y la respuesta.

● ¿Cuántas ruedas tienen seis bicicletas?	$2 \times 5 =$ ----	
	$2 \times 6 =$ ----	
	$2 \times 4 =$ ----	Respuesta: ----
● ¿Cuántos cordones se necesitan para cuatro pares de zapatillas?	$2 \times 4 =$ ----	
	$2 \times 2 =$ ----	
	$2 \times 9 =$ ----	Respuesta: ----

**ÁREA: LENGUA**

1)-Escribe con ayuda de tu familia, tradiciones que conozcan de nuestro país.



2)-Compartí lo que escribiste, con algún compañerito, por mensaje de whatsapp app

Jueves 19 de noviembre del 2.020

**ÁREA: FORMACIÓN ÉTICA Y CIUDADANA.**

**¿SABES CÓMO SE JUEGA?**

1)-Pedile a los integrantes de tu familia, que participen de la siguiente actividad.



El truco es un juego de cartas.  
Se reparten tres cartas a cada jugador.  
Éstos, usando algunas mentiritas, intentan engañar a su contrincante.



El sapo se juega en un mueble hecho en madera y metal, que posee un sapo con la boca abierta.  
El juego consiste en arrojar fichas dentro de la boca del sapo y sumar la mayor cantidad de puntos.



Para jugar a la herradura hay que clavar un palo o un fierro de 10 a 20 cm en la tierra.  
El juego consiste en arrojar una herradura y tratar de que la misma rodee o gire alrededor del fierro para ganar la tirada.



**ÁREA: LENGUA**

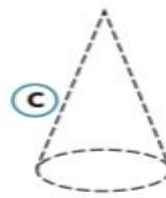
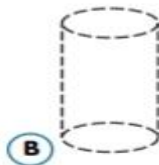
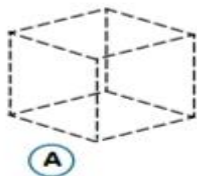
1)-Elabora un listado con algunas costumbres familiares.



Viernes 20 de noviembre del 2.020

**ÁREA: MATEMÁTICA**

1)-Observa con atención



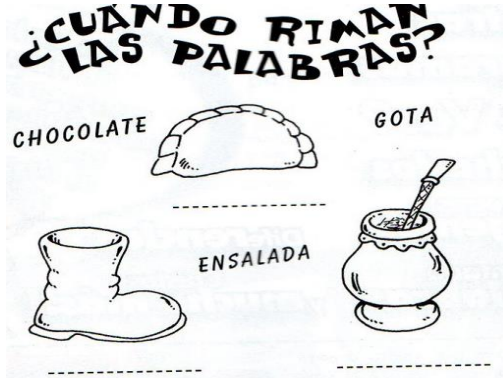
2)-Resuelve escribiendo la letra que corresponde.

- Entre los cuerpos geométricos, hay uno que se llama CONO. ¿Cuál es?
- Tiene una cara curva y dos planas.
- Es una pirámide.



**ÁREA: LENGUA**

1)-Coloca el nombre de los dibujos.



2)-Elabora un cartel con juegos tradicionales de nuestro país y compartirlos en familia.

**¡LLEGAMOS AL FINAL!** Envía fotos de los carteles y momentos donde compartes los juegos en familia, Puedes mandarme video por WhatsApp o correo electrónico -2º "A" señora Estela Cortez (Cel: 264-4144524- correo estela20cortez@gmail.com) 2º "B" Belén Aragón (Cel: 2645724808-correo maribelu700 @gmail.com), para poder observar tus tareas realizadas.



**DIRECTORA: Mariela Salinas. VICEDIRECTORA: Adriana Fuentes.**