

GUÍA N° 19 DE RETROALIMENTACIÓN

ESCUELA: BARRIO VALLE GRANDE **CUE:** 700106300

DOCENTES: PASTEN CARINA_ LAURA RUIZ CLAVIJO.

GRADO: 1 °. "A" Y "B" CICLO_ PRIMERO **NIVEL** PRIMARIO **TURNO:** MAÑANA

ÁREAS CURRICULARES: LENGUA, MATEMÁTICA, CIENCIAS NATURALES, CIENCIAS SOCIALES Y FORMACIÓN ÉTICA.

TÍTULO: "NOS DIVERTIMOS CON LAS ESTACIONES DEL AÑO"

CONTENIDOS

LENGUA: LECTURA Y PRODUCCIÓN DE ORACIONES.

MATEMÁTICA: NUMERACIÓN. REGULARIDADES. CÁLCULOS POR DESCOMPOSICIÓN. CUERPOS GEOMÉTRICOS. MEDIDAS DE LONGITUD, CAPACIDAD Y PESO.

CIENCIAS SOCIALES: RECONOCIMIENTO DE LUGARES SIGNIFICATIVOS: EL BARRIO.

CIENCIAS NATURALES: CLASIFICACIÓN DE LOS ANIMALES SEGÚN SU COBERTURA. CLASIFICACIÓN DE ANIMALES SEGÚN SU AMBIENTE.

FORMACIÓN ÉTICA: SITUACIONES CONFLICTIVAS Y SUS POSIBLES SOLUCIONES.

INDICADORES

- ⌘ PRODUCE ORACIONES SENCILLAS A PARTIR DE UNA IMAGEN.
- ⌘ USA NÚMEROS NATURALES HASTA 100.
- ⌘ SOLUCIONA CÁLCULOS DESCOMPONIENDO EN DIECES Y UNOS.
- ⌘ RECONOCE CUERPOS GEOMÉTRICOS.
- ⌘ COMPARA LONGITUDES, PESOS Y CAPACIDADES.
- ⌘ RECONOCE LOS DISTINTOS AMBIENTES AÉREOS, TERRESTRES Y ACUÁTICOS.
- ⌘ IDENTIFICA CARACTERÍSTICAS DE ANIMALES SEGÚN SU COBERTURA.
- ⌘ RECONOCE SITUACIONES CONFLICTIVAS Y SUS POSIBLES SOLUCIONES.

DESAFIO: PRODUCCIÓN DE ORACIONES EN TORNO A LAS ESTACIONES.

LUNES 16 DE NOVIEMBRE. ÁREA; MATEMÁTICA

1- LEO Y LUCÍA EN SUS VACACIONES DE VERANO JUGARON A LA OCA.

A- ESCRIBE LOS NÚMEROS QUE FALTAN EN EL TABLERO.

B- RESPONDE ¿EN QUÉ CASILLERO ESTÁ LA FICHA VERDE? ¿Y LA ROJA?

¿QUÉ FICHA ESTÁ MÁS CERCA DE LA LLEGADA? ¿POR QUÉ?

C- ESCRIBE LOS NÚMEROS QUE FALTAN EN EL TABLERO.



D- RESPONDE ¿EN QUÉ CASILLERO ESTÁ LA FICHA VERDE? ¿Y LA ROJA?

¿QUÉ FICHA ESTÁ MÁS CERCA DE LA LLEGADA? ¿POR QUÉ?

E- RODEA DE MENOR A MAYOR LOS SIGUIENTES NÚMEROS.



ÁREA LENGUA

1- LEE EL SIGUIENTE TEXTO.

EL VERANO DE LEO Y LUCÍA.

LEO Y LUCÍA COMEN MELONES Y SANDÍAS. COMO LOS DÍAS SON MÁS LARGOS Y CALUROSOS VAN A LA COLONIA DE VACACIONES.

LOS DÍAS DE VERANO ESTÁN LLENOS DE COLORES, FLORES, JUEGOS, LLUVIA, FIESTAS Y MUCHAS COSAS MÁS.

2- UNE LA ORACIÓN CON LA IMAGEN QUE CORRESPONDE.



LUCÍA COME SANDÍA EN LA PILETA.



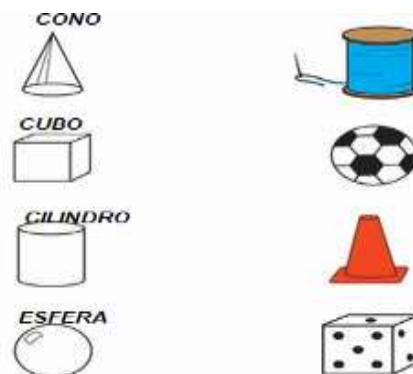
ZOE CAMINA BAJO LA LLUVIA.

LEO TOMA AGUA.




MARTES 17 DE NOVIEMBRE ÁREA MATEMÁTICA.

1-COMO HACÍA MUCHO CALOR. LEO Y LUCÍA DECIDIERON LIMPIAR EL GALPÓN CON SU PAPÁ, ENCONTRARON ESTOS OBJETOS, UNE DE ACUERDO CON SU FORMA



2-ENCONTRARON TAMBIÉN VARIAS BALITAS Y JUGARON A EMBOCARLAS.



¿CUÁNTOS PUNTOS HIZO CADA UNO? ¿QUIÉN GANÓ?


3- JUANA, SU MAMÁ, MIENTRAS CORTABA FLORES DEL JARDÍN, CORTÓ 15 MARGARITAS Y 23 ROSAS ¿CUÁNTAS FLORES CORTÓ EN TOTAL?

4- COMPRÓ 25 KILOGRAMOS DE TIERRA FÉRTIL PARA SU JARDÍN. ¿CON QUÉ OBJETO LO PESÓ? RODEA EL CORRECTO.



MIÉRCOLES 18 DE NOVIEMBRE.

1-LEO Y LUCÍA FUERON A LA COLONIA Y ALLÍ ENCONTRARON ALGUNOS ANIMALITOS.



COMPLETA EL CUADRO CON EL NOMBRE DE LOS ANIMALES DÓNDE CORRESPONDA.

CON ESCAMAS	CON PLUMAS	CON PELOS	CON PIEL DESNUDA


2-COMPLETA EL CUADRO CON EL NOMBRE DE LOS ANIMALES SEGÚN CORRESPONDA.



AÉREOS	ACUÁTICOS	TERRESTRES

JUEVES 19 DE NOVIEMBRE. ÁREA CIENCIAS SOCIALES Y FORMACIÓN ÉTICA.

PARA IR A LA COLONIA DE VERANO LEO Y LUCÍA ATRAVESARON TODO EL BARRIO Y ENCONTRARON A SU PASO ALGUNOS LUGARES Y PERSONAS IMPORTANTES . ESCRIBE SU NOMBRE.



SE LES PRESENTARON LAS SIGUIENTES SITUACIONES ¿CUÁL ES LA CORRECTA?
¿POR QUÉ?



UNA VEZ EN EL COLECTIVO OBSERVARON VARIAS VECES EN LAS ESQUINAS EL SIGUIENTE OBJETO ¿PARA QUÉ SIRVE? ESCRIBE EL SIGNIFICADO DE SUS COLORES.



ÁREA LENGUA.

1- PRODUCE ORACIONES OBSERVANDO LAS IMÁGENES.





DIRECTORA: ANGELA VILLACORTA

VICE DIRECTOR: RAUL ABALLAY