

**E.E.E. Hospitalaria y Domiciliaria Dr. Guillermo Rawson Anexo Dr. Marcial
Quiroga - Segundo Grado, Ciclo Básico - Áreas Integradas**

Guía Pedagógica N° 11

Escuela: E.E.E. Hospitalaria y Domiciliaria Dr. Guillermo Rawson Anexo Dr. Marcial Quiroga.

Docente: Dayana, Muñiz.

Grado: 2° Grado, Ciclo Básico

Turno: Tarde.

Área Curricular: Áreas integradas.

Título de la propuesta: “El quiosco de mi barrio”.

Contenidos:

-Suma y resta: distintos significados: unir, agregar, retroceder, perder, quitar. Construcción y uso del algoritmo de la suma, sin y con dificultad.

-Descomposición aditiva de números en “unos” y “dieces”. Idea de valor posicional.

-Cálculos estimativos para sumas y restas.

-La escucha comprensiva de textos leídos o expresados en forma oral por el docente y otros adultos asiduamente: narraciones, textos ficcionales y experiencias personales, descripción de objetos, animales y personas. La lectura de palabras y oraciones que conforman textos.

-La escritura autónoma de palabras y oraciones que conforman textos. Adjetivos calificativos para caracterizar al sustantivo, advirtiendo su importancia en los textos.

-Área Tecnología: Indagación de la continuidad y los cambios que experimentan las tecnologías a través del tiempo. La tecnología como proceso sociocultural.

-Ciencias Sociales: Efemérides: 11 de Septiembre “Día del Maestro”. Domingo Faustino Sarmiento.

-Área Música: Cancionero Infantil Popular. Canciones acumulativas. Cancionero infantil.

-Área Artes Visuales: El contexto social y cultural: Las Artes Visuales integradas a otras manifestaciones artísticas: Lo visual en dibujos animados y cuentos. El contexto social y cultural: Las Artes Visuales integradas a otras manifestaciones artísticas: Lo visual en dibujos animados y cuentos.

Desarrollo de Actividades:

DÍA 1: MATEMÁTICA.

-RESUELVE:

EN EL QUIOSCO DE LA ESQUINA VENDEN TUTUCAS. EN CADA CAJA VIENEN 150 TUTUCAS. EN 2 CAJAS ¿CUÁNTAS TUTUCAS HAY EN TOTAL?

EN LA TARDE EL SEÑOR DEL KIOSCO VENDIÓ 26 TUTUCAS ¿CUÁNTAS LE QUEDAN EN LA CAJA?

TECNOLOGÍA:

1-DE LAS SIGUIENTES IMÁGENES COLOREA LOS PRODUCTOS QUE SON NECESARIOS PARA LA ALIMENTACIÓN.



2-ESCRIBE PRODUCTOS NECESARIOS PARA: VESTIMENTA Y TRANSPORTE.

.....

.....

DÍA 2: LENGUA.

1) LEE EL SIGUIENTE TEXTO:

QUIOSCOS

CUANDO UNA VENTANA SE ABURRE DE SER VENTANA, LE PONEN UN TIMBRE Y SE TRANSFORMA EN QUIOSCO. DEBAJO DEL MOSTRADOR DE VIDRIO, LAS GOLOSINAS PARECEN PECES DE COLORES EN SU PECERA.

EL VENDEDOR NO TIENE QUE CAMINAR, PERO DESDE SU SILLA HACE MÁS MOVIMIENTOS QUE UNA MARIONETA; ESTIRA EL BRAZO Y BAJA LAS GALLETITAS; SE AGACHA Y PESCA CUADERNOS DE CIENTO HOJAS; GIRA A LA DERECHA, ENCUENTRA LAS PILAS; GIRANDO A LA IZQUIERDA, LOS ALFAJORES.

SI EL CLIENTE ES UN NIÑO PEQUEÑO, EL VENDEDOR VE SOLAMENTE UNA MANO QUE SE ASOMA Y UNA VOZ QUE PIDE CHOCOLATES, SI ES UN NIÑO GRANDE LO VE DESDE LA NARIZ PARA ARRIBA, Y SI ES UN SEÑOR ALTÍSIMO VE UNA PANZA CON CORBATA Y SIN CABEZA.

EL DUEÑO DEL QUIOSCO PERMITE A LOS CLIENTES QUE ADHIERAN CARTELITOS EN LOS LUGARES QUE SE ENCUENTRAN VACÍOS DETRÁS DEL VIDRIO, O BAJO DE ALGÚN CARTELÓN DE PUBLICIDAD VIEJO. LOS CARTELES PUEDEN DECIR: "DOY CLASES DE INGLÉS", "SE ESCAPÓ MI PERRO", "EXTERMINE PARA SIEMPRE LAS CUCARACHAS DE SU COCINA" O "ENSEÑO A CAMINAR CON LAS MANOS".

UN QUIOSCO PUEDE LLAMARSE "ALIMAR", SI LOS HIJOS DEL DUEÑO SON ALICIA Y MARCELA, O "CARISOL", SI SON CARINA Y SOLEDAD.

E.E.E. Hospitalaria y Domiciliaria Dr. Guillermo Rawson Anexo Dr. Marcial
Quiroga - Segundo Grado, Ciclo Básico - Áreas Integradas

2) BUSCA Y MARCA LAS GOLOSINAS QUE SE ENCUENTRAN EN EL TEXTO. Y ESCRIBE 5 QUE NO ESTÉN MENCIONADAS.

DÍA 3: MATEMÁTICA.

-AYUDA A COMPLETAR LA PLANILLA DE LO QUE SE RECAUDÓ EN EL QUIOSCO.

MES	CAJAS DE 100	CAJITAS DE 10	PAQUETES	TOTAL
ENERO	5	1	9	519
FEBRERO				411
MARZO				506

MÚSICA:

1) ESCUCHA LA CANCIÓN DEL VIDEO "LA VACA LOLA".

https://www.youtube.com/watch?v=Cuycz7_IPVo

2) ENTONA LA CANCIÓN ACUMULATIVA.

DÍA 4: LENGUA.


1) **RECUERDA LO LEÍDO EL DÍA 2:** ESCRIBE CÓMO SE LLAMARÍA UN QUIOSCO SI LOS NOMBRES FUERAN:



2) ORDENA LOS NOMBRES DEL PUNTO ANTERIOR DE FORMA ALFABÉTICA.

DÍA 5: MATEMÁTICA.

-COMPRANDO EN EL QUIOSCO DE LA ESQUINA:



**E.E.E. Hospitalaria y Domiciliaria Dr. Guillermo Rawson Anexo Dr. Marcial
Quiroga - Segundo Grado, Ciclo Básico - Áreas Integradas**

ANDREA COMPRÓ UN CHUPETÍN Y UN CHOCOLATE CON LECHE QUE SALE \$7
¿CUÁNTO TIENE QUE PAGAR?

FÁTIMA COMPRÓ DOS ALFAJORES Y UN TURRÓN ¿CUÁNTO DEBE PAGAR?

ENTRE LO QUE PAGÓ ANDREA Y FÁTIMA ¿QUIÉN GASTÓ MÁS?

ARTES VISUALES:

RECUERDA O VUELVE A MIRAR UNA SERIE DE DIBUJOS ANIMADOS O UN CUENTO QUE TE GUSTE, PUEDES BUSCAR UNO POR INTERNET. DIBUJA UNA ESCENA O UN PERSONAJE. LUEGO NOMBRA LOS COLORES CON QUE LO PINTASTE Y COMENTALE A UN ADULTO LO QUE DIBUJASTE.

DÍA 6: CIENCIAS SOCIALES.

¿QUÉ SE CELEBRA EL 11 DE SEPTIEMBRE? TE INVITO A OBSERVAR EL SIGUIENTE VIDEO QUE RESPONDE A LA PREGUNTA.



https://www.youtube.com/watch?v=_NmtTjjh8Xo



TECNOLOGÍA:

1-MARCA CON UNA X LOS OBJETOS QUE HA CREADO EL HOMBRE.

**E.E.E. Hospitalaria y Domiciliaria Dr. Guillermo Rawson Anexo Dr. Marcial
Quiroga - Segundo Grado, Ciclo Básico - Áreas Integradas**



2-NECESIDAD DE SALUD: ESCRIBE O DIBUJA LOS PRODUCTOS QUE SE ESTÁN UTILIZANDO EN NUESTROS HOGARES PARA EVITAR EL CONTAGIO DEL VIRUS.

DÍA 7: LENGUA.

1) MARCA EN EL TEXTO “QUIOSCO”, TODOS LOS SUSTANTIVOS Y ADJETIVOS QUE ENCUENTRES, Y COLOCALOS EN EL SIGUIENTE CUADRO.

SUSTANTIVOS PROPIOS	SUSTANTIVOS COMUNES	ADJETIVOS

2) ESCRIBE ORACIONES, USANDO LAS PALABRAS QUE MARCASTE EN EL TEXTO DEL **DÍA 2**.

DÍA 8: CIENCIAS SOCIALES.

-COMPLETA EL SIGUIENTE CRUCIGRAMA SOBRE DOMINGO FAUSTINO SARMIENTO.

REFERENCIAS:

1					S								
2					A								
3					R								
4					M								
5					I								
6					E								
7					N								
8					T								
9					O								

1-PROVINCIA NATAL.

2-APELLIDO DE SU MADRE.

3-OCUPACIÓN POR LA CUAL PUBLICÓ LIBROS.

4-NOMBRE DE SU HIJO (DIMINUTIVO).

5-MÁXIMO CARGO POLÍTICO QUE OCUPÓ.

6-PAÍS LIMÍTROFE QUE LO RECIBIÓ DEL EXILIO.

7-CAUDILLO QUE DIÓ NOMBRE A SU OBRA MÁS FAMOSA.

8-PROFESIÓN POR LA QUE SE LO RECUERDA EL 11 DE SEPTIEMBRE.

9-NOMBRE DE UNO DE SUS PERIÓDICOS, IGUAL QUE EL DE UN VIENTO CUYANO.

E.E.E. Hospitalaria y Domiciliaria Dr. Guillermo Rawson Anexo Dr. Marcial
Quiroga - Segundo Grado, Ciclo Básico - Áreas Integradas

MÚSICA:

1) ESCUCHA EL VIDEO LA CANCIÓN "ME CONTÓ UN PAJARITO".

<https://www.youtube.com/watch?v=bqFxGgfF438>

2) ACOMPAÑA LA CANCIÓN CON PALMAS.

DÍA 9: LENGUA.

1) **QUIOSCO:** ¿RECUERDAS QUÉ DECÍAN LOS CARTELES QUE COLOCABAN EN EL TEXTO DEL **DÍA 2**? COPIALO EN TU CUADERNO.

2) OBSERVA LAS PALABRAS Y ARMA NUEVOS CARTELTES.



_____.

_____.

DÍA 10: MATEMÁTICA.

-COMPLETA EL SIGUIENTE CUADRO.

GASTÓ	PAGÓ CON...	VUELTO QUE RECIBE
\$32	\$50	
\$25	\$50	
\$17		\$3
	\$100	\$30

ARTES VISUALES:

TOMA O RECUERDA EL DIBUJO QUE REALIZASTE LA CLASE ANTERIOR E INVENTA UNA NUEVA HISTORIA PARA ESE PERSONAJE. COMENTA A UN ADULTO DE QUÉ SE TRATA TU DIBUJO.

Directora: Prof. Carla, Buchert.