

Pro.P.A.A. Zona Norte

Unidad Educativa N° 52

Docente: Prof. Marta Lucero

Primer Ciclo

Turno Tarde

CUE 7000662-21

Coordinadora Zonal: Lic. Juanita Luna

Propuesta Didáctica N° 1 (Desde el 16/03 al 31/03)

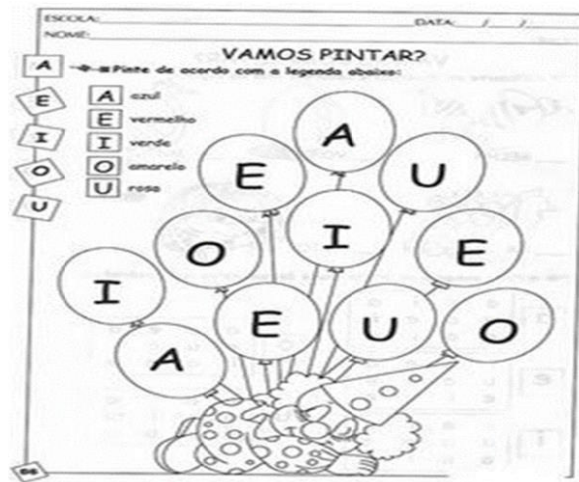
LENGUA

1- Encerramos con rojo las vocales y con azul las que reconocemos.


A a	B b	C c	D d	E e	F f
<i>A a</i>	<i>B b</i>	<i>C c</i>	<i>D d</i>	<i>E e</i>	<i>F f</i>
G g	H h	I i	J j	K k	L l
<i>G g</i>	<i>H h</i>	<i>I i</i>	<i>J j</i>	<i>K k</i>	<i>L l</i>
M m	N n	O o	P p	Q q	R r
<i>M m</i>	<i>N n</i>	<i>O o</i>	<i>P p</i>	<i>Q q</i>	<i>R r</i>
S s	T t	U u	V v	W w	X x
<i>S s</i>	<i>T t</i>	<i>U u</i>	<i>V v</i>	<i>W w</i>	<i>X x</i>
Y y	Z z				
<i>Y y</i>	<i>Z z</i>				

2- Copia las letras que pintaste de rojo.

3- Pinta según se indica.



4- Seguimos con las vocales. Pinta los objetos que comienzen como se indica y escribe los nombres.



5- Seguimos el caminito de cada vocal y luego las buscamos.

¡AQUÍ LLEGAN... LAS VOCALES!
LEE Y COLOREA CADA VOCAL. LUEGO UNE CADA UNA DE ESTAS LETRAS CON EL DIBUJO QUE LE CORRESPONDE TRAZANDO SOBRE LA LÍNEA DE PUNTOS. USA UN COLOR DISTINTO PARA CADA LETRA.

A E I O U

VOCALES ESCONDIDAS
BUSCA LAS LETRAS A, E, I, O, U Y DELINEÁLAS CON UN COLOR. LUEGO DELINEA EL RESTO DE LOS DIBUJOS CON OTRO COLOR.

I.E.D. ALBERTO ASSA SEDE "B"

69

6-Escribimos el nombre y pintamos con rojo las vocales.

MATEMATICA


1- Completamos la escala de 2 en 2.

Name _____ Date _____

Count by 2s.

www.worksheetfun.com

2- Escribe los números que nombra cada niño.



Voy a escribir los números de 5 en 5 desde el 0 al 50

*



A mí me toca los números de 10 en 10 desde el 100 al 190

- 3- Repasa en forma oral los números de 2 en 2, de 5 en 5 y de 10 en 10 junto a mamá.
- 4- Completa ahora los que se no se escribieron.

De 2 en 2

2 6 10 14 18 22

De 5 en 5

5 15 25 40 50

De 10 en 10

100 110 130 150 170

- 5- Completa la grilla.

600					605				
610									
630									
				654					

6- Ejercitamos.

● Escribe el número anterior y el número posterior.



<input type="text"/> ← 680 → <input type="text"/> <input type="text"/> ← 631 → <input type="text"/> <input type="text"/> ← 654 → <input type="text"/>	}	<input type="text"/> ← 679 → <input type="text"/> <input type="text"/> ← 610 → <input type="text"/> <input type="text"/> ← 600 → <input type="text"/>
---	---	---

7- Lee las pistas y descubrí los números.

El número más cercano a 600.....

Está entre el 623 y 635 y termina en 3:.....

El siguiente al número quinientos noventa y nueve:.....

El anterior al 659.....

2 U 6 C 7 D.....

6 C.....


El seiscientos cuatro.....

El doble de 150.....

CIENCIAS NATURALES

1- Une con flechas.

Une cada planta con su tipo.



Árbol

Arbusto

Hierba

FICHA: 05-04-04-005 © Grupo Geofonema S.L. mundoprimeria.com

2- ¿Con qué planta es elaborado este aceite?



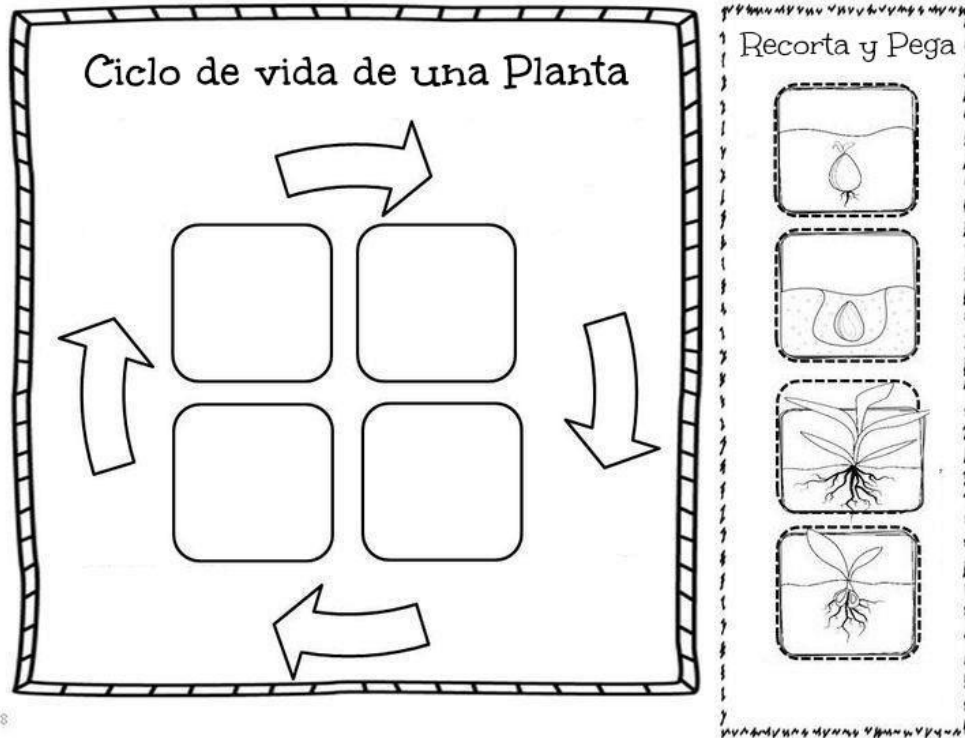
¿Y este?



¿Con qué planta fue elaborado el cuaderno?



3- Recorta y pega formando el “Ciclo de la vida”.



CIENCIAS SOCIALES

1- COMPLETA LA FICHA PERSONAL

Yo me llamo.....

Nací el:.....

Tengo..... años

Mi número de documento es:.....

Vivo en:.....

Mi familia está compuesta
por:.....

Mi País es :.....

Mi Provincia es:.....

Mi Departamento:.....