

GUÍA PEDAGÓGICA N° 23 DE RETROALIMENTACIÓN. (3)

Escuela: Capital Federal CUE : 700060700

Docentes: Paredes Pamela – Pillancar Laura.

Grado: 5° A y B Segundo Ciclo. Nivel Primario. Turno: Mañana - Tarde

Áreas: Matemática – Cs Naturales – Música – Tecnología.

Título de la propuesta: [EL VALOR DE NUESTRAS RAÍCES.](#)

Contenidos: Matemática: Numeración, Situaciones Problemáticas, Fracciones, Ángulos. Música: Patrimonio cultural local y regional, Forma. Estilo, Voz hablada. Ciencias Naturales: Sistema Respiratorio. Educación Física: Juegos Tradicionales.

Indicadores de evaluación para la nivelación:

Matemática: *Lee, escribe y compara números hasta la centena de millón. *Reconoce números por su valor posicional, en forma aditiva y multiplicativa. *Resuelve situaciones problemáticas con números naturales y fraccionarios. *Construye ángulos. **Ciencias Naturales:** *Reconoce los distintos órganos que constituyen el Sistema Respiratorio. *Describe el camino del aire dentro del sistema respiratorio. *Realiza descripciones sencillas en relación al cuerpo humano. **Educación Musical:** *Interpreta, analiza e identifica una producción que integra el patrimonio musical local, regional y nacional. *Explora sus posibilidades vocales en voz hablada. **Educación Física:** *Describe, elabora y practica juegos tradicionales autóctonos.

Desafío: Confeccionar folletos para promocionar nuestros puntos turísticos más tradicionales.

Actividades:

Por muy alta que sea una montaña,
siempre hay un camino hacia la cima.
Anónimo.

MATEMÁTICA. NUMERACIÓN

- 1) Robert quiere viajar este 10 de noviembre a una provincia Argentina con su familia en el día de la tradición y con sus hijos consultaron presupuestos por internet. Estos son algunos precios ...

✚ Agencia ATHAUALPA viaje a TIERRA DEL FUEGO pasajes avión + excursiones + hotel 5 estrellas + fiesta de 18....\$750.657

✚ Agencia DULCE TRADICIÓN viaje a CATARATAS DEL IGUAZU+ hotel 4 estrellas+ coordinación permanente+ tours en vía marítima. \$270.786

✚ Agencia LA FAUSTINA viaje a CARLOS PAZ+ hotel 5 estrellas+ cena show + 10 días. \$120.450

✚ Agencia MI SUEÑO para 4 personas TOUR NACIONAL+hoteles 5 estrellas...por 30 días para 5 personas a \$ 1.123.000

✚ Agencia ROCIO viaje a JUJUY por 15 días en avión a \$38.500 (PAQUETE ALUSINANTE)

- a) Ordena los precios de los paquetes de mayor a menor.
b) Robert cuenta con \$ 800.000 ¿En qué agencias puede pagar con ese dinero?
Marca con una X tu respuesta.

✚ Agencia ATHAUALPA viaje a TIERRA DEL FUEGO pasajes avión + excursiones + hotel 5 estrellas + fiesta de 18....\$750.657

✚ Agencia DULCE TRADICION viaje a CATARATAS DEL IGUAZU+ hotel 4 estrellas+ coordinación permanente+ tours en via maritima. \$270.786

✚ Agencia LA FAUSTINA viaje a CARLOS PAZ+ hotel 5 estrellas+ cena show + 10 días. \$120.450

✚ Agencia MI SUEÑO para 4 personas TOUR NACIONAL+hoteles 5 estrellas...por 30 días para 5 personas a \$ 1.123.000

✚ Agencia ROCIO viaje a JUJUY por 15 días en avión a \$38.500 (PAQUETE ALUSINANTE)

- c) Escribe cómo se lee el precio más barato de los viajes y el más caro.

- 2) Resuelve la siguiente situación problemática:

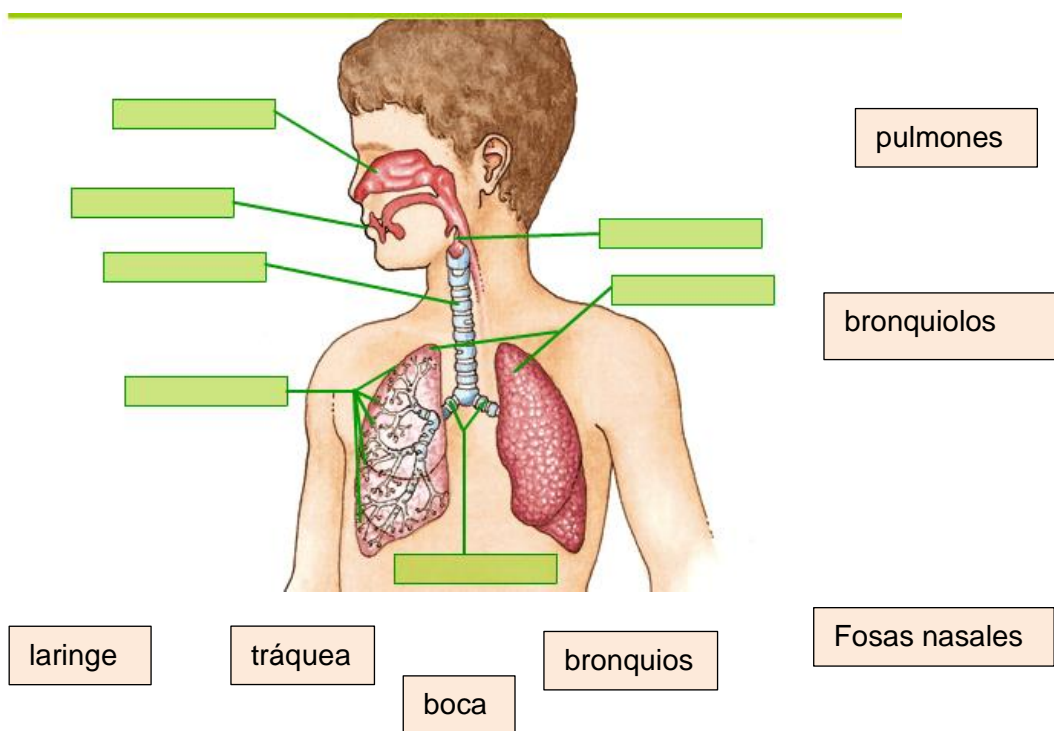
- a) En los meses de febrero y marzo 10 familias viajaron con la agencia ROCÍO ¿Cuánto recaudó el dueño en total?

GEOMETRÍA

- 3) Trazar el ángulo $abc = 90^\circ$ ¿Cuál es su nombre?

CIENCIAS NATURALES

- 1- Ubica los órganos del sistema respiratorio.



2. Completa las oraciones con los términos correspondientes.

ALVÉOLOS- OXÍGENO -RITMO TABACO- PULMONES

- ♥ El _____ se difunde desde los alveolos a la sangre.
- ♥ Los _____ son como dos esponjas llenas de millones de sacos de aire llamados alvéolos.
- ♥ Las sustancias químicas del _____ pueden causar cáncer en la boca, garganta y pulmones.
- ♥ El ejercicio aumenta el _____ de trabajo del corazón y los pulmones.
- ♥ El oxígeno pasa desde los _____ hacia la sangre que está en los capilares que los rodean.

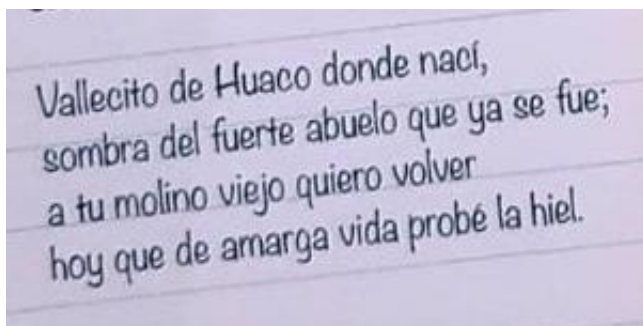
4. Lee atentamente y responde con oraciones.

a. ¿Por qué el asma dificulta la respiración?

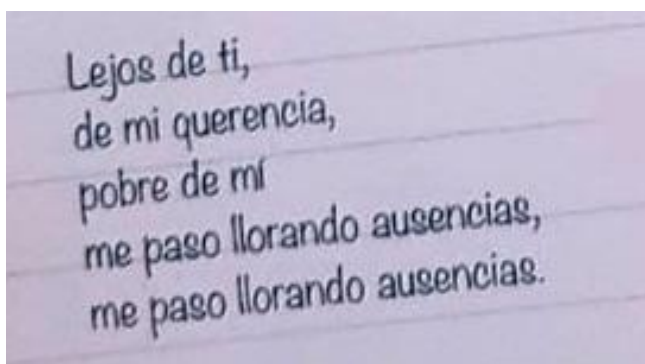
MÚSICA

❖ Lee la siguiente canción:

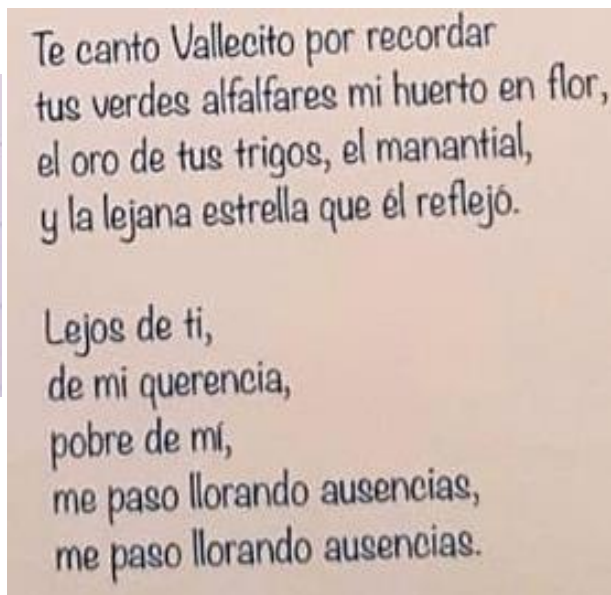
VALLECITO



Vallecito de Huaco donde nací,
sombra del fuerte abuelo que ya se fue;
a tu molino viejo quiero volver
hoy que de amarga vida probé la hiel.



Lejos de ti,
de mi querencia,
pobre de mí
me paso llorando ausencias,
me paso llorando ausencias.



Te canto Vallecito por recordar
tus verdes alfalfares mi huerto en flor,
el oro de tus trigos, el manantial,
y la lejana estrella que el reflejó.

Lejos de ti,
de mi querencia,
pobre de mí,
me paso llorando ausencias,
me paso llorando ausencias.

❖ Responde en tu cuaderno:

- ¿Escuchaste alguna vez esta canción?
- ¿Sabes quién es el autor? Escribe su nombre
- ¿De qué lugar de San Juan habla? ¿Lo conoces?

EDUCACIÓN FÍSICA

Elige uno de estos 3 juegos y manda a mi correo profeandrespereyra@hotmail.com una foto o video realizando el juego. Invita a tu familia a jugar. ¡Que te diviertas!

1. El broche y la sogá: Coloca broches en un recipiente (de 10 a 20). Cada participante deberá tomar de a un broche por vez, ir corriendo y colocarlo en la sogá. Gana el que coloca más broches.

2. El huevo y la cuchara: busca una cuchara y una pelotita (puede ser una pelota de papel). Debes caminar con la cuchara en tu boca, hasta algún lugar que elijas sin que se caiga el huevo o la pelota.

3. Carrera de tres pies: Primero debo formar parejas. Cada pareja debe atarse el pie derecho con el pie izquierdo del otro, y se inicia una carrera. Gana el primero que llega sin caerse a la meta. Marca una meta de llegada a 10mts o más. Dependiendo el espacio que tengas. También pueden estar agarrados espalda con espalda.



4. NO TE OLVIDES DE ENVIAR TU EVIDENCIA

Equipo Directivo: Juana Montaña, Zulma Orellano.