

EEE. India Mariana_ cuarto grado_ Áreas Integradas_ Inclusión.

Escuela: de Educación Especial India Mariana.

Docente: María Susana Rojas

Grado: cuarto **Segundo Ciclo** **Nivel Primario**

Turno: tarde

Áreas integradas: Matemática, Lengua, Ciencias Sociales, Ciencias Naturales y Formación Ética y Ciudadana.

Título de la propuesta: “Cultivando hábitos saludables cuidamos nuestra salud”

Contenidos: Matemática: Números Naturales hasta 100 mil. Regularidades de la serie oral y escrita. Valor posicional de las cifras. Situaciones de suma, resta, multiplicación y división. Lengua: palabras y oraciones. Familia de palabras. Texto instructivo. Ciencias Naturales: Hábitos de buena salud. Alimentación e higiene. Ciencias Sociales: Derecho a la salud. Formación Ética y Ciudadana: Buenos ciudadanos.

Actividades:

Día 1: Matemática: Numeración.

- **Complete** contando el siguiente cuadro.
- **Nombre** cada número en voz alta.

+	100	200	300	400	500	600	700	800	900
10.000									
20.000									
30.000									
40.000									
50.000									
60.000									
70.000									
80.000									
90.000									

- **Mirando** el cuadro. **Escriba** los números en la recta numérica bien ubicados.

0 10.000 20.000 30.000 40.000 50.000 60.000 70.000 80.000 90.000



- **Ordene** los siguientes números de menor a mayor.

15.000 _ 6.000 _ 45.000 _ 78. 500 _ 78.000 _ 20.900 _ 69.000 _ 32.000

EEE. India Mariana_ cuarto grado_ Áreas Integradas_ Inclusión.

Lengua: Lectura de colmos:

- **Lea y copie** para recordar con facilidad cada uno de estos colmos.



Día 2: **Matemática**

Situaciones problemáticas:

- **Lea, piense y resuelva:**

El dueño de una maderera decidió plantar pinos, compró 12. 846 plantas, los quiere plantar en 4 hileras ¿Cuántos pinos plantará en cada hilera?

Cuenta

Respuesta:


Para la función de patín, en el club, colocaron 38 filas de sillas con 6 sillas cada una. ¿Cuántas sillas colocaron en total?

Cuenta

Respuesta:

Ciencias Naturales: Hábitos saludables.

- **Observe** cada imagen y **pinte** las caritas alegres según si es beneficio para la salud y la triste donde vea que es malo para la salud.



EEE. India Mariana_ cuarto grado_ Áreas Integradas_ Inclusión.







Responda:

¿Qué significa para vos tener hábitos saludables?

Escriba una lista de hábitos saludables. Por ejemplo: practicar deportes.

Día 3: Lengua

- **Copie** las fichas.
- **Descubra** y **pinte** en las opciones la letra que falta en cada palabra.
- **Escriba** las letras correctas para formar la palabra.

<p>_orrió_ b n q g p</p> 	<p>_an_ueque g d q p a</p> 
<p>_ilma_o_a t r n b d f</p> 	<p>p_i_cesa d m r l n f</p> 
<p>c_oco_a_e b f h r l t</p> 	<p>bicic_e_a t f d l h</p> 

- **Lea** cada definición y **piense** qué verbo le corresponde a cada una.

1. Unir con puntadas de hilo.
2. Preparar comida.
3. Entonar canciones.
4. Unir cosas con pegamento.
5. Destruir algo con fuego.
6. Desplazarse con pasos muy rápidos.
7. Dejar de dormir.
8. Arreglar el cabello.
9. Decir lo que se piensa sobre un tema.
10. Entregar dinero a cambio de algo.



Como ayudita algunos verbos: quemar, correr, despertar, opinar, comprar,

Día 4: Matemática Los números.

- **Escriba** como se leen los siguientes números.

10.015 = diez mil quince.

24.711=

35.040=

61.803=

EEE. India Mariana_ cuarto grado_ Áreas Integradas_ Inclusión.

- **Complete** con los números anteriores y posteriores.

Uno menos	Número	Uno más
.....	15.892
.....	49.990
.....	80.000

- **Observe** el valor posicional de cada número.
- **Rodee** el valor que tiene el número pintado.

14.746

26.453

70.000 7.000 700 70 7 50.000 5.000 500 50 5

- **Complete** el siguiente cuadro con los resultados de las sumas entre los números de la izquierda y las cantidades de arriba.

	+ 1	+10	+100	+ 1.000	+ 10.000
10.000					
56.670					
35.578					

Lengua

¡Vamos a leer!

- **Lea, copie y una** con una flecha: ¿a qué objeto pertenece cada descripción?

Tiene pedales, volante y cuatro ruedas. Su asiento es negro y tiene freno de mano para estacionarlo fácilmente.

Es muy veloz. Tiene dos ruedas, una hélice y cuando lo empuja suena.

Es musical con seis melodías y luces. Funciona con pilas por eso es sin cables. Tiene botón de aplausos.



Día 5: Lengua

Ciencias Naturales

Debemos cultivar hábitos de buena salud:


- **Lea** con atención el siguiente texto y **péguelo** en el cuaderno.

¿Por qué tenemos que lavarnos las manos?

¿Sabías que muchas veces tus manos tocan cosas que vos ni siquiera podés ver? Estas cosas se llaman gérmenes y son tan pero tan chiquitos que para verlos se necesita un microscopio.

Los gérmenes que están en las manos muchas veces entran en nuestro cuerpo y nos enferman; otras veces los vamos desparrramando por todos lados, cuando tocamos un picaporte, un muñeco, un libro o cuando saludamos con un fuerte apretón de manos a un amigo, y así se enferman otras personas.

Tenemos que lavarnos las manos para sacar los gérmenes y evitar así muchas enfermedades.



- **Elija** la opción correcta.
- **Copie** la oración completa en el cuaderno.

Tenemos que lavarnos las manos para ...

1. Que estén perfumadas.
2. Sacar los gérmenes.
3. Poder tocar las cosas.

Ciencias Sociales

1. **Lea** atentamente el siguiente slogan.

2. **Busque** en el diccionario la palabra **derecho**.

3. **Averigüe** en internet qué plan provincial fomenta el derecho a la salud en la primera infancia.



El derecho a la salud obliga al estado a garantizar el mismo acceso a la salud a todos los habitantes del pueblo.

Día 6: Lengua Formación Ética y Ciudadana

Buenos ciudadanos: **Lea** el siguiente texto.



- **Copie y responda** en su cuaderno.
 1. ¿Qué hacen los amigos todas las tardes?
 2. ¿Qué le propuso Francisco a su amigo?
 3. ¿Qué le pasó al nene mientras corría la carrera?
 4. ¿Qué lección aprendió el nene?
- **Marque** la opción **correcta**:

Para andar seguros en la bicicleta debemos

 - USAR CASCO.
 - SOLTAR EL MANUBRIO Y ANDAR SIN LAS MANOS.
 - ANDAR DESPACIO.
 - DIRCULAR POR LOS LUGARES PERMITIDOS.
 - MIRAR PARA ATRÁS MIENTRAS MANEJAMOS.
 - ANDAR MUY RÁPIDO.
 - CIRCULAR ENTRE LOS AUTOS.

Día 7: **Matemática**

- Pinte de igual color cada división y su resultado en cada tabla.



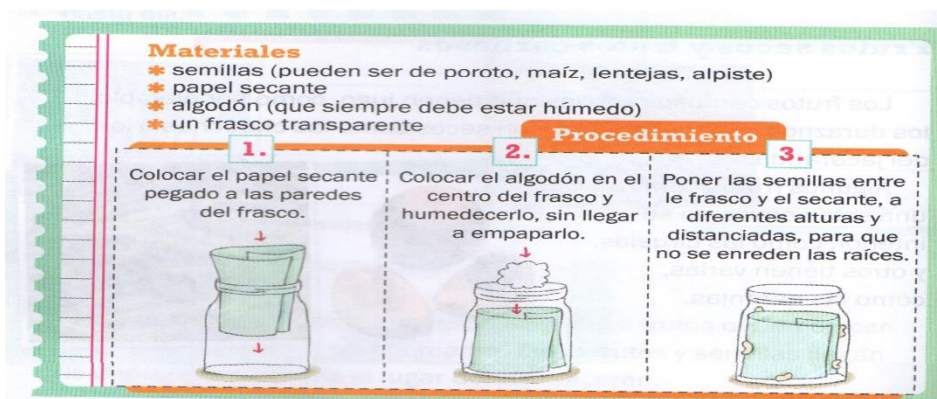
20 : 4	36 : 4	12	4
40 : 4	8 : 4	8	3
12 : 4	28 : 4	6	5
44 : 4	16 : 4	2	1
4 : 4	32 : 4	11	7
48 : 4	24 : 4	10	9

Día 8: **Lengua**

Lea el siguiente texto instructivo:

EEE. India Mariana_ cuarto grado_ Áreas Integradas_ Inclusión.

- Copie en el cuaderno.



Recuerde: El tipo de texto que presenta indicaciones para seguir las reglas de un juego, un procedimiento o una receta de cocina se llama TEXTO INSTRUCTIVO, este texto no es ficcional, nos permite culminar una actividad y es de circulación social, es decir lo podemos encontrar en revistas, diarios, manuales, juegos, etc.

Siguiendo instrucciones:

- 1. **Señale** con una cruz **X** la opción correcta:
- **Una receta es:** un texto instructivo un texto informativo
- **Podemos encontrar una receta en:** libro de cuentos libro de cocina.
- **Otro ejemplo de texto que da instrucciones es:**
Una noticia las instrucciones de como jugar un juego de mesa.

Recordando la familia de palabras:

- **Descubra** en cada familia la palabra intrusa puede consultar el diccionario:

Frutería	Panadería	Helado
Frutera	Panera	Heladera
Frutos	Páncreas	Helión
Fritura	Pan	Heladero

Formación ética y Ciudadana.

1. Buenos ciudadanos: **Realice** una lista con concejos sobre en el hogar y en los lugares públicos, calle, plaza, supermercado.

Día 9: **Matemática**

- **Lea, piense y resuelva:**

Don Mariano necesita equipar una cabaña para hospedar turistas, tiene que comprar una heladera \$ 53.478, un ventilador de pie \$ 7490, una mesa con 6 sillas a \$36.978, y una cocina a \$ 42.720. ¿Cuánto gastará en total?

Cuenta

Respuesta:

Para comprar una cortadora de pasto que cuesta \$ 16.849, don Osvaldo pagó una cuota de \$ 7.978, ¿Cuánto dinero le falta para pagar la última cuota?

Ciencias Naturales

- **Investigue y responda:**

¿Por qué es importante mantener hábitos saludables?

¿Por qué crees que es indispensable el lavado de manos antes de cada comida?

¿Cuánta actividad física realizan los miembros de tu familia? (correr, caminar, ejercitarse en gimnasios y/o plazas).

Día 10: Lengua

- **Mire con atención y escriba un título para esta imagen:**



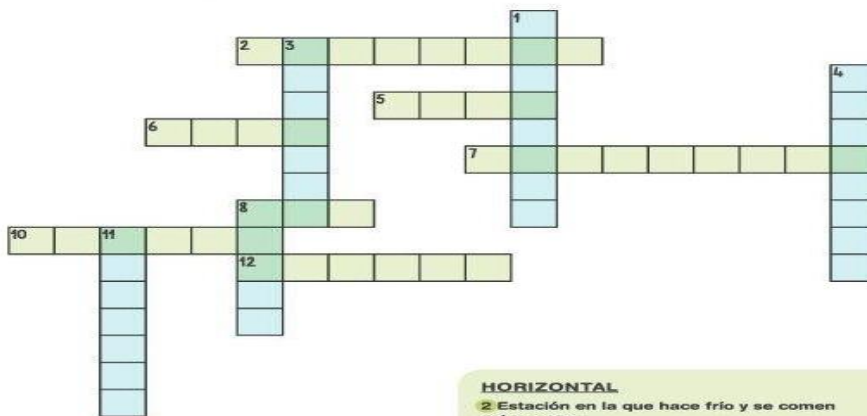
• **ORDENÁ** LOS PASOS QUE SIGUIÓ FEDERICO PARA ARMAR SU ÁLBUM.

• **ESCRIBILOS** ORDENADOS EN TU HOJA:

EL PAPÁ LE REGALÓ UN ÁLBUM CON HOJAS EN BLANCO. FEDERICO SE TOMÓ FOTOS CUANDO FUE DE VACACIONES A LA CASA DE SU ABUELA. FEDERICO PEGÓ LAS FOTOS QUE MÁS LE GUSTABAN. CUANDO REGRESÓ A SU CASA, CON AYUDA DE SU MAMÁ IMPRIMIÓ LAS FOTOS.

Ciencias Naturales (se envía por WhatsApp)

CRUCIGRAMA DE ALIMENTACIÓN SALUDABLE



VERTICAL

- 1 Si juntamos lechuga, tomate y aceitunas, tenemos una...
- 3 Fruta que tiene el mismo nombre que un color.
- 4 Primera comida del día.
- 6 Las uvas secas se llaman...
- 11 Actividad en la que se preparan y se cuecen los alimentos.

HORIZONTAL

- 2 Estación en la que hace frío y se comen coles, sopa...
- 5 Cuando tenemos mucha sed, bebemos...
- 6 Animal del que se obtiene la leche.
- 7 Verdura de color naranja que crece bajo tierra.
- 8 Alimento hecho de harina con el que se preparan bocadillos.
- 10 Lugar de la casa en el que se preparan los alimentos.
- 12 Pescado de color naranja-rosado.

Director: Raúl Riveros

Vice directoras: Claudia Gonzales y Andrea Siri.