

GUÍA PEDAGÓGICA N° 24 DE RETROALIMENTACIÓN (2)

Escuela: Dr. Guillermo Rawson

CUE: 7000601-00-

Docentes: Carlota. Ocampo /Irene. Pérez

Grado: Primero "A" y "B" Ciclo: Primero Nivel: Primario Turno: Mañana

Título de la Propuesta: "INTEGRAMOS HÁBITOS DE ALIMENTACIÓN SALUDABLES"

Contenidos: Matemática: Lectura y escritura de Números hasta el 99 .Relaciones Numéricas .Signos $><$ =. Lengua: Escritura de palabras y oraciones. Producción escrita. Cs. Sociales: Comidas típicas argentinas. Cs. Naturales: Alimentación saludable. Hábitos Alimentarios. Ética: El cuidado de la salud.

Indicadores de logro: Matemática: Lee y escribe números hasta el 99 Establece relaciones numéricas con signos $><=$ Resuelve situaciones Problemáticas Realiza cálculos mentales Lengua: Lee, interpreta y responde preguntas acerca de un texto Escribe palabras y oraciones a partir de imágenes. Comprende consignas orales Produce textos sencillos Cs. Sociales: Distingue las comidas típicas argentinas. Cs. Naturales: Distingue los hábitos de alimentación más adecuados. Ética: Valora las costumbres familiares y las comidas típicas que son propias de su país.

Desafío: ARMAMOS UN MENÚ CON ALIMENTOS SALUDABLES


Actividades:

1) LEE CON ATENCIÓN LA ADIVINANZA

LENGUA



1) ESCRIBE LA RESPUESTA Y PINTE



2) LEE Y RESPONDE:

¿DE QUÉ COLOR ES LA FRUTA?

.....

¿DE QUÉ FORMA SE PUEDE COMER?

.....

¿COMES ESTA FRUTA A MENUDO?

.....

3) ESCRIBE DOS ORACIONES SOBRE LA FRUTA QUE MÁS LE GUSTE.

.....

.....

4) ORDENE LA SECUENCIA Y ESCRIBE LO QUE VE EN CADA IMAGEN.



MATEMÁTICA

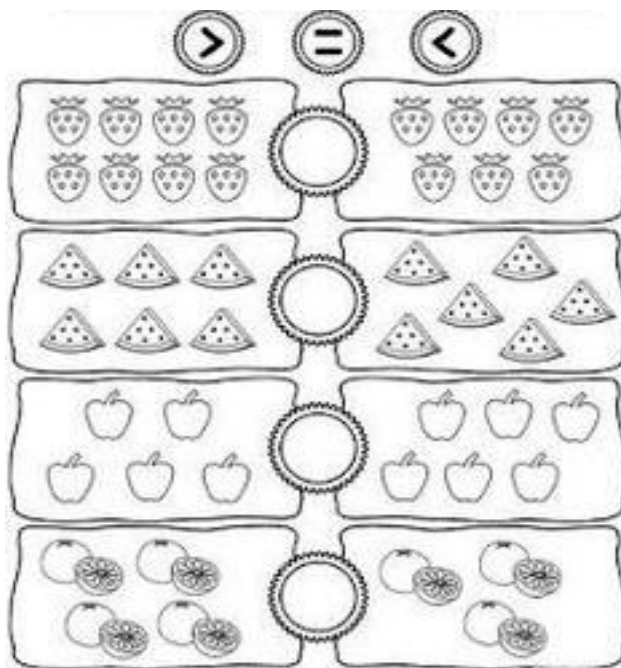
1) COMPLETE CON TODOS LOS NÚMEROS QUE FALTAN

EL PRINCIPE SUBIÓ PISANDO ESTOS LADRILLOS. BUSCALOS Y PINTALOS

SETENTA Y NUEVE
 CINCUENTA Y SEIS
 CATORCE
 VEINTIDÓS
CUARENTA Y CINCO
SESENTA Y OCHO
TREINTA Y CUATRO
CINCO

Docentes: Carlota. Ocampo/ Irene. Pérez

2) COMPARE LAS IMÁGENES Y COLOQUE EL SIGNO



3) LEE, PIENSE Y DIBUJE

A) UN ÁRBOL TIENE 12 MANZANAS Y EL OTRO TIENE 7 MANZANAS MÁS ¿CUÁNTAS MANZANAS HAY EN TOTAL?



RESPUESTA: HAY EN TOTAL MANZANAS.

B) COLOREE LAS RESPUESTAS CORRECTAS

PARA RESOLVER EL PROBLEMA ¿QUÉ TIENES QUE HACER?

ENTONCES QUÉ OPERACIÓN ELEGIRÍAS

AL FINAL JUNTARÍAS O MANZANAS.

C) SI DEL ÁRBOL SE CAYERON 8 MANZANAS ¿CUÁNTAS QUEDARON?

Docentes: Carlota. Ocampo/ Irene. Pérez


DIBUJE, REALICE LA CUENTA Y ESCRIBE LA RESPUESTA.

$$\square + \bigcirc + \square =$$

RESPUESTA: QUEDARON MANZANAS

CIENCIAS NATURALES

1) MIRE CON ATENCIÓN LA RULETA DE LA VIDA SALUDABLE



2) ESCRIBE LAS DOS ACCIONES QUE VE EN CADA UNA DE LAS PARTES DE ESTA RULETA SALUDABLE

HIGIENE

.....

.....

DIVERSIÓN

.....

.....

PREVENCIÓN

.....

.....

ALIMENTACIÓN

.....

.....

Docentes: Carlota. Ocampo/ Irene. Pérez

CIENCIAS SOCIALES

3) OBSERVE LA IMAGEN Y ARME UN MENÚ CON COMIDAS TÍPICAS ARGENTINAS



FORMACIÓN ÉTICA

1) LEE CON ATENCIÓN Y REALICE LAS ACTIVIDADES

¿QUE ENTENDEMOS POR "TRADICIÓN"?

¡CONJUNTO DE CREENCIAS Y COSTUMBRES QUE NOS IDENTIFICAN COMO PUEBLO Y QUE NOS DISTINGUEN DE OTROS.

OBSERVE Y PINTE AQUELLOS DIBUJOS QUE REPRESENTAN LAS COSTUMBRES PROPIAS DE NUESTRO PAÍS.

HABLE CON SU FAMILIA Y ESCRIBA LAS COSTUMBRES QUE TIENEN HOY EN DÍA.

DIRECTORA ESTELA CARBAJAL
Docentes: Carlota. Ocampo/ Irene. Pérez

VICEDIRECTORA SILVIA OVIEDO