

GUÍA PEDAGÓGICA N.º 24 DE RETROALIMENTACIÓN GRUPO 1

Escuela: Virginia Moreno De Parkes

CUE:700056000

Docentes: Beatriz Isabel García, Sonia Garrido

Grado: 1º

Ciclo: Primero

Nivel: Primario

Turno: Jornada Completa

ÁREAS: Matemática- Ciencias Naturales

TÍTULO DE LA PROPUESTA: “JUGANDO APRENDEMOS”

CONTENIDOS:

Matemática:

- Usar números naturales de una, dos y más cifras.
- Lectura, escritura y comparación números de una, dos y más cifras.
- Uso de las operaciones de adición y sustracción en situaciones problemáticas.
- Realizar cálculos exactos de números de una y dos cifras, en forma mental o escrita en función de los números involucrados.
- El reconocimiento cuerpos geométricos.
- Identificación de instrumentos de medición.

Ciencias Naturales:

- Materiales líquidos y sólidos: Diferencias entre líquidos y sólidos.

INDICADORES:

- Lee, escribe y compara números de dos o más cifras.
- Compone números en unos y dieces.
- Descompone números en unos y dieces.
- Resuelve problemas que involucren el uso del dinero.
- Distingue cuerpos geométricos.
- Reconoce el instrumento de medición adecuado.
- Diferencia materiales líquidos y sólidos.
- Reconoce características de los materiales líquidos.

DESAFÍO: “Armar un mini supermercado para practicar tus primeras compras solitos”.

ACTIVIDADES:

LUNES 16 DE NOVIEMBRE: LENGUA

COMENZAMOS UNA NUEVA GUÍA Y CON ELLA UN NUEVO DESAFÍO A REALIZAR.
¡COMENZAMOS!

- LEE CON MUCHA ATENCIÓN:

TODOS LOS VIERNES MARTINA VA AL SUPERMERCADO CON SU FAMILIA A COMPRAR. LLEVAN UNA LISTA CON TODO LO QUE TIENEN QUE COMPRAR. MIENTRAS SU MAMÁ CARGA LA



Escuela "Virginia Moreno de Parkes"- 1ºgrado, Nivel Primario- Áreas Integradas

COMPRA EN EL COCHE. EL PAPÁ VOLVIÓ A ENTRAR AL SUPER PORQUE SE OLVIDARON LA LECHE.

- RESPONDE:
 - ¿QUIÉNES VAN AL SUPERMERCADO?
 - ¿QUÉ LLEVAN?
 - ¿QUÉ SE OLVIDARON?
 - ¿TE GUSTA ACOMPAÑAR A MAMÁ A HACER LAS COMPRAS?
 - ¿HAS IDO SOLITO A COMPRAR?
 - ¿QUÉ DEBES LLEVAR PARA COMPRAR?
 - ¿QUÉ NO DEBES OLVIDAR DESPUÉS DE PAGAR?
 - ¿JUGASTE EN CASA AL SUPERMERCADO CON TUS HERMANOS?
- EN ESTA GUÍA TE DESAFÍO A PRACTICAR CON BILLETES, PARA QUE LUEGO AMBIENTES UN LUGAR DE TU CASA, COMO UN SUPERMERCADO, DISTRIBUYAN LOS ROLES DE VENDEDOR Y CLIENTE, DISFRUTES JUGANDO Y REALICES TUS PRIMERAS PRÁCTICAS DE COMPRAS
- DIBUJA LO QUE MÁS TE GUSTA CUANDO VAS AL SUPERMERCADO Y ESCRIBE UNA ORACIÓN REFERIDA A LO QUE DIBUJASTE.

MARTES 17 DE NOVIEMBRE: MATEMÁTICA – CIENCIAS NATURALES.

- LA MAMÁ DE MARTINA OBSERVA Y COMPARA PRECIOS:
 - ¿CUÁL ES EL PAQUETE DE GALLETITAS QUE TIENE EL PRECIO MAYOR?



RODÉALO Y ESCRIBE COMO SE LEE.



- ¿CUÁL ES EL JUGO QUE TIENE EL PRECIO MENOR?

RODÉALO Y ESCRIBE COMO SE LEE.



Escuela “Virginia Moreno de Parkes”- 1ºgrado, Nivel Primario- Áreas Integradas

- MARTINA LLEVABA ESTOS BILLETES PARA COMPRAR CEREALES ¿CUÁL DE LOS CEREALES PUDO COMPRAR? RODÉALO.



- MIENTRAS REALIZAN LAS COMPRAS LLEVAN DOS CARROS, EN UNO COLOCAN TODOS LOS ALIMENTOS SÓLIDOS Y EN EL OTRO TODOS LOS ALIMENTOS LÍQUIDOS.
- OBSERVA Y AYÚDALAS A COLOCAR LOS ALIMENTOS UNIÉNDOLOS CON FLECHAS AL CARRO QUE CORRESPONDA.



MIÉRCOLES 18 DE NOVIEMBRE: CIENCIAS NATURALES.

- OBSERVA LOS PRODUCTOS LÍQUIDOS QUE COMPRARON, ECRÍBELES SUS NOMBRES.



.....

.....

.....

.....

.....

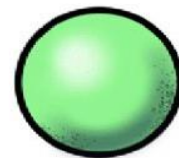
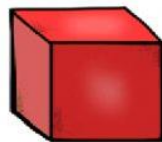
Escuela "Virginia Moreno de Parkes"- 1ºgrado, Nivel Primario- Áreas Integradas

- RODEA CON ROJO LOS LÍQUIDOS TÓXICOS Y CON VERDES LOS POTABLES.
- DIBUJA ALIMENTOS SÓLIDOS QUE GUARDARÍAS EN ...



MATEMÁTICA

- OBSERVA LAS SIGUIENTES GOLOSINAS Y UNE CON FLECHAS CON EL CUERPO GEOMÉTRICO AL QUE SE PARECE.



- ESCRIBE EL NOMBRE DE LOS CUERPOS ANTERIORES.

JUEVES 19 DE NOVIEMBRE: MATEMÁTICA.

- LOS CHICOS VAN A COMPRARSE UNAS FRUTAS PARA MEREDAR Y SACAN PLATA DE SUS ALCANCIAS.
- MARTINA TIENE EN SU ALCANCÍA 3 BILLETES DE \$10 Y 7 MONEDAS DE \$1 ¿CUÁNTO DINERO TIENE?
- DIBUJA LOS BILLETES DE \$ 10 Y LAS MONEDAS DE \$ 1, FORMA EL NÚMERO Y ESCRÍBELO EN LA ALCANCÍA



Escuela “Virginia Moreno de Parkes”- 1ºgrado, Nivel Primario- Áreas Integradas

- LUCAS TIENE EN SU ALCANCÍA 7 BILLETES DE \$ 10 Y 5 MONEDAS DE \$ 1 ¿CUÁNTO DINERO TIENE?
- DIBUJA LOS BILLETES DE \$ 10 Y LAS MONEDAS DE \$ 1, FORMA EL NÚMERO Y ESCRÍBELO EN LA ALCANCÍA.



- LEE LAS OFERTAS QUE OFRECE LA FRUTERÍA.



FRUTERÍA “DOÑA PEPA”

OFERTAS

- ❖ BANANAS \$15 CADA UNA
- ❖ NARANJAS \$ 12 CADA UNA
- ❖ MANZANAS \$ 14 CADA UNA
- ❖ SANDÍA \$ 73

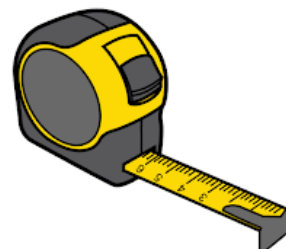
- MARTINA COMPRÓ UNA BANANA Y UNA NARANJA ¿CUÁNTOS DINERO GASTÓ?
- ¿CUÁNTO DINERO LE QUEDÓ?
- LUCAS SE COMPRA DOS NARANJAS ¿CUÁNTO GASTÓ?
- ¿CUÁNTO DINERO LE QUEDÓ?
- LA MAMA LLEVÓ UNA SANDÍA ¿CUÁNTO BILLETES DE \$10 Y MONEDAS DE \$1 NECESITARÁ? DIBÚJALOS.
- ¿CUÁL DE ESTOS INSTRUMENTOS DE MEDICIÓN NECESITA DOÑA PEPA PARA PESAR SUS FRUTAS? RODÉALO Y ESCRIBE SU NOMBRE.



.....



.....



.....

VIERNES 20 DE NOVIEMBRE: MATEMÁTICA – LENGUA.

MATEMÁTICA:

- PARA JUGAR AL SUPERMERCADO A COMPRAR O VENDER DEBES PRACTICAR CÁLCULOS MENTALES ¡A EJERCITARLOS Y ESCRIBIRLOS!
- MARTINA TIENE \$ 10 Y LE REGALARON \$ 3 MÁS. AHORA TIENE.....
- LUCAS TENÍA \$ 51 Y SU PAPÁ LE DIO \$ 10 MÁS. AHORA TIENE....
- CUANDO MARTINA FUE A COMPRAR TENÍA \$ 19, PERO SE LE PERDIERON \$ 2. AHORA TIENE....
- LUCAS QUIERE COMPRAR UNA BARRITA DE CHOCOLATE DE \$15 Y TIENE \$20, ¿CUÁNTO LE DARÁN DE VUELTO?
- LUEGO DE HABER EJERCITADO CÁLCULOS MENTALES, SUMAS Y RESTAS CON BILLETES LLEGÓ LA HORA DE ELABORAR EL DESAFÍO.
- CONSTRUYE UN KIOSCO CON ENVASES VACÍOS, CAJAS DE GALLETAS Y ENVOLTURAS. COLOCA LOS PRODUCTOS SÓLIDOS EN UNA ESTANTERÍA Y EN OTRA LOS LÍQUIDOS.
- PUEDES UTILIZAR ALGÚN MATERIAL QUE SIMULE SER UNA BALANZA.
- CONFECCIONA BILLETES Y MONEDAS O UTILIZA, SI TIENES, LOS DE COTILLÓN QUE SIMULAN DINERO DE LA VIDA REAL.
- ESCRIBE EL NOMBRE DE LOS PRODUCTOS Y COLOCA LOS PRECIOS.
- APLICA TODO LO APRENDIDO, A JUGAR Y A DIVERTIRSE COMPRANDO, ENVÍAME UNA FOTO DEL SUPERMERCADO QUE ARMASTE Y LUEGO LA SEÑO LA COMPARTIRÁ EN EL GRUPO.

¡FELICITACIONES! ¡DESAFÍO CUMPLIDO!

DIRECTORA: ESTELA FLAQUÉ