

Guía N 19 de retroalimentación. Escenario 2 y 3

Nocturna Monseñor Audino Rodríguez y olmos

Docente: Patricia Muñoz

CICLO: 3

Turno: vespertino

Título: UN ESFUERZO MAS....

CONTENIDOS

LENGUA

Producción de textos

Acentuación y tildación: reglas básicas de acentuación (agudas, graves y esdrújulas)

MATEMATICA

Triángulos. Clasificación según sus lados y ángulos.

Situaciones problemáticas usando las 4 operaciones

SOCIALES

Democracia y ciudadanía activa. Responsabilidad ciudadana

ETICA

Los derechos humanos en Argentina

EDUCACION PARA EL TRABAJO

El trabajo independiente

CIENCIAS NATURALES

Cambios de estado de la materia y su relación con la temperatura.

TECNOLOGIA

Experimento sobre los cambios de la materia.

1 Resuelve

A Ana, Eva y Luis les gusta mucho ver el cielo de noche. Entre los 3 han comprado un telescopio que ha costado 5.250 euros. ¿Cuánto dinero ha tenido que aportar cada uno?

María compró para el cumpleaños de sus hijos 123 alfajores, si cada uno sale 6 ¿Cuánto gastó en total?

Tobías compró para las fiestas un pantalón 1.450, una remera 980 y una jorra a 625 ¿Cuánto gastó en total?

Une según corresponda

$$\begin{array}{r} 460 \\ \times 2 \\ \hline \end{array}$$

$$\begin{array}{r} 314 \\ \times 3 \\ \hline \end{array}$$

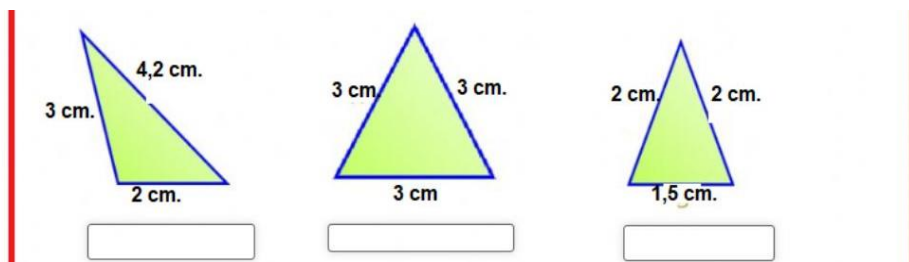
$$\begin{array}{r} 156 \\ \times 4 \\ \hline \end{array}$$

942

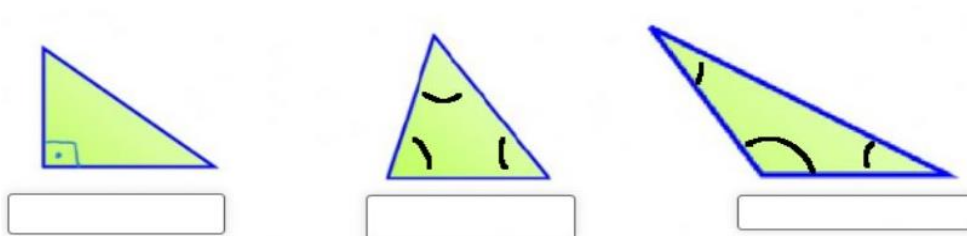
624

920

Clasifica los triángulos según sus lados (equilátero, escaleno isósceles)




Clasifica los siguientes triángulos según sus ángulos.



1-

Observa la historieta y escribe lo que crees que dice los personajes



Observa las siguientes palabras y clasifica en aguda grave o esdrújula.

José:

Pérez:

Océano:

México:

Separa en sílabas y clasifica las palabras según su acentuación

Palabra	Divide en sílabas	Selecciona aguda, grave o esdrújula
zapato	za-pa-to	grave
París		
áspera		
azúcar		
caminar		
fútbol		
botón		
crédito		
Ángel		
lágrima		
café		
águila		
verano		
plátano		
bebé		

Pinta la historieta donde si hay democracia.



Observa las definiciones y coloca cual es el trabajo dependiente e independiente

empleador, que fija las condiciones de trabajo del empleado en una actividad lícita, y a cambio le asigna una remuneración, que debe acordarse de acuerdo a la pauta constitucional de ser un salario digno, mínimo, vital y móvil. La ganancia obtenida por el trabajo del empleado es para el empleador.
-Considerar al trabajador como la parte más débil de la relación, pues si bien las normas que lo regulan son fijadas por las partes en el contrato de trabajo

son aquellos/as trabajadores/as por cuenta propia que ejercen sus actividades laborales de manera libre, sin que exista una relación de dependencia con un empleador, y que además no emitan Boletas de Honorarios por sus actividades laborales.
Estos trabajadores/as desempeñan su labor de manera autónoma e independiente

Observa la sopa de letra y encuentra los derechos humanos

Derecho Humanos



- | | | |
|-------------|-------------|--------------|
| universal | necesidades | individuales |
| declaracion | vida | dignidad |
| humanos | sociales | respeto |
| igualdad | proteger | capacidad |
| digna | derechos | personas |

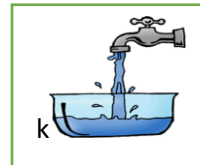

Une con flecha según corresponde



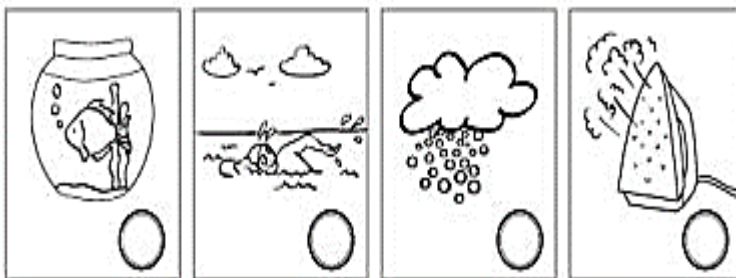
El agua en estado **líquido**
es el agua que bebemos,
la encontramos en el río,
en los mares y en los océanos.

El agua en estado **sólido**,
está muy muy fría.
La encontramos en el nieve,
y en el congelador de María.

El agua en estado **gaseoso**,
es el agua caliente.
La encontramos en la nubes
y en un puchero ardiente.



Coloca en qué estado esta cada imagen



Coloca un ejemplo de sólido, líquido y gaseoso.

En tu casa realiza un experimento donde se pueda ver el agua en sus tres estado (saca una foto y envíale a la seño)

