

Pro.P.A.A. ZONA NORTE UE 014

DOCENTE: JOSE DANIEL ARNAEZ MARTINEZ

NIVEL: II CICLO

TURNO: MAÑANA

COORDINADORA ZONAL: Lic. JUANITA LUNA

GUIA DE RETROALIMENTACION N° 1

➤ **PROPOSITOS:**

- Interpretar adecuadamente la información cuantitativa que reciben por diferentes vías, así como resolver problemas aritméticos, desarrollar habilidades de cálculo ampliando el repertorio construido con números naturales (cálculo mental, calculadora).
- Vincular las expresiones decimales - su lectura y escritura
- Resolver problemas
- Visualizar, identificar, describir, comparar, representar figuras y cuerpos geométricos

➤ **CAPACIDADES:**

- Aprender a aprender
- Resolución de problemas

➤ **CONTENIDOS:**

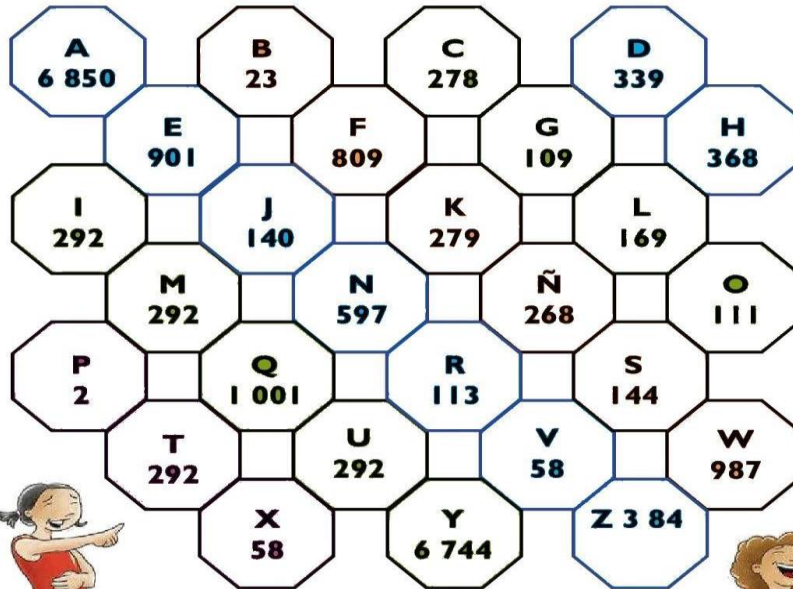
- **Matemática:**
 - ✓ Numeración
 - ✓ Operación de adición, sustracción, multiplicación y división.
 - ✓ Figuras y cuerpos geométricos, identificación de sus elementos y características.
- **Lengua:**
 - ✓ Textos
 - ✓ Escritura y ortografía
 - ✓ Sustantivos y adjetivos

- Ciencias Naturales:
 - ✓ Identificación de las principales causas de la contaminación y el deterioro del aire y agua local y urbano y las consecuencias de esta problemática sobre salud humana.
 - ✓ Relación entre los cambios de temperatura y los movimientos en el agua del planeta que generan el ciclo del agua.
 - Ciencias Sociales:
 - ✓ Ubicación de límites en el mapa de Argentina y San Juan
 - ✓ Ubicación de límites con otras provincias vecinas y controles de Covid 19 en el mapa de San Juan.
 - Formación ética y ciudadana:
 - ✓ Comprensión de los diferentes derechos y obligaciones del ciudadano.
 - ✓ Conocer las nuevas normas de convivencia (Covid 19)
 - Formación para el trabajo:
 - ✓ Conocimiento del derecho del trabajador.
 - ✓ Nueva ley que debe conocer cada trabajador en tiempo de cuarentena (Covid 19)
- ❖ Desarrollo de actividades:
- Matemática:
 - Relaciona números de tres cifras:

435	Trescientos cincuenta y nueve
281	Seiscientos cuarenta y seis
359	Cuatrocientos treinta y cinco
240	Doscientos cuarenta
646	Doscientos ochenta y uno
468	Cuatrocientos sesenta y ocho






MENSAJE EN CLAVE

Encuentra el mensaje oculto y escríbelo. La clave está en los resultados de las restas.



- | | | | |
|--------------|---------------|---------------|---------------|
| 1. 2000-1856 | 6. 685-516 | 11. 9994-3144 | 16. 533-420 |
| 2. 864-572 | 7. 9685-2835 | 12. 8321-7982 | 17. 1064-772 |
| 3. 3005-2896 | 8. 485-372 | 13. 5900-4999 | 18. 2000-1856 |
| 4. 4972-4680 | 9. 329-37 | 14. 685-516 | 19. 7339-489 |
| 5. 5900-4999 | 10. 2859-1997 | 15. 9303-2453 | |

➤ Completa el cuadro:

					
Nombre del polígono					
Número de lados					
Número de vértices					
Número de diagonales					

- Lengua:

- En las siguientes oraciones, agrega adjetivos:

*Lasflores perfuman el jardín.

*El oso.....asusta a todo el bosque

*Losamigos de laniña le realizaron una -
.....fiesta sorpresa.

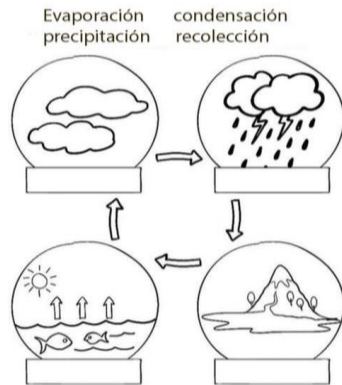
*Lacomputadora delchico estuvo diez días en
reparación.

- Escribe sobre tu Provincia no más de cinco renglones:

- Marca los párrafos y subraye los sustantivos:

- Ciencias Naturales:

- Ciclo del agua: Completa el nombre en su lugar:



- Fuentes de contaminación del agua: Escribe en las líneas varios ejemplos de cada tipo de contaminación:

Fuentes de contaminación del agua
Indaga y escribe en las líneas varios ejemplos de cada tipo de contaminación.

Doméstica _____

Industrial _____

Petróleo _____

Agrícola _____

www.repositorioceia.edu.uy

- Ciencias Sociales:
 - Pinta en el mapa de Argentina la Provincia de San Juan
 - Nombra los controles policiales que limita con otras provincias



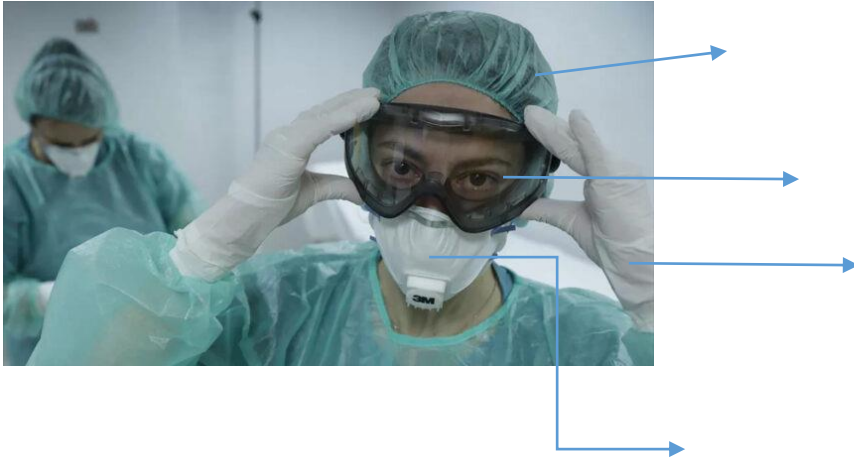
- Formación Ética y Ciudadana:
 - ✓ Observa las imágenes escribe si se trata de un derecho o una obligación:



- Nombra algunas obligaciones que debemos cumplir por el COVID 19

.....
.....

- Formación para el trabajo:
 - Observa la siguiente imagen de un trabajador de la medicina y completa las flechas con los elementos reglamentario que debe usar por el COVID 19



- Nombra otros trabajadores y enumera los elementos que debe tener como norma ISO9001 y COVID19.