

GUÍA PEDAGÓGICA N°21 DE RETROALIMENTACIÓN N°1 GRUPO 2

ESCUELA: JUAN EUGENIO SERÚ E.M.E.R.

DOCENTES: LAURA GALLARDO, BIBIANA D'AMICO, ROSA COLOMER.

ALUMNA RESIDENTE: YANINA GONZÁLEZ

GRADO: 1º "A" Y "B"

TURNO: MAÑANA

ÁREAS: LENGUA, MATEMÁTICA, CIENCIAS SOCIALES, ARTES VISUALES.

TÍTULO DE LA PROPUESTA: SOMOS ARGENTINOS, DIFUNDAMOS NUESTRAS TRADICIONES.

DESAFÍO: REALIZAR UN VIDEO DONDE SE REPRESENTE UNA TRADICIÓN FAMILIAR, PARA COMPARTIR EN EL GRUPO DE WHATSAPP.

CONTENIDOS:

*NÚMERO NATURAL: FUNCIONES Y USOS EN LA VIDA COTIDIANA.

*RESOLUCIÓN DE SITUACIONES PROBLEMÁTICAS.

*ESCUCHA COMPRENSIVA DE TEXTOS LEÍDOS.

* ESCRITURA DE PALABRAS Y DE ORACIONES.

*DIVERSIDAD DE COSTUMBRES, VALORES, CREENCIAS, CELEBRACIONES.

*FORMA: FIGURATIVA, BIDIMENSIONAL, TRIDIMENSIONAL, GEOMÉTRICAS.

INDICADORES:

*RECONOCE NUMEROS NATURALES HASTA 25.

*RESUELVE PROBLEMAS DE ADICIÓN.

*RESUELVE PROBLEMAS DE SUSTRACCIÓN.

*ESCUCHA Y COMPRENDE TEXTOS LEÍDOS POR OTROS.

*ESCRIBE PALABRAS.

*IDENTIFICA COSTUMBRES FAMILIARES.

*REALIZA REPRESENTACIONES A TRAVÉS DE LA TÉCNICA DE MODELADO.

*EXPERIMENTA SOBRE LAS FORMAS TRIDIMENSIONALES.

LUNES 09/11/20

1- "EL MATE ES NUESTRO", REPRESENTA UNA TRADICIÓN, UNA COSTUMBRE MUY ARRAIGADA: SE ASOCIA A LA HOSPITALIDAD DEL HOMBRE DE CAMPO, A LO RURAL Y A LO GAUCHESCO.

✚ CONFECCIÓN DE UN MATE CON LA TÉCNICA DE MODELADO CON PAPEL MACHÉ, TOMA UN VASITO PLÁSTICO, ENVUELVE EN BOLAS DE NYLON O PAPEL FILM Y SOBRE ÉSTE COLOCA LA MASA DE PAPEL MACHE DEJA SECAR MUY BIEN, LUEGO PINTA CON EL COLOR AMARILLO COMO COLOR DE BASE, PARA QUE RESALTEN LOS OTROS COLORES.

✚ PUEDES HACER GUARDAS GEOMÉTRICAS O FORMAS FIGURATIVAS (COMO HOJAS, FLORES, ETC.) ESTO LO PINTARAS CON LOS COLORES ROJO Y AZUL. PUEDES HACER PUNTITOS CON LA BASE DE UN PINCEL O UN PALITO PARA DECORAR.



2- ESCRIBE, LO QUE TE PARECE QUE LE PUEDE CONTESTAR LA OTRA PAISANA:



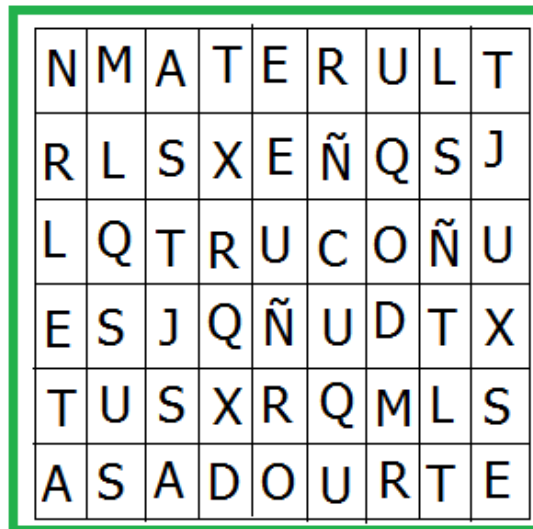
3- BUSCA EN LA SOPA DE LETRAS LAS TRADICIONES FAMILIARES:

REFERENCIA:

1- MATE

2- ASADO

3- TRUCO



MARTES 10 / 11 / 20

1- RESUELVE LA SIGUIENTE SITUACIÓN PROBLEMÁTICA:

- PEDRO QUIERE FESTEJAR EL DÍA DE LA TRADICIÓN:

POR LO QUE QUIERE REGALARLE UN MATE A SU MAMÁ, OTRO A SU ABUELA, Y OTRO A SU TÍA. ¿CUÁNTOS MATES NECESITA COMPRA?

2- OBSERVA LA IMAGEN Y COMPLETA LA ORACIÓN CON LAS PALABRAS DEL RECUADRO:



JUAN Y _____

TOCAN LA GUITARRA Y _____.

CANTAN

ALEXANDER

MIÉRCOLES 11/ 11 / 20

1- OBSERVA EL SIGUIENTE VIDEO:

 <https://www.youtube.com/watch?v=wRG5rptPWfk>

2- CONTESTA LAS SIGUIENTES COSTUMBRES TENIENDO EN CUENTA LO VISTO EN EL VIDEO:



SALUDAR



CELEBRAR

3- PINTA LOS NÚMEROS, DEL 1 AL 25 Y DESCUBRE EL CAMINO QUE DEBE SEGUIR EL GAUCHO PARA LLEGAR A LA PAISANA:



		40	39	78	95	83	72
		1	2	3	42	58	31
		59	37	4	5	6	35
70	82	34	43	29	38	7	44
14	13	12	11	10	9	8	36
15	33	31	89	32	50	98	63
16	61	99	21	22	23	43	51
17	18	19	20	42	24		
71	81	91	27	52	25		




JUEVES 12 /11 / 20

1- DIBUJA SEGÚN LA CONSIGNA, LA TRADICIÓN QUE SE COMPARTE EN LA COLONIA FISCAL :



UNA COMIDA



UNA VESTIMENTA


2- RESUELVE LA SIGUIENTE SITUACIÓN PROBLEMÁTICA:



MARÍA ESTÁ HACIENDO EMPANADAS.
YA TIENE 4 Y QUIERE HACER 6.
¿CUÁNTAS EMPANADAS LE FALTAN?

VIERNES 13/11 / 20

1- OBSERVA Y PINTA AQUELLOS DIBUJOS QUE REPRESENTAN LAS TRADICIONES DE TU FAMILIA:



2- REALIZA UN VIDEO DE UNA TRADICIÓN FAMILIAR, PARA COMPARTIR EN EL GRUPO DE WHATSAPP.

RECUERDA MANDAR TODO AL CORREO: quedateencasaseguro@gmail.com

DIRECTORA: PROF. MARIANA VARONI

