

**GUÍA Nº2**

**ESCUELA:** PRIMARIA NUEVO CUYO

**DOCENTES:** MARÍA EMILIA CASTRO LILIANA ESPEJO ELIANA OLIVARES

**GRADO:** SEGUNDO - A B C

**TURNO:** MAÑANA

**ÁREAS:** LENGUA - MATEMÁTICA

**TÍTULO:** "NOS DIVERTIMOS CON LOS TRABALENGUAS "

**PROPUESTA DE ACTIVIDADES:**

**DÍA 1**

**ÁREA: MATEMÁTICA**

**1- DESOMPONER NÚMEROS, COMO EN EL EJEMPLO**

$$\begin{array}{c} 20 + 5 = 25 \\ \downarrow \end{array}$$

$$\begin{array}{c} 80 \\ \downarrow \end{array}$$

$$10 + 10 + 5 = 25$$

$$20 + 20 + 20 + 20 = 80$$

$$40 + 10 =$$

$$100 =$$

$$120 =$$

**2- RESUELVE**

EN LA TIENDA DE MÁSCOTAS VENDEN LOS SIGUIENTES ANIMALITOS;



\$120



\$150



\$ 180



MARTÍN LLEVÓ LA SIGUIENTE CANTIDAD

¿LE ALCANZA PARA COMPRAR UN PEZ?.....

PODRÁ COMPRAR UNA RANA....., ¿CUÁNTO LE DAN DE VUELTO?.....

¿CUÁNTO LE FALTA PARA COMPRAR UN PERRITO?.....¿POR QUÉ?.

DESCOMPONE EL PRECIO DEL PERRITO

**ÁREA: LENGUA- NATURALES**

**3-CON AYUDA DE UN MAYOR BUSCA Y ESCRIBE UN TRABALENGUAS, REFERIDO A UN ANIMAL .RECUERDA EL DESAFÍO PROPUESTO EN LA GUÍA ANTERIOR.**

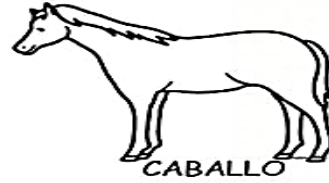
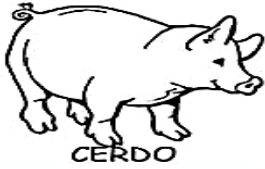
¿QUÉ COBERTURA TIENE EL ANIMAL QUÉ ELEGISTE?

4- REDACTA UNA ORACIÓN

**DÍA 2**

**ÁREA: CIENCIAS NATURALES- MATEMÁTICA**

**1- CLASIFICA LOS SIGUIENTES ANIMALES DE ACUERDO A SU CUBIERTA CORPORAL**



PELOS	PLUMAS	PIEL DESNUDA	ESCAMAS

**2- SE ESCAPARON LOS NÚMEROS. COMPLETA EL CUADRO NUMÉRICO**

100	101	102	103	104	105	106	107		109
	111	112				116	117	118	119
120	121	122	123		125	126	127	128	129
130			133	134	135	136	137		139
140	141	142	143		145	46	147	148	149
150	151		153					158	159

**3- TRABAJAMOS CON BILLETES Y MONEDAS**

¿CUÁNTO DINERO TENGO?



.....\$.....



\$. .....



\$. .....

**DÍA 3**

**ÁREA: LENGUA**

1-LEO CON AYUDA DE UN MAYOR

**SUSTANTIVOS**

**SUSTANTIVOS  
COMUNES**  
NOMBRAN:  
COSAS- LUGARES-

**RECUERDA:** LOS SUSTANTIVOS PROPIOS SE ESCRIBEN CON MAYÚSCULAS.

**SUSTANTIVOS PROPIOS**  
NOMBRAN  
NOMBRES DE PERSONAS  
APELLIDOS  
NOMBRES DE LUGARES Y DE ANIMALES

2- RECORTO Y PEGO TRES SUSTANTIVOS COMUNES Y PROPIOS

3-UBICO EN EL CUADRO LOS SUSTANTIVOS

**RATA - VALENTÍN - ÁRBOL - MESA - MANUEL - SAN JUAN**

<u>SUSTANTIVOS COMUNES</u>	<u>SUSTANTIVOS PROPIOS</u>


4- ESCRIBE EL TRABA LENGUAS QUE ENVIARÁS EN UN AUDIO A TU SEÑORITA

**DÍA 4**

**ÁREA: MATEMÁTICA**

1-RESUELVE LAS SUMAS Y DESPUÉS PEGA LAS IMÁGENES SEGÚN EL RESULTADO

$4 + 1 =$	$6 + 2 =$	$1 + 0 =$
$8 + 3 =$	$2 + 0 =$	$3 + 3 =$
$6 + 3 =$	$1 + 2 =$	$6 + 6 =$
$3 + 1 =$	$7 + 3 =$	$3 + 4 =$



2-ORDENA LOS NÚMEROS DE MAYOR A MENOR

120 – 68 – 90- 150- 100

3-COMBINA LOS NÚMEROS Y ARMA EL MÁS GRANDE

5 8

9 5

1  
0 1

2-ORDÉNALOS DE MENOR A MAYOR

3-ESCRIBE SUS NOMBRES

**DÍA 5**

**ÁREA CIENCIAS NATURALES- LENGUA**

1-UNE CON FLECHAS SEGÚN SU COBERTURA



CON ESCAMAS

CON PLUMAS

PIEL DESNUDA

CON PELOS



2-ELIGE UN ANIMALITO Y ESCRIBE UNA ORACIÓN

3- COLOCA UNA X DONDE CORRESPONDA

	VERTEBRADOS	INVERTEBRADOS	PELO	PLUMAS	ESCAMAS
PEZ					
GALLINA					
GATO					
PALOMA					

4- ENSAYA EL TRABALENGUAS QUE ENVIARÁS A TÚ SEÑORITA .

**RDF** : GRABA EL TRABALENGUAS Y MANDA A LA SEÑO . TAMBIÈN LO PUEDES COMPARTIR CON EL GRUPO

**DÌA 6**

**ÀREA: TECNOLOGÌA**

**PROF: ORREGO, LAURA**

TÌTULO: MATERIALES

COPIA Y CONTESTA EN EL CUADERNO CON UNA CARA 😊 O 😬

¿DISTINGO DIFERENTES TIPOS DE MATERIALES?

¿IDENTIFICO LOS MATERIALES NATURALES?

¿RECONOZCO EL ORIGEN DE LOS MATERIALES?

**DÌA 7**

**ÀREA: ARTES VISUALES    PROF: CARABANTE, LAURA**

**ACTIVIDADES:**

¿TE GUSTAN LOS DINOSAURIOS? ¿SABES CÓMO SON?

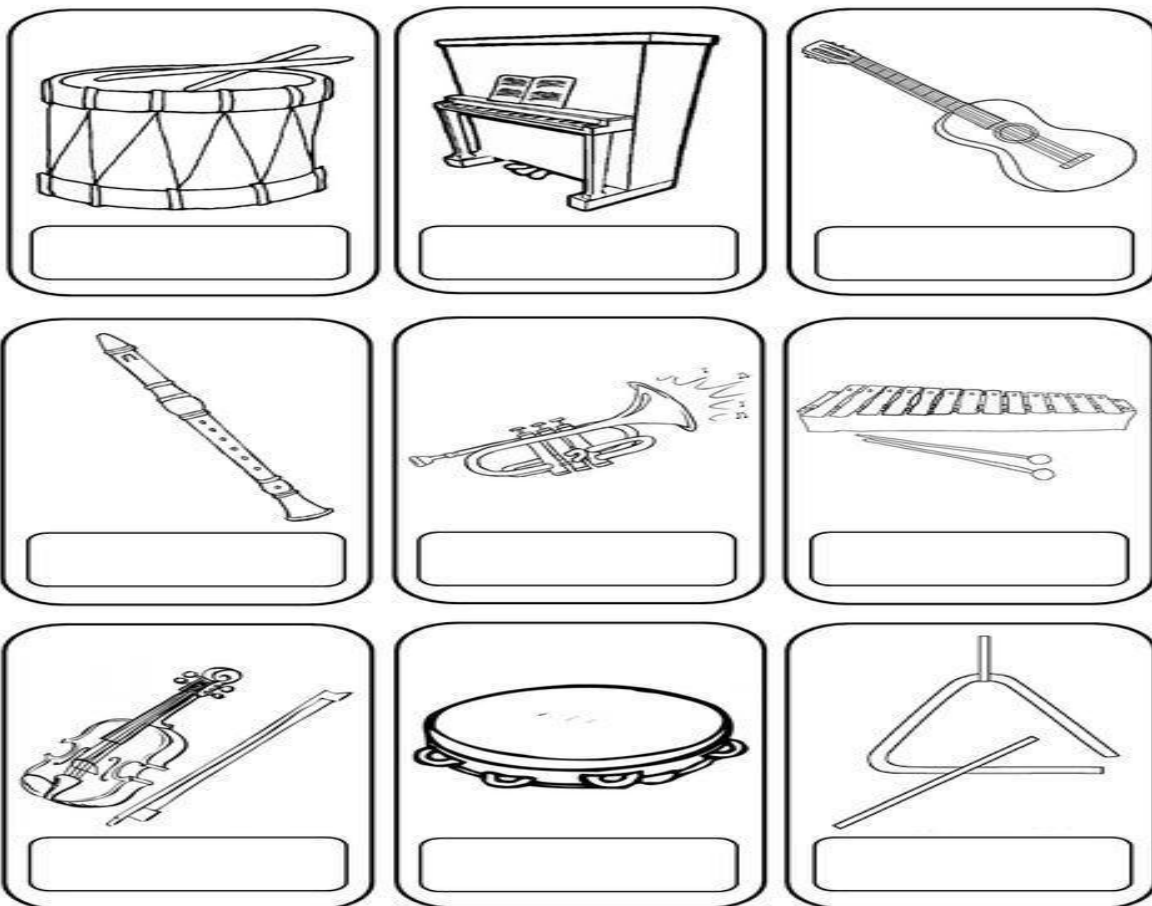
EN TU HOJA DE DIBUJO DIBUJA DINOSAURIOS Y PINTA CON TÉMPERAS, CON COLORES PRIMARIOS. ¡MEZCLA ALGUNOS COLORES PRIMARIOS PARA FORMAR OTROS NUEVOS Y TENER MÁS COLORES PARA PINTAR!

**DÌA 8:**

**ÀREA: MÚSICA    PROF: PELLICE ,DANIEL**

**ACTIVIDADES:**

**1) COLOREA LOS SIGUIENTES INSTRUMENTOS Y ESCRIBE SUS NOMBRES.**



**2) CON LA AYUDA DE UN ADULTO ESCRIBE EN TU CUADERNO A QUÈ FAMILIA PERTENECEN LOS INSTRUMENTOS QUE COLOREASTE.**

**DIRECTORA: CECILIA CARABAJAL    VICEDIRECTORA: GABRIELA GODOY**