

GUÍA PEDAGÓGICA N° 23 DE RETROALIMENTACIÓN.

GRUPO: 2.

ESCUELA: PRESBITERO MARIANO IANNELLI.

CUE: 700040100.

DOCENTE: ADRIANA QUIROGA, MARCELA DIAZ, VALERIA PASTOR Y NATALIA PERALTA Y SILVANA CUADRADO.

GRADO: 1°A, 1°B, 1°C y 1°D.

TURNO: TARDE.

ÁREAS: MATEMÁTICA – CIENCIAS SOCIALES - EDUCACIÓN FÍSICA.

TÍTULO DE LA PROPUESTA: “NÚMEROS DE TODOS LOS DIAS”.

CONTENIDOS



MATEMÁTICA:

-EL NÚMERO NATURAL (0 POR LO MENOS HASTA 100). -FUNCIONES Y USOS EN LA VIDA COTIDIANA. -DESCOMPOSICIÓN ADITIVA DE NÚMEROS EN UNOS Y DIECES. -SITUACIONES PROBLEMÁTICAS. ALGORITMO DE LA SUMA Y RESTA.

CIENCIAS SOCIALES:

-PAISAJES RURALES Y URBANOS. -CARACTERÍSTICAS DE CAMPO Y CIUDAD, CONTRASTE Y RELACIONES. -CIRCUITO PRODUCTIVO DE LA VID.

EDUCACIÓN FÍSICA:

-IDENTIFICACIÓN Y EJECUCIÓN DE HABILIDADES MOTRICES BÁSICAS LOCOMOTORAS: DESPLAZAMIENTOS, SALTOS Y APOYOS.

INDICADORES:

- ESCRIBE LOS NÚMEROS NATURALES HASTA 100.
- PINTA LOS DIECES TERMINADOS EN 0 EN EL CAMINO QUE HAY EN EL CAMPO.
 - ESCRIBE EL ANTERIOR Y POSTERIOR DEL NÚMERO DADO.
 - BUSCA EL NÚMERO EN EL JUEGO PROPUESTO.
 - IDENTIFICA NÚMEROS EN UNA IMAGEN.
 - ORDENA SECUENCIAS NUMÉRICAS DE MENOR A MAYOR.
 - RESUELVE SUMAS.
 - RESUELVE RESTAS.
 - COLOREA EN LA IMAGEN LOS NÚMEROS QUE ENCONTRASTE.
 - ORDÉNALOS DE MENOR A MAYOR.
- IDENTIFICA IMÁGENES QUE PERTENECEN A CAMPO Y CIUDAD Y LA RELACIÓN QUE EXISTE ENTRE AMBOS.
 - ESCRIBE PALABRAS QUE SE RELACIONAN CON EL CAMPO Y LA CIUDAD.
 - DESCRIBE LOS PASOS DEL CIRCUITO PRODUCTIVO DE LA VID.
 - DIBUJA LOS PASOS DEL CIRCUITO PRODUCTIVO DE LA VID.


ESCUELA: P BRO MARIANO IANNELLI _ PRIMER GRADO_ ÁREAS INTEGRADAS.

DESAFÍO: “ARMA UN JUEGO DE MESA SIGUIENDO LA SECUENCIA NUMÉRICA Y TENIENDO EN CUENTA EL CIRCUITO PRODUCTIVO DE LA VID”.

ACTIVIDADES.

CIENCIAS SOCIALES.


1- OBSERVA LAS SIGUIENTES IMÁGENES, COMPARA Y ESCRIBE CAMPO O CIUDAD DONDE CORRESPONDA. COLOREA.



MATEMÁTICA.

¡VAMOS DE PASEO!

2)-COMPLETA LOS CASILLEROS CON LOS NÚMEROS QUE FALTAN HASTA LLEGAR A 100.



3)-COMPLETA MIRANDO LA IMAGEN ANTERIOR.

	20	
--	----	--

	35	
--	----	--

	12	
--	----	--

EDUCACIÓN FÍSICA y MATEMÁTICA.

ESCUELA: PBRO MARIANO IANNELLI _ PRIMER GRADO_ ÁREAS INTEGRADAS.

4)-**¡A JUGAR CON LOS NÚMEROS!** EL JUEGO CONSISTE EN ENCONTRAR ALGUNOS NÚMEROS QUE RESPONDAN A LA PREGUNTA REALIZADA (LOS NÚMEROS ESTARÁN SOBRE LA MESA). DEBERÁ LLEVARLA CORRIENDO Y PASANDO ALGUNOS QUE PONDRÁ UN INTEGRANTE DE LA FAMILIA, HACIA EL LUGAR INDICADO (EL INTEGRANTE DE FAMILIA LEE LAS PREGUNTAS Y CONTROLA SI ESTÁ BIEN. SE BUSCA UN NÚMERO POR VEZ. ALGÚN INTEGRANTE DE LA FAMILIA LEE DE A UNA LAS PREGUNTAS Y EL NIÑO DEBERÁ BUSCAR.

RECORTA ESTOS NÚMEROS PARA JUGAR:

7	10	40	5	4	20	60
20	30	6	24	50	38	1
6	3	2	7	23	43	18
63	57	33				

A)-BUSCA UN NÚMERO QUE TENGA DIECES. B)-BUSCA UN NÚMERO QUE TENGA UNOS. C)-¿CUÁNTO ES $3 + 2$? D)-¿CUÁNTO ES $20 + 10$? E)- BUSCA EL ANTERIOR DE 25. F)- BUSCA EL POSTERIOR DE 19. G)- BUSCA EL NÚMERO MÁS GRANDE.

CIENCIAS SOCIALES.

5)- ENUMERA LOS PASOS DEL CIRCUITO PRODUCTIVO DE LA UVA.

MOLER	CORTAR	EMBOTELLAR	FERMENTAR

6)-DIBUJA EL CIRCUITO PRODUCTIVO DE LA VID. ESTA ACTIVIDAD TE AYUDARÁ A RESOLVER EL DESAFÍO.

MATEMÁTICA:

7)- RESUELVE SITUACIONES PROBLEMÁTICAS:

DOCENTES: ADRIANA QUIROGA, MARCELA DÍAZ, VALERIA PASTOR, NATALIA PERALTA Y SILVANA CUADRADO.

ESCUELA: PBRO MARIANO IANNELLI _ PRIMER GRADO_ ÁREAS INTEGRADAS.

*EN EL CAMPO HAY 16 VACAS Y 3 CABALLOS. ¿CUÁNTOS ANIMALES HAY EN TOTAL?

*HABIAN 8 CERDOS Y SE VENDIERON 5. ¿CUÁNTOS CERDOS QUEDARON?

8)- COLOREA LOS NÚMEROS QUE SE ESCONDEN EN ESTA IMAGEN.

9)-ORDENA ESOS NÚMEROS DE MENOR A MAYOR.




MATEMÁTICA

¡RESUELVE SITUACIONES JUGANDO!

10)-ORDENA EL NÚMERO DE CASAS DE MENOR A MAYOR.

11)- RESUELVE SUMAS Y RESTAS QUE APARECEN EN LOS AUTOS.

12)-¡PINTA PARA MOSTRAR TU TAREA!



***RESUELVE EL DESAFÍO:** “ARMA UN JUEGO DE MESA SIGUIENDO LA SECUENCIA NUMÉRICA Y TENIENDO EN CUENTA EL CIRCUITO PRODUCTIVO DE LA VID”.

¡MUCHOS ÉXITOS EN LA EJECUCIÓN DE LAS TAREAS!



DIRECTORA: STELLA VARGAS.

VICEDIRECTORA: LAURA ROJAS.

DOCENTES: ADRIANA QUIROGA, MARCELA DÍAZ, VALERIA PASTOR, NATALIA PERALTA Y SILVANA CUADRADO.