

GUÍA N° 23**GRUPO 1****GRADO: 1º****TURNO:** MAÑANA**CICLO/NIVEL:** PRIMER/PRIMARIO**DESAFÍO:** DISEÑAR Y CONSTRUIR JUEGOS LÚDICOS QUE INVOLUCREN CONTENIDOS DEL ÁREA LENGUA Y DEL ÁREA MATEMÁTICA.**CONTENIDOS SELECCIONADOS:****ÁREA LENGUA:** LECTURA DE PALABRAS Y DE TEXTOS BREVES EN CONTEXTOS LÚDICOS. RELACIÓN DE PALABRAS POR SU PARTE INICIAL.**ÁREA MATEMÁTICA:** SISTEMA DE NUMERACIÓN Y OPERACIONES. COMPOSICIÓN ADITIVA DE LOS NÚMEROS.**INDICADORES DE LOGRO**

*RESUELVE CÁLCULOS A TRAVÉS DEL JUEGO

*LEE Y ESCRIBE NÚMEROS NATURALES

*REALIZA CONTEO DE CANTIDADES Y ESCRITURAS NUMÉRICAS

*DIFERENCIA PROBLEMAS DE SUMA Y RESTA.

*RESUELVE COMPOSICIÓN ADITIVA DE LOS NÚMEROS.

*LEE PALABRAS Y TEXTOS CORTOS.

*ESCRIBE SOLO.

*RELACIONA PALABRAS POR SU LETRA INICIAL.

ACTIVIDADES. ÁREA LENGUA

1-**LEER** CON AYUDA ESTE TEXTO SÚPER CORTITO. RESOLVER ESTA ADIVINANZA.



2-**ESCRIBIR** LA PRIMERA LETRA DE CADA DIBUJO EN LOS ESPACIOS Y AVERIGUAR EL NOMBRE DE UN JUEGO QUE COMPARTIERON LOS CHICOS Y ABUELOS.



3-¿QUÉ JUGUETES QUE USAMOS AHORA TAMBIÉN FUERON USADOS POR NUESTROS PADRES Y ABUELOS?

UNIR LAS FICHAS PARA FORMAR EL NOMBRE DE ESOS JUGUETES.




4-¡A JUGAR EN FAMILIA!

PINTAR LOS DIBUJOS CUYOS NOMBRES COMIENZAN CON LA MISMA LETRA EN CADA TABLERO Y HACÉ TA_TE_TI



ACTIVIDADES ÁREA MATEMÁTICA. EL JUEGO DE LAS LATAS

EN ESTE JUEGO, CADA JUGADOR TIRA TRES VECES LA PELOTA Y ANOTA EL PUNTAJE DE LAS LATAS QUE TIRA. CALCULAR EL PUNTAJE DE ANA Y EL DE TOMÁS. ¿CÓMO SE PUEDEN CALCULAR LOS PUNTAJES DE CADA UNO?




2-CALCULAR LOS PUNTOS DE MATÍAS CON UNA SUMA.



3-CON LA FAMILIA: REALIZA EL MISMO JUEGO PERO EN CASA CON TU FAMILIA. ANOTA LOS PUNTAJES.UNA PERSONA GRABA EL JUEGO. ¿QUIÉN GANÓ? ¿POR QUÉ?

5 Nati hizo 60 puntos. Tachá las tres latas que tiró.




6 Male tiró las latas que están tachadas y dice que hizo 60 puntos.



¿Tiene razón? _____

7 Pablo dice que tiene mala suerte y que se sacó el puntaje más bajo que se puede hacer en una jugada. Tachá las latas que tiró Pablo y anotá qué puntaje sacó.



8 ¿Qué puntaje sacó Matías si tiró las latas con el 50, el 20 y el 10?

9 Tachá tres latas para tener más puntos que Matías.



10 Tachá tres latas que logren el puntaje más alto de este juego.



DIRECTORA: SANDRA HERRERA