



---

**ESCUELA:** DR. CARLOS MARÍA BIEDMA

**DOCENTE:** PATRICIA SESMA

**TURNO:** VESPERTINO

**ÁREA CURRICULAR:** LENGUA Y MATEMÁTICA

**TÍTULO DE LA PROPUESTA:** ENTRE TODOS PODEMOS

**GUÍA PEDAGÓGICA N° 1**

**CONTENIDOS:**

**LENGUA**

- NOMBRE PROPIO
- CONCIENCIA FONOLÓGICA: FONEMAS Y GRAFEMAS.
- UNIDADES BÁSICAS DE ESCRITURA, LECTURA DE PALABRAS.

**MATEMÁTICA**

NÚMERO NATURAL, CARDINAL Y ORDINAL HASTA EL 20

**CAPACIDADES:**

- **COMUNICACIÓN:**

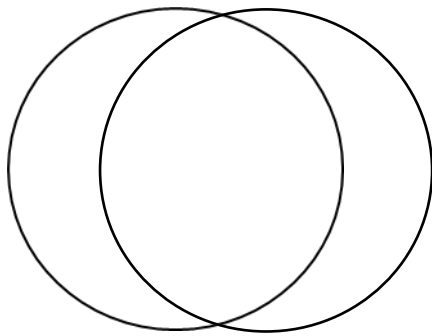
DESCRIBIR, DE MANERA ORAL Y ESCRITA, SITUACIONES Y OBJETOS.

- **RESOLUCION DE PROBLEMAS:**

DESCRIBIR COMPARAR, ANALIZAR Y RESOLVER PROBLEMAS MEDIANTE DIFERENTES HABILIDADES Y DESTREZAS.

**LECTOESCRITURA**

- REALIZAR DOS CIRCULOS EN UNO PEGAR LETRAS Y EN EL OTRO NUMEROS. CONTAR Y ESCRIBIR EL NÚMERO.



- RECORTAR LETRAS Y FORMAR SU NOMBRE Y EL DE 2 MIEMBROS DE LA FAMILIA.
- PEGAR DOS PALABRAS QUE COMINECEN CON **A**, 2 CON **E**, 2 CON **I**, 2 CON **O**, 2 CON **U** Y 2 CON LA LETRA QUE COMIENZA EL NOMBRE DEL ALUMNO.
- COPIAR 10 PALABRAS DEL LIBRO DE TEXTO QUE TENGAN Y EN MAYUSCULA IMPRENTA.
- LUEGO PINTAN CON UN COLOR LAS **A**, CON OTRO LAS **E**, CON OTRO LAS **I**, CON OTRO LA **O** Y OTRO LA **U**
- PINTA LAS LETRAS QUE FORMAN TU NOMBRE Y ESCRIBELO EN EL CUADRO.

A B C D E F G H I J K L M N Ñ O P  
Q R S T U V W X Y Z



- ENCIERRA LA PALABRA LARGA

**ESCUELITA**

**RECREO**



**CARTUCHERITA**

**LAPIZ**

- PINTA SOLO LAS VOCALES

# AURELIO

- ESCRIBO COMO PUEDO



\_\_\_\_\_



\_\_\_\_\_

- ENCIERRA LAS PALABRAS QUE EMPIEZAN CON LA VOCAL



AUTO



TIGRE



ANILLO



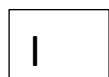
ELEFANTE



ESTRELLA



TOMATES



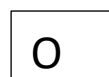
ARBOL



IMAN



ISLA



OJOS



OSO



MONO



TELEFONO



UTILES



UVAS



**NUMERACIÓN HASTA 20**

- DIBUJAR CANTIDADES SEGÚN INDIQUE EL NÚMERO

14 =

9 =

- FORMAR LA SERIE DEL 0 AL 20

- COMPLETA LA SERIE

1 \_\_\_\_ 3 \_\_\_\_ 5 \_\_\_\_ 7 \_\_\_\_ 9 \_\_\_\_ 11 \_\_\_\_ 13 \_\_\_\_ 15

- ESCRIBE DOS RENGLONES CON LA SERIE COMPLETA DEL 0 AL 20

- ¿CUÁNTOS HAY?

|  |  |
|--|--|
|  |  |
|  |  |
|  |  |
|  |  |
|  |  |
|  |  |



• CALCULA

Suma las dos cartas que están dentro del rectángulo, luego réstale la carta que está dentro del círculo. Puedes ayudarte con la tabla de pelotitas puesta arriba

|   |   |   |   |   |   |   |   |   |   |   |   |   |   |   |   |   |   |   |   |   |
|---|---|---|---|---|---|---|---|---|---|---|---|---|---|---|---|---|---|---|---|---|
| 0 | 0 | 0 | 0 | 0 | 0 | 0 | 0 | 0 | 0 | 0 | 0 | 0 | 0 | 0 | 0 | 0 | 0 | 0 | 0 | 0 |
|---|---|---|---|---|---|---|---|---|---|---|---|---|---|---|---|---|---|---|---|---|

+

=

-

=

Suma las dos cartas que están dentro del rectángulo, luego réstale la carta que está dentro del círculo. Puedes ayudarte con la tabla de pelotitas puesta arriba

|   |   |   |   |   |   |   |   |   |   |   |   |   |   |   |   |   |   |   |   |
|---|---|---|---|---|---|---|---|---|---|---|---|---|---|---|---|---|---|---|---|
| c | 0 | 0 | 0 | 0 | 0 | 0 | 0 | 0 | 0 | 0 | 0 | 0 | 0 | 0 | 0 | 0 | 0 | 0 | 0 |
|---|---|---|---|---|---|---|---|---|---|---|---|---|---|---|---|---|---|---|---|

+

=

-

=

**LOS DADOS QUE SUMAN**

ESCRIBAN EL NÚMERO QUE REPRESENTA CADA DADO Y RESUELVAN LAS SUMAS.



+

=

+

=

+

=

+

=



**FIGURAS GEOMÉTRICAS PLANAS**

RELACIONA:

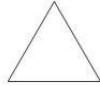
CUADRADO



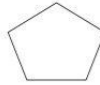
TRIÁNGULO




RECTÁNGULO



ROMBO



PENTÁGONO



CÍRCULO



ÓVALO



Directivo: Lic. Graciela Castro