

GUÍA DE RETROALIMENTACIÓN N° 24

ESCUELA: PROVINCIA DE FORMOSA

NIVEL PRIMARIO COMÚN

DOCENTES: SALAS LORENA, MERCADO MARIELA, AGÜERO ESTER

GRADO: 2º

SECCIÓN: A,B y C

TURNOS: MAÑANA Y TARDE

ÁREAS: MATEMÁTICA Y CIENCIAS NATURALES.

FECHA DE APLICACIÓN: DESDE EL 23 AL 27 DE NOVIEMBRE DE 2020.

TÍTULO: “LO VAS A LOGRAR, ILUSIÓN, ESFUERZO, PERSEVERANCIA, NO TE RINDAS”



ÁREA	CONTENIDOS	INDICADORES
MATEMÁTICA	<p>NÚMEROS NATURALES: RECONOCIMIENTO Y USO. OPERACIONES: SUMA, RESTA Y MULTIPLICACIÓN. CUERPOS Y FIGURAS GEOMÉTRICOS. UNIDADES DE MEDIDA: LONGITUD Y CAPACIDAD</p>	<p>EXPRESA EN FORMA ORAL Y ESCRITA LAS SERIES NUMÉRICAS. RELACIONA LOS NÚMEROS CON LA VIDA COTIDIANA. APLICA NOCIONES DE MITAD Y DOBLE EN DIFERENTES SITUACIONES PROBLEMÁTICAS. RECONOCE LAS CARACTERÍSTICAS DE LAS FIGURAS Y CUERPOS GEOMÉTRICOS. DESCUBRE LAS MEDIDAS DE CAPACIDAD Y LONGITUD.</p>
CIENCIAS NATURALES	<p>SERES VIVOS. CARACTERÍSTICAS. DIVERSIDAD VEGETAL: LAS PLANTAS, SUS PARTES. LOS MATERIALES: CLASIFICACIÓN, OPACOS, TRANSPARENTES Y TRANSLÚCIDOS.</p>	<p>DESCUBRE RASGOS COMUNES Y DIFERENTES ENTRE LOS SERES VIVOS. DISTINGUE MEDIANTE LA OBSERVACIÓN LAS DIFERENTES PARTES DE LA PLANTA. EXPRESA RELACIONES ENTRE LOS DIFERENTES MATERIALES.</p>

DESAFÍO: ARMAR UN CATÁLOGO CON ANIMALES Y PLANTAS AUTÓCTONAS DE NUESTRO DEPARTAMENTO.

ACTIVIDADES

LUNES 23 DE NOVIEMBRE

LEE EL SIGUIENTE TEXTO



COMPLETA COMO QUEDÓ EL CARTEL:

Espece animal	Cantidad de ejemplares

¡QUIERO VER CUÁNTO SABES DE MATEMÁTICAS!

LEE LAS CONSIGNAS, PRESTANDO MUCHA ATENCIÓN.

- a) ESCRIBE EL NOMBRE DEL NÚMERO TOTAL DE TATÚ CARRETAS Y DE OSOS HORMIGUEROS.

- b) ESCRIBE EL ANTERIOR Y POSTERIOR DEL NÚMERO TOTAL DE PELUDOS.

.....

- c) DESCOMPONE EL NÚMERO TOTAL DE QUIRQUINCHOS.
¿CUÁNTOS UNOS, DIECES Y CIENES TIENE EL NÚMERO 154?

cue700054600_escuelaprovinciadeformosa_2ºgrado_seccabyc_retroalimentación_guíaNº24_grupo1
LEE, RAZONA Y RESUELVE ESTAS SITUACIONES PROBLEMÁTICAS.
LOS GUARDAPARQUES QUE CUIDAN A ESTOS ANIMALITOS, FUERON A COMPRAR ALIMENTOS ¡MIRA QUÉ PRECIOS!



RESPONDE

¿CUÁNTO GASTARON EN LA COMPRA DE ESTOS ALIMENTOS?

¿CÓMO HICISTE LA OPERACIÓN?

SI PAGARON CON ESTOS BILLETES



¿LES DIERON VUELTO? ¿CUÁNTO?

LA BOLSA MÁS GRANDE LES COSTÓ \$120, SI HUBIESEN COMPRADO 2, ¿CUÁNTO TENDRÍAN QUE HABER PAGADO POR ELLAS?

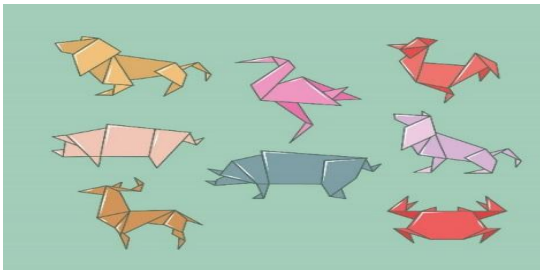
¿Y SI COMPRASEN 4?

¿HAY OTRA FORMA DE HACER ESTA OPERACIÓN PARA LLEGAR AL MISMO RESULTADO? ¿CUÁL?

EXPLÍCALO AQUÍ

MARTES 24 DE NOVIEMBRE

EN LA RESERVA, ADEMÁS DE LOS ANIMALITOS QUE YA CONOCIMOS, JUNTO A ELLOS VIVEN OTROS. OBSERVA LA IMAGEN, ¿QUÉ VES?



ESTOS ANIMALES ESTÁN HECHOS DE PAPEL CON UNA TÉCNICA QUE SE LLAMA ORIGAMI. PUEDES VER FIGURAS GEOMÉTRICAS. ¿QUÉ FIGURAS ENCUENTRAS? ESCRIBE EL NOMBRE DE LAS QUE ENCUENTRES.

¿FALTA ALGUNA FIGURA? ¿CUÁL? ESCRIBE.....

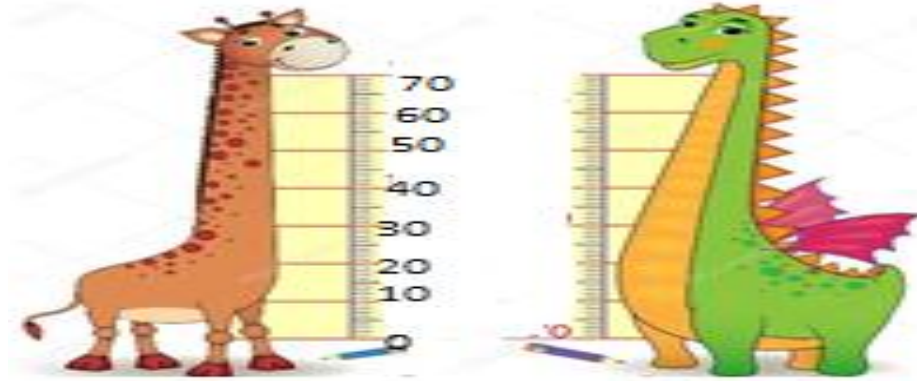
ESAS FIGURAS SON LAS CARAS DE LOS CUERPOS GEOMÉTRICOS.

ESCRIBE EL NOMBRE.

ELIGE UNO Y DIBÚJALO.

MIÉRCOLES 25 DE NOVIEMBRE

TE CUENTO QUE AHORA NOS INFORMAREMOS DE CUÁNTO ES LO QUE MIDEN ALGUNOS ANIMALES DE LA RESERVA, PERO ESTA IMAGEN ES UNA FOTO. OBSERVA:



¿CUÁNTO MIDEN ESTOS AMIGUITOSCM
 SI LO MULTIPLICAMOS POR DOS SABREMOS CUÁNTOS METROS MIDEN EN REALIDAD. ¿TE ANIMAS?

¿CUÁNTO MIDEN?.....

¿SABÍAS QUE, A TODOS LOS ANIMALES, LES ENCANTA EL AGUA?

EL ELEFANTE TOMA MUCHA AGUA. POR ESO DEBEN LLENAR UN TANQUE PARA QUE NO SE QUEDE CON SED. OBSERVA ESTA IMAGEN



SI LAS BOTELLAS PEQUEÑAS TIENEN MEDIO LITRO DE AGUA, LAS OTRAS UN LITRO Y EL TANQUE DIEZ LITROS. ¿CUÁNTAS BOTELLAS OCUPARÍAS PARA LLENAR EL TANQUE?, NO TE OLVIDES DE UTILIZAR TAMBIÉN LAS DE MEDIO LITRO.
 ¿ALCANZA CON ESAS BOTELLAS PARA LLENARLO? ¿CUÁNTAS MÁS HACEN FALTA?.....

JUEVES 26 DE NOVIEMBRE

CONOCIMOS MUCHOS ANIMALITOS QUE VIVEN EN ESTA RESERVA.
 EN EL SIGUIENTE CUADRO ESCRIBIRÁS ALGUNAS CARACTERÍSTICAS.

ANIMAL	FORMA DE DESPLAZAMIENTO ES	SU CUERPO ESTÁ CUBIERTO DE	SE ALIMENTA CON
JIRAFA			
DELFIN			

AVESTRÚZ			
OSO HORMIGUERO			

VARIOS DE ESTOS ANIMALES COMEN PLANTAS: ESCRIBE HIERBAS – ARBUSTOS- ÁRBOLES, SEGÚN CORRESPONDA.

EL CONEJO COME


LA JIRAFRA LE GUSTAN LAS HOJAS DE LOS.....

AL QUIRQUINCHO LE ENCANTAN LAS FRUTITAS DE LOS.....

¡ATENCIÓN!

¡A TRABAJAR EN UN DESAFÍO!

JUNTO A TU FAMILIA DISEÑARÁS UN CATÁLOGO CON ANIMALES Y PLANTAS AUTÓCTONOS DE NUESTRO DEPARTAMENTO, PODRÁS DIBUJAR, RECORTAR Y PEGAR FIGURITAS, COMO TÚ DESEES. DEBES ESCRIBIR LAS CARACTERÍSTICAS DE CADA UNO Y NO OLVIDES ESCRIBIR EL NOMBRE. EJEMPLO:



VIERNES 27 DE NOVIEMBRE

LOS GUARDAPARQUE ESTÁN ORGANIZANDO UNA VISITA A LA RESERVA, PERO TODOS DEBEN USAR UNOS ANTEOJOS PARA PODER OBSERVARLOS CON MÁS CLARIDAD Y PROTEGER SUS OJOS DE LA TIERRA.

OBSERVA ESTAS IMÁGENES Y COLOREA LOS ANTEOJOS QUE DEBERÁN USAR. EXPLICA POR QUÉ ELEGISTE ESOS Y A LOS OTROS NO.



SUERTE! ¡SABES QUE CUENTAS CONMIGO!

EQUIPO DIRECTIVO:
 DIRECTORA: NILDA NORMA PAEZ
 VICEDIRECTORA: MARTA BENÍTEZ DE GARAY
 GESTIÓN Y ADMINISTRACIÓN: DOMINGO ARNOLDO SCHIANO