

Pro.P.A.A. Zona Norte UE 052

Docente: Marta Lucero

Ciclo Primero

Turno Tarde

Coordinador: Lic. Juanita Luna

GUIA DE RETROALIMENTACION N° 1

Propósitos:

- 1- Estimular el crecimiento en los saberes continuamente y aplicarlos cotidianamente.
- 2- Fortalecer los saberes previos involucrándolos en cada área escolar.

Capacidades

- 1- Resolución de Problemas
- 2- Comunicación

Contenidos por Áreas

Lengua: Comprensión lectora. Sustantivos.

Matemática: Numeración hasta 1000. Figuras y cuerpos geométricos

Ciencias Naturales: Cadena alimentaria. Origen de los alimentos

Ciencias Sociales: Espacios Urbanos y Rurales. Transporte

Form. Ética y Ciudadana: Valores y Convivencia familiar.

Form. para el Trabajo: El trabajo del campo y la ciudad

Tecnología: Uso de elementos tecnológicos. En el campo y la ciudad

AREA LENGUA

- 1- Lee atentamente el cuento

Érase una vez un rey muy presumido, que vivía en un gran castillo. Un día un comerciante de un lejano país le hizo un extraño trato:

-Te cambio todos los naranjos de tu reino por la corona que más reluce al sol.

El rey no se lo pensó dos veces y aceptó el trato del comerciante.

Con los años el comerciante se hizo rico. Recogía las naranjas de los árboles y vendía su zumo a los aldeanos del reino. Pero el rey, en cambio, se volvió más pobre.

Casi en la ruina, el rey decidió vender su corona al joyero del país vecino. Al ver la corona el joyero le dijo al rey:

-Esta corona es falsa, no es de oro. No vale nada.

Cabreado el rey fue a buscar al comerciante. Al encontrarle, este le dijo:

-Yo no te engañé, te prometí la corona que más relucía al sol, no una corona de oro.

Al rey no le quedó más remedio que ponerse a trabajar para el comerciante.

2- Responde

1) ¿Qué vendía el comerciante a los aldeanos del reino?



2) ¿Qué significa aldeano?

- Persona que vive en una ciudad.
- Persona que vive en un pueblo pequeño.

3) ¿Por qué objeto cambió el rey todos los naranjos?



4) Marca el refrán que concuerde con el cuento.

- En abril aguas mil.
- No es oro todo lo que reluce.

3- Escribe lo contrario

Rico:..... Falsa:.....

4- Colorea los sustantivos

perro queso pandilla colocó gatito
 azul viajar suave avión nube divertiría

5- Clasifica los siguientes sustantivos

América azúcar poeta Pablo pinar
 desierto avenida Ana Mallorca Inés

sustantivos comunes

sustantivos propios

- _____
- _____
- _____
- _____
- _____

- _____
- _____
- _____
- _____
- _____

6- Redacta oraciones con:

Brazo trueno cable plumero princesa

AREA MATEMATICA

1- Escribe el menor y mayor

135 - 203 - 188 - 324 - 158 - 417
 562 - 987 - 213 - 260 - 144 - 230

Mayor: Menor:

2- Escribe el anterior y posterior

.....476.....
499.....
999.....

3- Resuelve

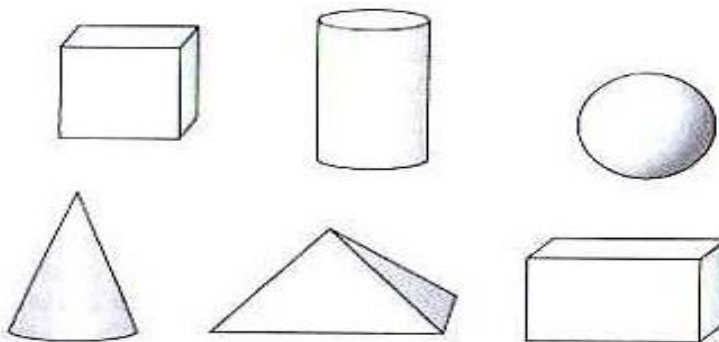
Juan fue con su tío a la distribuidora para a comprar cosas para su kiosko ¿le ayudas?

- a) De las galletas de mayor precio traerá una docena.
 - b) Tres paquetes de galletas de cada variedad de \$15, \$23 y \$ 20
 - c) Un pack de jugos de 12 unidades de \$ 20
 - d) Una decena de jugos de mayor precio
- ¿Cuánto gastara para cada pedido anterior?

¿Cuánto gastará en total?

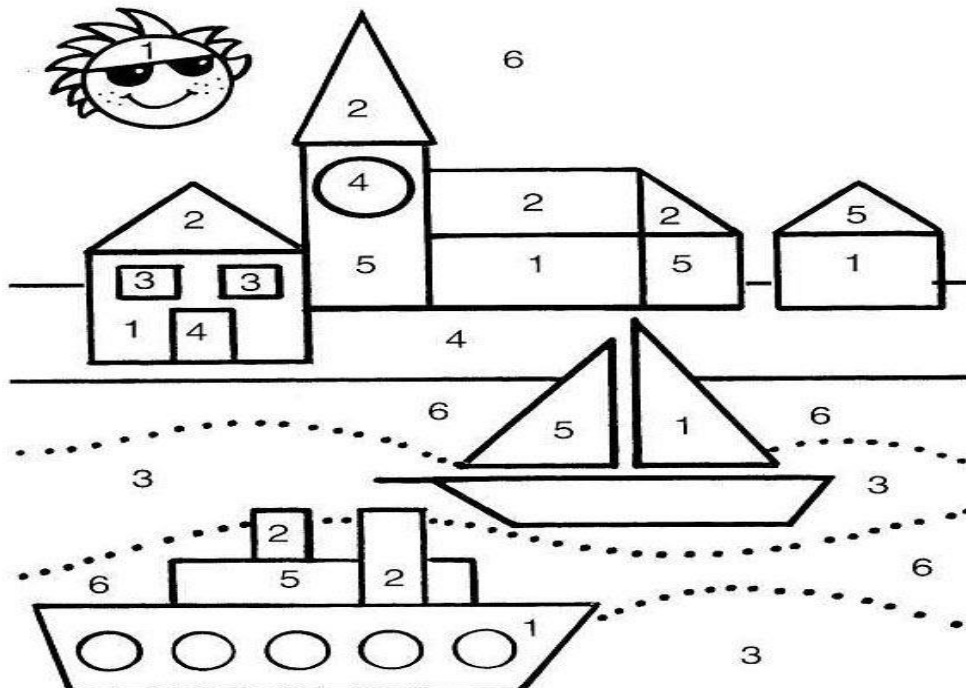


4- Pinta con rojo los cuerpos que ruedan y con amarillo los que no ruedan



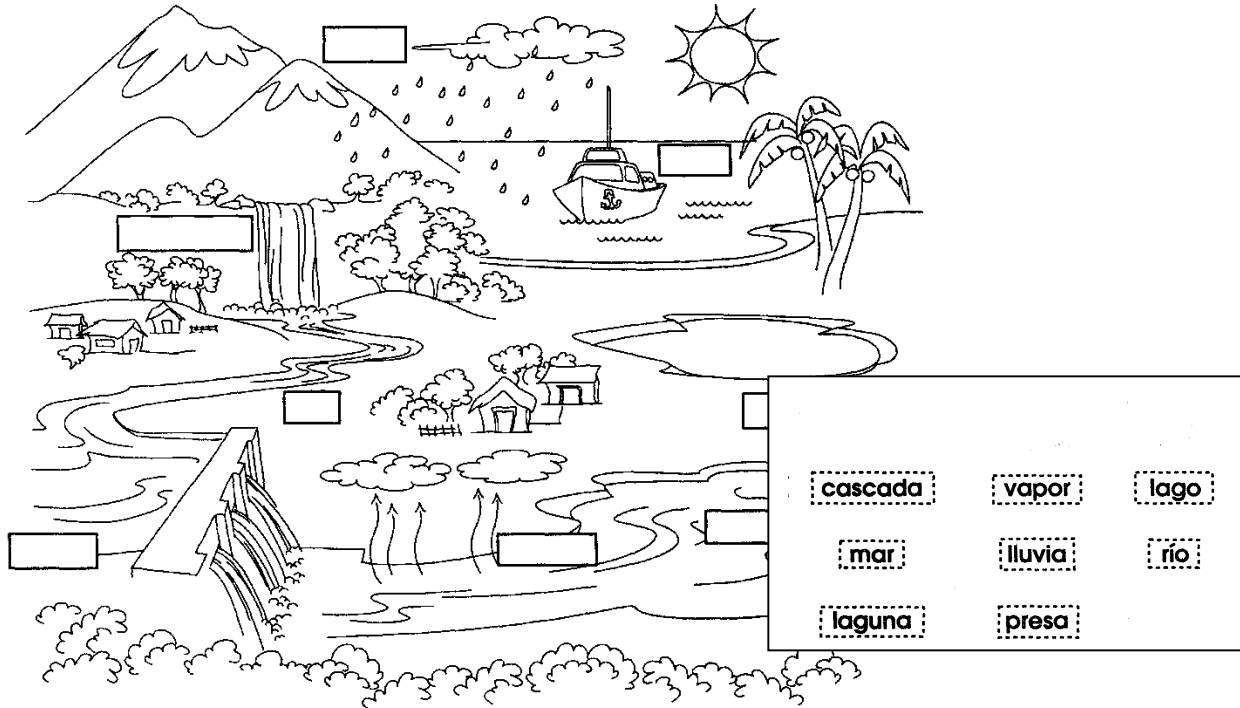
5- Coloreamos

- a) Los triángulos rojos
- b) Los círculos verdes
- c) Los cuadrados amarillos
- d) Los rectángulos naranja



CIENCIAS NATURALES


1- Observa el dibujo y los estados del agua. Une con los nombres



2- Dibuja y nombra tres alimentos de cada origen



- a) Alimentos de origen vegetal
- b) Alimentos de origen animal
- c) Alimentos de origen mineral

3- Completa la cadena alimentaria con las flechas y nombres



CIENCIAS SOCIALES

1- Escribe 5 elementos de cada paisaje



2- Coloca A o B según corresponda ciudad o campo



- Hay teatros, cines y centros comerciales.
- Hay tierras de cultivo
- Hay gallineros, corrales y establos.
- Hay calles pavimentadas, calles y semáforos.
- Obtienen el agua de manantiales, ríos y lagos.

Docente: Prof. Marta Lucero
Coordinadora: Lic. Juanita Luna