

GUÍA PEDAGÓGICA N° 23 DE RETROALIMENTACIÓN (3)**Escuela: Maestro José Berrutti****CUE: 700046400****Grado: 2°****Turno: Jornada completa****Docente/s:** Silvana Beatriz Arias - María Eugenia Fonzalida**Área/s integradas:** Lengua, Matemática, Ciencias Sociales, Ciencias Naturales.**Título de la propuesta: ¡Cuánto aprendimos juntos!****Contenidos:****Lengua:** La escritura autónoma de palabras y oraciones que conforman textos, respetando la correspondencia entre sonidos y letras.**Matemática:** Numeración. Operaciones: suma, resta, multiplicación (tabla del 2 y del 3), reparto (problemas sencillos).**Ciencias Sociales:** El Conocimiento de las principales características de espacios rurales y espacios urbanos.**Ciencias Naturales:** Los materiales. Características. Los animales, características básicas (locomoción y alimentación).**Indicadores de evaluación para la nivelación:**

- Escribe palabras con ayuda de soporte gráfico.
- Escribe oraciones con ayuda de soporte gráfico.
- Identifica el nombre del cuento.
- Renarra el cuento con sus propias palabras.
- Reconoce las principales características de los espacios urbanos.
- Reconoce las principales características de los espacios rurales.
- Identifica el espacio urbano.
- Identifica el espacio rural.
- Ilustra el lugar donde vive.
- Escribe números hasta 999.
- Interpreta enunciados.
- Escribe el anterior y el posterior de un número dado.
- Resuelve cálculos numéricos básicos con la operación de la multiplicación.
- Resuelve situaciones de reparto
- Interpreta relaciones espaciales.
- Reconoce los tipos de materiales.
- Identifica tipo de locomoción en animales.
- Identifica tipo de alimentación en animales.

Desafío: Producir un video renarrando un cuento y exponiendo ilustraciones o imágenes que demuestren lo aprendido.

Actividades:

ÁREA: LENGUA

1. Leé o escuchá leer.

CAPERUCITA Y SU BICICLETA ROJA

CAPERUCITA ESTÁ CANSADA DE CRUZAR EL BOSQUE CAMINANDO PARA IR A VISITAR A SU ABUELITA. POR AHÍ NO PASA NINGÚN COLECTIVO Y LA CANASTA PESA MUCHO. SU MAMÁ LA SORPRENDIÓ Y LE REGALÓ PARA SU CUMPLEAÑOS UNA HERMOSA BICICLETA ROJA.

EL LOBO SE ENTERÓ DE LA NOVEDAD Y FUE TAN GRANDE SU CURIOSIDAD QUE LE ROGÓ A CAPERUCITA QUE SE LA PRESTARA UN RATO. PERO EL LOBO NO PODÍA PEDALEAR BIEN Y SE CAÍA A CADA RATO. TODOS LOS ANIMALITOS DEL BOSQUE SE REÍAN A MÁS NO PODER. PERO CAPERUCITA, CON PACIENCIA, LE ENSEÑÓ. DESDE ENTONCES, EL LOBO Y CAPERUCITA SON GRANDES AMIGOS. EL LOBO LA ESPERA CADA DÍA PARA QUE CAPERUCITA LO DEJE DAR UNA VUELTA EN BICICLETA.

SILVIA BEATRIZ ZURDO



2. Completá .

TÍTULO DEL CUENTO:

3. Observá el dibujo y escribí que ocurre en esa parte del cuento.



.....

.....

.....

.....

.....

.....

.....

.....


ÁREA: CIENCIAS SOCIALES

1. Respondé: ¿Dónde te parece que sucede la historia? ¿En un espacio urbano o en un espacio rural?

.....

2. Observá con atención la imagen y escribí **ESPACIO RURAL O ESPACIO**

URBANO, según corresponda.







3. Marcá con una x las fotos que pertenecen al **ESPACIO RURAL**.



4. Ilustrá el lugar donde vives.

AREA: MATEMATICA

1- Completamos el castillo numérico, con los números que faltan, acompañando a “Caperucita por el bosque.”

	00	10	20	30	40	50	60	70	80	90	
	100		120			150			180		
	200			230			260			290	
	300	310							380	390	
	400		420			450			480		
	500				540					590	
	600			630				670		690	
	700		720			750			780		
	800			830						890	
	900	910						960		990	

2- Escribe los números vecinos



3- Ayudemos a Caperucita con la **TABLA DEL 3**. Recita la tabla del 3 y completa encerrando el resultado como sale en la imagen.



4-

Caperucita quiere repartir éstas galletitas, en partes iguales, en éstos frascos? ¿Cuántas galletitas debe colocar en cada frasco?




Respuesta: En cada frasco tiene.....galletitas

5- Observa bien la imagen del paisaje. Lee las consignas, recorta las imágenes y colócalas según corresponda.

A-El sol arriba

B-Lobo a la izquierda del camino.

C-Caperucita abajo a la derecha.



ÁREA: CIENCIAS NATURALES

- 1- Observa la imagen y escribe el nombre de los materiales señalados. Como sale en el ejemplo.



- 2- Responde marcando la opción correcta en un círculo.

El lobo del cuento:

* ¿Cómo se desplaza?

repta nada vuela camina

* ¿Cuántas patas tiene?

dos cuatro

- 3- ¿Qué tipo de alimentación tiene él lobo? .Rodea la respuesta correcta.

OMNIVORO

CARNIVORO

HERBIVORO



- Graba un video renarrando el cuento “Caperucita y su bicicleta roja”. No olvides enviarlo a tu maestra.
- Envió fotografías o imágenes de las actividades resueltas en esta guía.

Directora: Lizzie Robledo