



ProPAA  
Zona Este

Unidad Educativa N° 92  
CUE 700066321

Docente responsable:  
Cynthia Edith SISTERNA

GUÍA PEDAGÓGICA  
Primer ciclo. 1° año

1



## Espacios geográficos

### PROBLEMA

Los alumnos de este ciclo presentan problemas en la lectura y escritura. Tienen dificultad en asociar que operación matemática se aplica a cada problema.

### PROPÓSITOS

- Promover la lectura a través de textos cortos
- Favorecer el desarrollo de cálculos matemáticos en variados ejercicios

### DESAFÍOS

- . Realizar un afiche con los seres vivos y no vivos con características

### CAPACIDADES

#### Resolución de problemas

Analizar y resolver problemas mediante habilidades motoras (elementos concretos que lleva el docente)

### ÁREAS Y CONTENIDOS

#### Área Lengua

Asociación de comprensión por medio de imágenes Lectura y escrituras de sílabas palabras y oraciones. Refuerzo de imagen-palabra

#### Área CS. SOCIALES

Espacios Geográficos: Los mapas identificación y reconocimiento de las características

#### Comunicación

- Describir de manera oral y escrita los objetos y las oraciones que los contengan.
- Expresar en forma oral las distintas ideas con respecto de la resolución de una respuesta.
- Comprender la información oral y escrita expresada en función del tema a tratar

#### Área Matemática

Números enteros hasta el 30-Conteo-Asociación numérica con el almanaque-Doble-Mitad. Geometría triángulos

#### Área CS.NATURALES

Seres vivos. Refuerzo del tema

Indicadores de Evaluacion	L	NL	EP
Logra leer palabras cortas			
Reconoce y asocia la palabra y la imagen			
Interpreta un texto en forma oral			
Asocia la cantidad y el numero			

### ACTIVIDADES

**Áreas:** Matemática. Lengua. Ciencias Sociales. Ciencias Naturales

Estimados alumnos: Nos volvemos a encontrar en forma virtual. Debemos pensar que es para que todos estemos bien. Suerte en las actividades que su docente les envía.



1) Comenzamos un nuevo mes

# JUNIO

Pinta las vocales de la palabra Junio

Cuántas letras tiene la palabra Junio

c) Completa la secuencia numérica

1		3		5		7			10		12			15				20
																		30

2) Conocemos los meses del año

ENERO-FEBRERO-MARZO-ABRIL-MAYO-JUNIO-JULIO-AGOSTO-  
SEPTIEMBRE-OCTUBRE-NOVIEMBRE-DICIEMBRE

Pinta el mes de JUNIO

Cuenta cuantos meses tiene el año

Observa el cuadro y escribe el anterior y posterior

ANTERIOR Y POSTERIOR NÚMEROS DEL 0 AL 20					
	8			3	
	4			14	
	15			5	
	2			17	
	18			7	
	12			19	
	1			20	

2) Mes de Junio

JUNIO 2021						
Lunes	Martes	Miércoles	Jueves	Viernes	Sábado	Domingo
	1	2	3	4	5	6
7	8	9	10	11	12	13
14	15	16	17	18	19	20
21	22	23	24	25	26	27
28	29	30				

Pinta con color la primera semana de Junio

¿Cuántos días trae este mes?

Escribe los números de la primera semana

Escribe los números de la última semana

¿Cuál es el número mayor y cual el menor?

Nos leen

Los nombres de las personas son importantes porque identifican a cada una de ellas.

Lo mismo pasa con tu nombre, es lo que te hace único por eso es importante que tengamos una identidad.

Lo mismo pasa con los nombres de las personas, por eso cuando la nombran sabes de quien se trata.


El que sepas escribir tu nombre te identifica para siempre por ello es importante que lo escribas bien.

Escribe tu nombre completo

Pinta las vocales

Cuenta las letras de tu nombre y de tu apellido

Tu familia escribe el nombre de cada uno de ellos en un papel y tú lo copias en el cuadro



Ubica en el cuadro solamente los nombres de personas



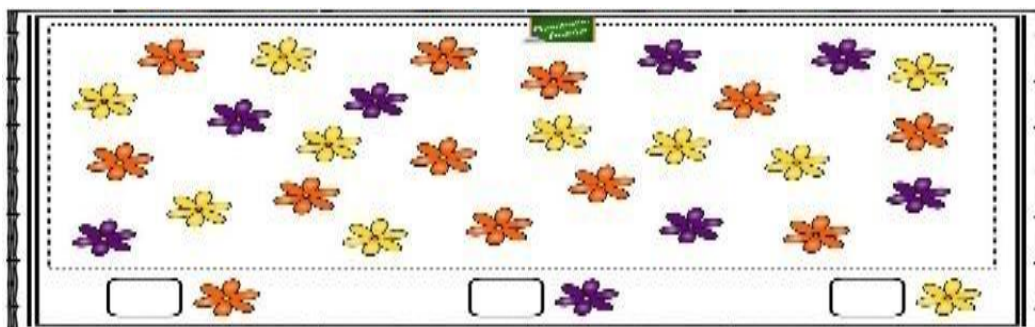
MAPA-MELISA-MESA-LUIS-MATE-EMA- PILA-ELSA-EMILIA-PAMELA-MOTO

Escribe cuantas letras tienen los siguientes nombres

MATEO-----

EMILIA----- PAMELA----- EMA-----


Contamos y escribimos el numero



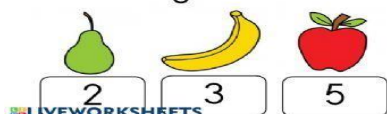
Leemos con mucha tranquilidad el siguiente texto

Importante: Cuando resuelvas un problema primero leelo tranquilamente y trata de imaginar la situación.

MI ABUELO HA RECOGIDO DEL HUERTO 10 PATATAS, 5 ZANAHORIAS Y 4 TOMATES. ¿CUÁNTAS VERDURAS TIENE EN TOTAL?



EN MI FRUTERO TENGO 2 PERAS, 3 PLÁTANOS Y 5 MANZANAS. ¿CUÁNTAS PIEZAS DE FRUTA TENGO EN TOTAL?



Autor pictogramas: Sergio Palao Procedencia: ARASAAC (<http://arasaac.org>)  
Licencia: CC (BY-NC-SA) Autora: Esperanza García

Resuelve

En casa compramos 6 bananas, 4 manzanas y 10 naranjas ¿Cuántas frutas en total tenemos?

Dibújalas

Tenía 50 pesos y gaste 25 ¿Cuánto me quedo?

El triangulo



Un triángulo es una figura geométrica de tres lados.

Existen varias formas de triángulos al igual que varios tamaños

Dibuja tres triángulos de diferentes tamaños y que sean distintos

Pinta el interior de cada uno de ellos para que sea una figura

Como ya aprendimos el cuadrado y ahora el triángulo. realiza un robot con las dos figuras

Observa



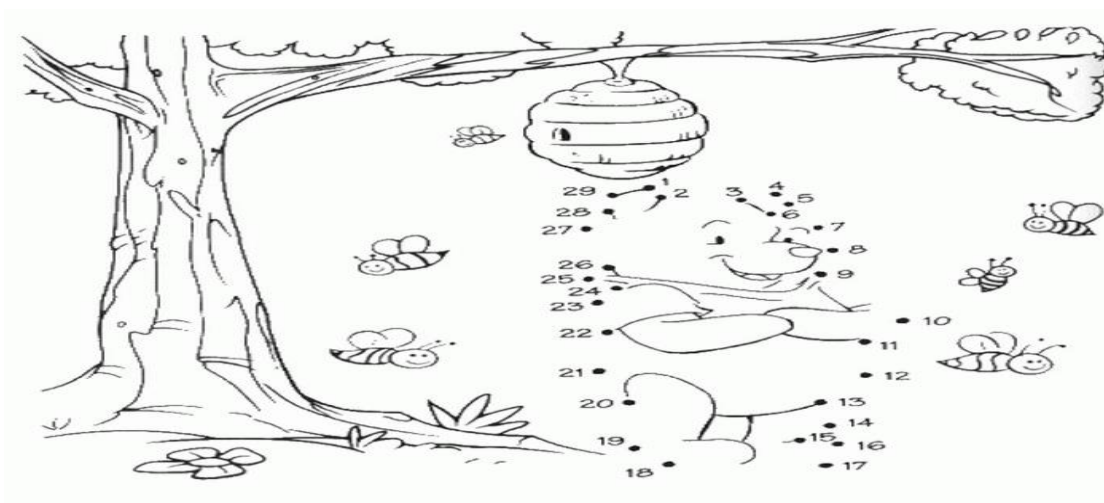
Pinta el cuadro de amarillo de aquellos que no son seres vivos

Elije un ser vivo del cuadro y animáte a dibujarlo

Redacta una oración corta con MOHO.

Si sacamos los seres vivos de la imagen ¿Cuántos cuadros me quedan?

Une los números y luego pinta la figura



Indica con una x cuales de las siguientes imágenes son mapas





Los mapas son representaciones graficas en forma de planos, existen de diferentes colores ,tamaños, etc

El siguiente mapa representa el planeta tierra osea el mundo. Pinta el país donde vives.

