

Pro.P.A.A. ZONA NORTE-U.E. 049

Docentes: Laura Leiva

Coordinadora: Lic. Juanita Luna

PRIMER CICLO


Turno: Mañana

Título de la Propuesta: ENTRE NUMEROS CONVIVIMOS A DIARIO

****MATEMATICA**

ACTIVIDADES A DESARROLLAR

Escribimos los números que faltan



Repasamos hasta el número 50

Observa detenidamente cada cuadro y completa mentalmente

Completa la tabla contando de 2 en 2

2	4			
		16		
				50

Completa la tabla contando de 10 en 10

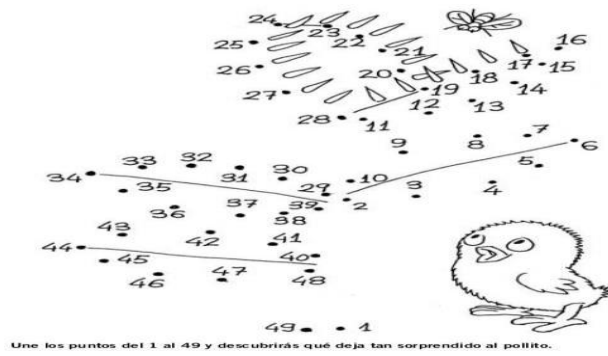
0	10				50
----------	-----------	--	--	--	-----------

Coloco el número anterior y posterior


Número anterior		Número posterior
	7	
	10	
	18	
	23	
	29	

Número anterior		Número posterior
	32	
	36	
	41	
	47	
	50	

¿Qué sorprende al pollito?



Secuencia numérica



Escribimos como se nombran las familias del 30 y 40 Presto mucha atención

Familia de 30



30+0=	
30+1=	
30+2=	
30+3=	
30+4=	
30+5=	
30+6=	
30+7=	
30+8=	
30+9=	

Familia de 40




40+0=	
40+1=	
40+2=	
40+3=	
40+4=	
40+5=	
40+6=	
40+7=	
40+8=	
40+9=	

Escucho y aprendo:

31 <i>treinta y uno</i>	32 <i>treinta y dos</i>	33 <i>treinta y tres</i>	34 <i>treinta y cuatro</i>
35 <i>treinta y cinco</i>	36 <i>treinta y seis</i>	37 <i>treinta y siete</i>	38 <i>treinta y ocho</i>
39 <i>treinta y nueve</i>	40 <i>cuarenta</i>	41 <i>cuarenta y uno</i>	42 <i>cuarenta y dos</i>
43 <i>cuarenta y tres</i>	44 <i>cuarenta y cuatro</i>	45 <i>cuarenta y cinco</i>	46 <i>cuarenta y seis</i>
47 <i>cuarenta y siete</i>	48 <i>cuarenta y ocho</i>	49 <i>cuarenta y nueve</i>	50 <i>cincuenta</i>

Ahora, te toca a ti escribirlos en tu cuaderno



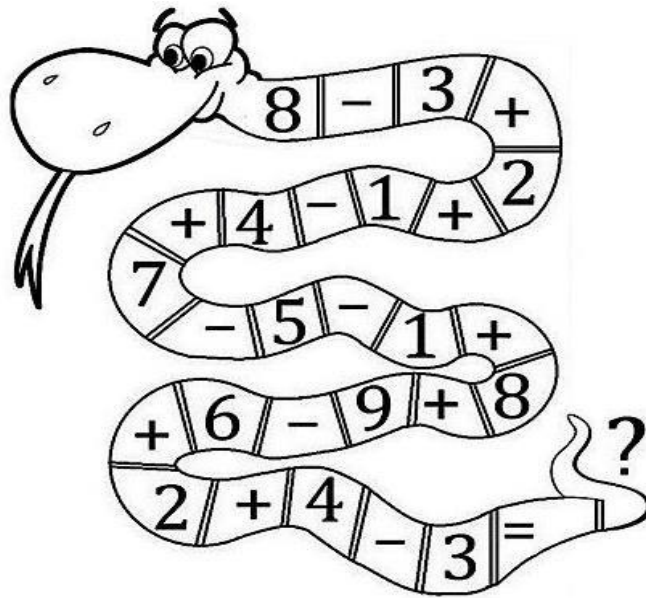
- | | |
|---------|---------|
| 30..... | 40..... |
| 31..... | 41..... |
| 32..... | 42..... |
| 33..... | 43..... |
| 34..... | 44..... |
| 35..... | 45..... |
| 36..... | 46..... |
| 37..... | 47..... |
| 38..... | 48..... |
| 39..... | 49..... |

CALCULOS

Resolvemos los siguientes cálculos matemáticos

Une cada operación con su resultado

10 + 7 + 2	
14 - 3 + 5	15
15 + 5 - 5	3
19 - 10 - 6	16
	19



$1 + \square = 4$	$7 + \square = 9$	$6 + \square = 10$
$3 + \square = 4$	$5 + \square = 8$	$9 + \square = 10$