

Guía Pedagógica N° 22 de Retroalimentación**Escuela:** Provincia del Chubut**CUE:** 70004500**Docente:** Luna, Saúl F.**Grado:** Cuarto**Turno:** Jornada Completa**Área Curricular:** Matemática, Ciencias Naturales, Lengua, Ciencias Sociales, Formación Ética y Ciudadana**Título de la propuesta:** “Un último esfuerzo.... y me sigo cuidando”**Contenidos:****Área: Matemática**

- Construcción y uso de la sucesión de números naturales de forma oral y escrita hasta el 90.000.
- Valor posicional de las cifras de un número.
- Operaciones con números naturales. Suma, resta, multiplicación y división
- Situaciones problemáticas.
- Clasificación de los triángulos según sus lados y ángulos.
- Fracciones: lectura, escritura, suma con igual y distinto denominador de fracciones.
- Medidas de longitud, capacidad y peso, equivalencias

Área: Ciencias Naturales

- Los animales según su alimentación.
- las partes de las plantas.
- Animales Vertebrados e invertebrados.
- Ecosistemas: tipos de ecosistemas.
- Ambientes de San Juan.
- Movimientos de traslación y rotación.
- Partes de la tierra y composición de la geosfera.
- Tipos de materiales.

Área: Lengua

- Lectura y análisis de textos.
- Uso de diccionario
- Sustantivos, adjetivos y verbos.
- Sinónimos, antónimos.
- Hiperónimos

Área: Ciencias Sociales y Formación Ética y Ciudadana

- Ubicación geográfica de nuestra provincia y departamento en el mapa de la República Argentina
- Límites de la provincia de San Juan.
- Actividades económicas de nuestra provincia y departamento.
- Los aborígenes que habitaron en nuestra provincia.
- Sistema político de nuestro país, provincia y departamento.
- Derechos de los niños.

Indicadores de evaluación para la nivelación

- Puntualidad y prolijidad en la presentación del trabajo.
- Compromiso y responsabilidad al realizar las consignas.
- Todas las consignas deben estar completas.
- El desarrollo de todas las actividades debe ser realizadas y escritas por el alumno.
- Las respuestas deben ser en forma clara.

Actividades:

1- A través de un juego de lotería diversos participantes han ganado diferentes montos de dinero. Observo el listado de los que más ganaron.

Ganadores	Monto en pesos que ganó
Jorge	\$79.750
Florencia	\$68.865
Aníbal	\$63.564
Mariela	\$57.433
Rosana	\$42.128
Ariel	\$23.580
Francisco	9.785

2- Escribe como se lee lo que ganó Aníbal y Mariela.

.....

3- ¿Cuánto dinero ganaron entre Rosana y Francisco? Escribe en número y letras.

.....

4- ¿Cuánto dinero hay de diferencia entre Jorge y Ariel? Escribe en número.

.....

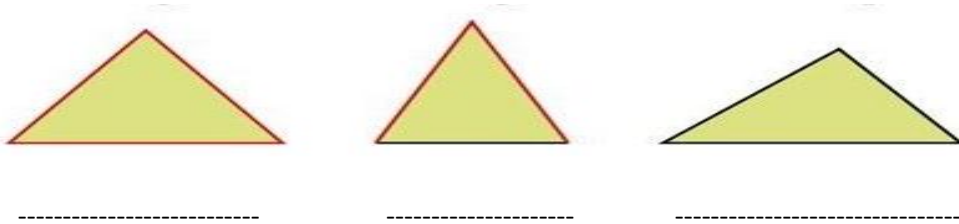
5- Marca con una X el número que tiene el dígito 2 en la decena.

- 42.345 b)43.345 c)43.425 d)43.452

6- La abuela Josefina \$27.570 ahorrados y los quiere repartir entre sus 6 nietos. ¿Cuánto dinero le corresponde a cada uno?

7- El precio de un viaje de estudios sale \$7.850 por persona y van a viajar 8 alumnos. ¿Cuánto sale en total el viaje de estudios?

8- Clasifico los triángulos según sus lados



9- Une con flecha según corresponda



Angulo RECTO

Angulo OBTUSO

Angulo AGUDO

10- Escribe como se leen y representa gráficamente las siguientes fracciones

3 / 5:

6 / 8:

11- Sumo las siguientes fracciones

$6 / 9 + 2 / 9 =$

$2 / 4 + 1 / 2 =$

12- Completa

12 M es = aCM

200 CM es igual a M

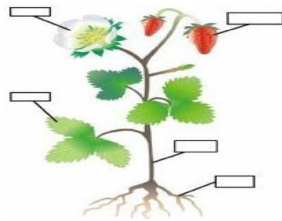
b)

LITRO	MEDIO LITRO	CUARTO DE LITRO
4		
9		

13 - Responde

- ¿Cuántos cuartos de kilo hay en 3 kilogramos?
- ¿Cuántos medios kilos tienen en 7 kilogramos y medio?

Indica las partes de una planta



Los animales según su alimentación se clasifican en:


Marca con una (V) los animales vertebrados y con una (I) los invertebrados

vaca	caracol	rana
araña	gallina	estrella de mar

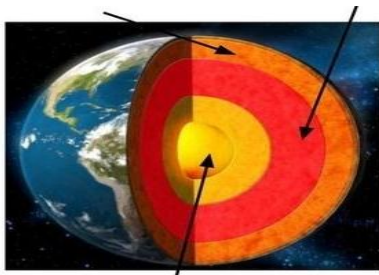
¿Qué es un ecosistema? Menciona los tipos de ecosistema.

Menciona los tipos de flora y fauna que tiene San Juan.

6- Observa las siguientes figuras y menciona que tipos de movimientos son.



Menciona las partes de la tierra y coloca en la figura las partes de la geosfera



Describe los tipos de materiales y dar ejemplos de cada uno

¿Qué es, y para que nos sirve el aparato locomotor?

¿Cómo está formado el aparato locomotor?

❖ ¿Leer reiteradamente el texto "La leyenda de la guitarra" En el libro San Juan y Yo página 201

Responde:

a) ¿Cómo es el título del texto?

- b) ¿Quiénes son los personajes?
4Describe como era cada uno de los personajes
- c) ¿Dónde crees que sucedieron los hechos?
- d) Explica brevemente el argumento de la leyenda.
- e) ¿Estuvo bien lo que hizo el indio? ¿Por qué?
- f) ¿Por qué crees que Dios lo premia?
- g) ¿De qué forma?
- h) ¿Qué es una caja sonora?
- i) ¿Te imaginabas el final?

❖ **Busco en el diccionario el significado de las siguientes palabras**

Caserío - galas - provisiones - resplandor - fidelidad

❖ **Escribe en el cuadro los sustantivos, adjetivos y verbos que hay en el texto**

Sustantivos propios	Sustantivos comunes	Adjetivos	verbos

❖ **Une con flecha el Sinónimo correspondiente**

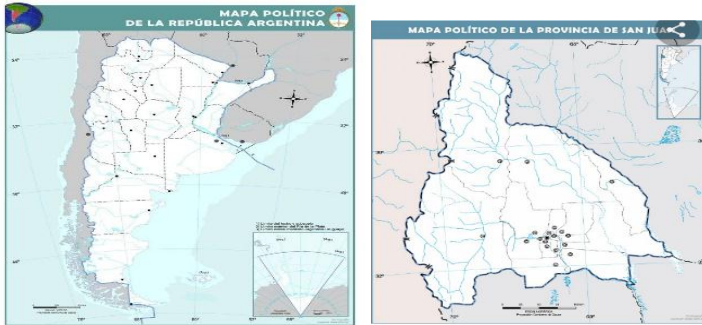
- | | |
|-----------|-----------|
| Cura | Escuela |
| Pelota | Asno |
| Colegio | Sacerdote |
| Burro | Sabroso |
| Cuerda | Balón |
| Delicioso | Soga |

❖ **Relaciona cada término de la columna A con su antónimo de la columna B**

Columna A	Columna B
1- Abundancia	() Enemigo
2- Caos	() Sabio
3- Pesado	() Escasez
4- Amigo	() Liviano
5- ignorante	() Orden

- ❖ Escribe el Hiperónimo de cada grupo de palabras.
 - a) Marte – Júpiter – Saturno – Tierra:
 - b) Verde – Azul – Rojo – Amarillo:
 - c) Lentejas – garbanzos- porotos – Arvejas:

✚ En el mapa de la República Argentina marca con color la Provincia de San Juan.



- ✚ En el siguiente mapa de San Juan
 - Marca y escribe con quien limita nuestra provincia
 - Pinta la zona de Área de Frontera
 - Pinta nuestro departamento.

✚ Menciona actividades productivas de nuestra provincia.

✚ ¿Qué actividades productivas tiene nuestro departamento?

✚ ¿Qué aborígenes habitaron en nuestra provincia?

✚ Menciona los poderes de la Argentina y quienes lo integran.

- **Completa**

✚ En nuestra provincia el poder ejecutivo lo preside el:

✚ En nuestro departamento el poder ejecutivo lo preside el:

✚ El poder legislativo de nuestro departamento está constituido por los:

✚ Menciona los derechos de los niños.

Directora: Prof. Amanda Balmaceda