

“GUÍA PEDAGÓGICA N° 23 DE RETROALIMENTACIÓN- Grupo 3/Escenario3”

Escuela: 20 de Junio

CUE: 7000484-00

Docente/s: Seco Micaela, Alejandra Caselles, Sergio Mañe, Ángeles Gonzales, Neri Rivera.

Grado: 4º

Turno: Jornada Completa.

Área/s: Matemática, Cs. Naturales, Formación Ética y Ciudadana, Computación, Ed. Física, Agropecuaria, Música.

Título de la propuesta: Jugar para fortalecer lo aprendido.

Contenidos:

-Matemática: valor posicional, situaciones problemáticas, triángulos según sus lados y sus ángulos, rectas, ángulos.

-Cs. Naturales: Ecosistema, factores biótico-abióticos, tipos de ambientes.

-Formación Ética y Ciudadana: los valores.

-Computación: -La computadora y su función. -Las Partes básicas de la computadora (mouse, monitor, teclado, gabinete impresora).

-Ed. Física: Conocimiento de practica corporales saludables que impliquen aprendizajes significativos.

-Agropecuaria: compost, restos orgánicos, reciclado.

-Música: Cualidades del sonido.

Indicadores de evaluación para la nivelación

-Matemática: -Comprender consignas. -Reconocer los triángulos. -Resolver y analizar situaciones problemáticas.

-Cs. Naturales: -Reconocer los factores de un ambiente. -Identificar los tipos de ambientes.

-Formación Ética y Ciudadana: -Reconocer e identificar los valores.

-Computación: -Conocer de forma correcta todas las partes de la computadora en un sistema de computación. -Identificar las funciones principales de los computadores.

-Ed. Física: -Resolver situaciones específicas sobre la practica deportiva.

-Agropecuaria: -Identificar los residuos. -Conocer y reflexionar sobre la importancia del reciclaje.

-Música: Responder a la propuesta sobre cualidades del sonido.

Actividades:

Nombre y Apellido del Alumno:.....

DNI:.....

-Matemática

-Colorea según el valor posicional de cada caso. ● Centena ● Decena ● Unidad

493		159	
255		231	

-Resuelve los siguientes problemitas. (Deben realizar las cuentas con lápiz y escribir la respuesta)

1 -Ana quiere repartir equitativamente 20 pastillas en 5 bolsas. ¿Cuántas pastillas alcanzan en cada bolsa?



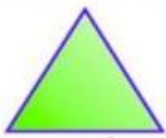
3 -A la función del circo asistieron 800 personas entre niños y adultos. Si 267 eran adultos. ¿Cuántos eran niños?



2 -La mamá de Patricio tenía que comprar una caja de lápices para sus tres hijos. Si cada caja costaba \$310. ¿Cuánto gasta al comprar las 3 cajas de lápices?



-Escribe el nombre de los triángulos según sus lados.

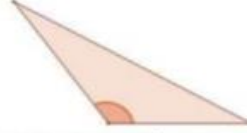
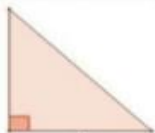


.....

.....

.....

-Escribe el nombre de los triángulos según sus ángulos.



.....

.....

.....

-Resuelvo

a- $2489 - 296 =$

c- $359 + 297 + 42 =$

b- $386 \times 25 =$

d- $47 : 6 =$

Computación

1) Dibuja la netbook en un afiche:

- a. Utiliza el material que tengas en casa (afiches, lápiz, regla, tijera, cartulinas, plasticola, fibras de color, lápices de color fibras de color, lápices de color, fotocopia del teclado).
- b. Señala las partes de la netbook: pantalla, teclado, touch, cámara web.

2) Observa estas imágenes y presta atención.



.....

.....

.....

- a. Marca el ángulo de cada netbook y escribe su nombre.
- b. Busca una de estas tres rectas (secante, paralela, perpendicular) y trázala con color azul.

3) Completa las oraciones.

- ✚ Se adapta a la mano y tiene dos botones _____.
- ✚ Su función es mostrar todo lo que sucede en la computadora _____.
- ✚ Contiene teclas con letras, números, signos y símbolos _____.

4) Saca una foto de todo el trabajo y envíala a la profesora de Computación.


Cs. Naturales

-¿Qué es un ecosistema?

.....

.....

-Observa la imagen



- Realiza un cuadro y escribe los factores bióticos y abióticos de la imagen según corresponda.
- Escribe si la imagen es un ambiente acuático, aeroterrestre o de transición.

.....

Agropecuaria: Compost en botella»

Materiales:

- Botella de 1lts.
- Restos de frutas y vegetales.
- Cáscaras de huevo. • Papeles y cartones.
- Hojas y pasto seco.
- Tierra.
- Cinta aisladora.



1º Paso: Se corta la parte superior de la botella (no totalmente para después poder cerrar nuevamente)

2º Paso: Se cortan en trozos pequeños los Restos de frutas y verduras, los papeles, hojas secas y cáscaras de huevo.

Una vez preparados los restos orgánicos se colocan en la botella en el siguiente orden:

3º Paso:

- Tierra. 1/4
- Restos de frutas y verduras 1/4
- Tierra 1/4 y Hojas secas y papeles 1/4

4º Paso: Si la tierra está demasiado seca se pulveriza con agua cada capa de tierra.

5º Paso: Una vez completadas todas las capas se cierra la botella, sellándola con cinta aisladora. Se coloca el «compostador» en un lugar oscuro.

Por cualquier consulta te puedes comunicar al 2644448403. Cuando termines tu compostera envíame una foto o un video de preparaste la compostera.

Música:

1- Leemos la letra de la siguiente canción tradicional:

Fray Santiago

Fray Santiago, Fray Santiago

¿Duerme usted?, ¿Duerme usted?

Suenan las campanas, Suenan las campanas

¡Ding, dong, dang; Ding, dong, dang!

2- Incluimos junto a la letra la siguiente percusión corporal que se encuentra entre paréntesis respetando las sílabas. Quedaría así:

Fray San tia go, Fray San tia go
 (palma) (palma) (palma) (palma) (palma) (palma) (palma)
 ¿Duer me us ted?, ¿Duer me usted?
 (palma) (palma) (muslo) (palma) (palma) (muslo)
 Sue nan las cam pa nas, Sue nan las cam pa nas
 (pie) (pie) (pie) (pie) (muslo) (muslo) (pie) (pie) (pie) (pie) (muslo) (muslo)
 ¡Ding, dong, dang; Ding, dong, dang!
 (muslo) (muslo) (palma) (muslo) (muslo) (palma)

***Referencia:**
Palma: entrechocar las palmas de las manos.
Muslo: golpe en el muslo con la mano.
Pie: golpe con el pie sobre el piso.

3- Puedes hacer la palma más débil, el muslo un poco más fuerte y el pie fuerte.


4- Anota el nombre de otra canción con la que harías esta actividad.

Formación Ética y Ciudadana

LOS VALORES

Los valores humanos son aquellos aspectos positivos que **nos permiten convivir con otras personas de un modo justo con el fin de alcanzar un beneficio global como sociedad.**

-Pinta y escribe cuales son los valores que más te caracterizan como persona.



-Completa las frases con los valores que correspondan a cada oración.

la solidaridad y la comprensión son _____ que debemos practicar.

Dentro de una _____ existe, amor, respeto y comprensión.

Se debe enseñar a los niños los valores _____ por los padres, maestros y sociedad

Una cualidad de una _____ es la honestidad.

Los valores ayudan a formarse _____ al ser humano.

todos los niños y niñas deben _____ a sus padres.

integralmente

persona íntegra

familia

respetar y amar

valores

culturales

Edu. Física

1. Identificación de materiales para práctica de hándbol.
2. ¿Cuál sería la composición de Aparato Locomotor?
3. Realizar 10 lanzamientos continuos de pases sobre hombro a un círculo dibujado en la pared a una distancia de 6 mts.
 - Cualquier consulta por whatsapp: 2646603268

ACTIVIDAD FINAL

Te propongo a realizar el siguiente juego.

Reglas del juego: para llegar a la final y ser un súper campeón debes responder las consignas de todos los casilleros. Debes escribir y resolverlo en un papel.

Referencias para el juego:

Casillero N° 1: Escribe los tres últimos números de tu DNI y sumale tu edad.

Casillero N° 2: ¿Cómo se llama este ángulo? ¿Cuánto mide?

Casillero N° 3: ¿Qué instrumento musical tiene el nene? ¿Es un instrumento de viento, cuerda o percusión?

Casillero N° 4: Multiplica 268×35 . Luego a ese resultado le sumas 12.

Casillero N° 5: ¿Cómo se llama esta recta?

Casillero N° 6: ¿Con cuál de estas pelotas se juega al hándbol?

Casillero N° 7: ¿Cómo son los lados de un triángulo escaleno?

Casillero N° 8: Realiza una lista con cinco alimentos saludables y cinco que no sean saludables.

Casillero N° 9: Al resultado del casillero N° 1, Réstale la edad de tu mamá. Luego a ese resultado divídelo en 4.

Casillero N° 10: Realizar actividad física, ¿A que parte de nuestro cuerpo beneficia? Nombrar.

Casillero Nº 11: Observa la imagen y escribe las partes de una computadora. y escribe que tipos de windows conoces

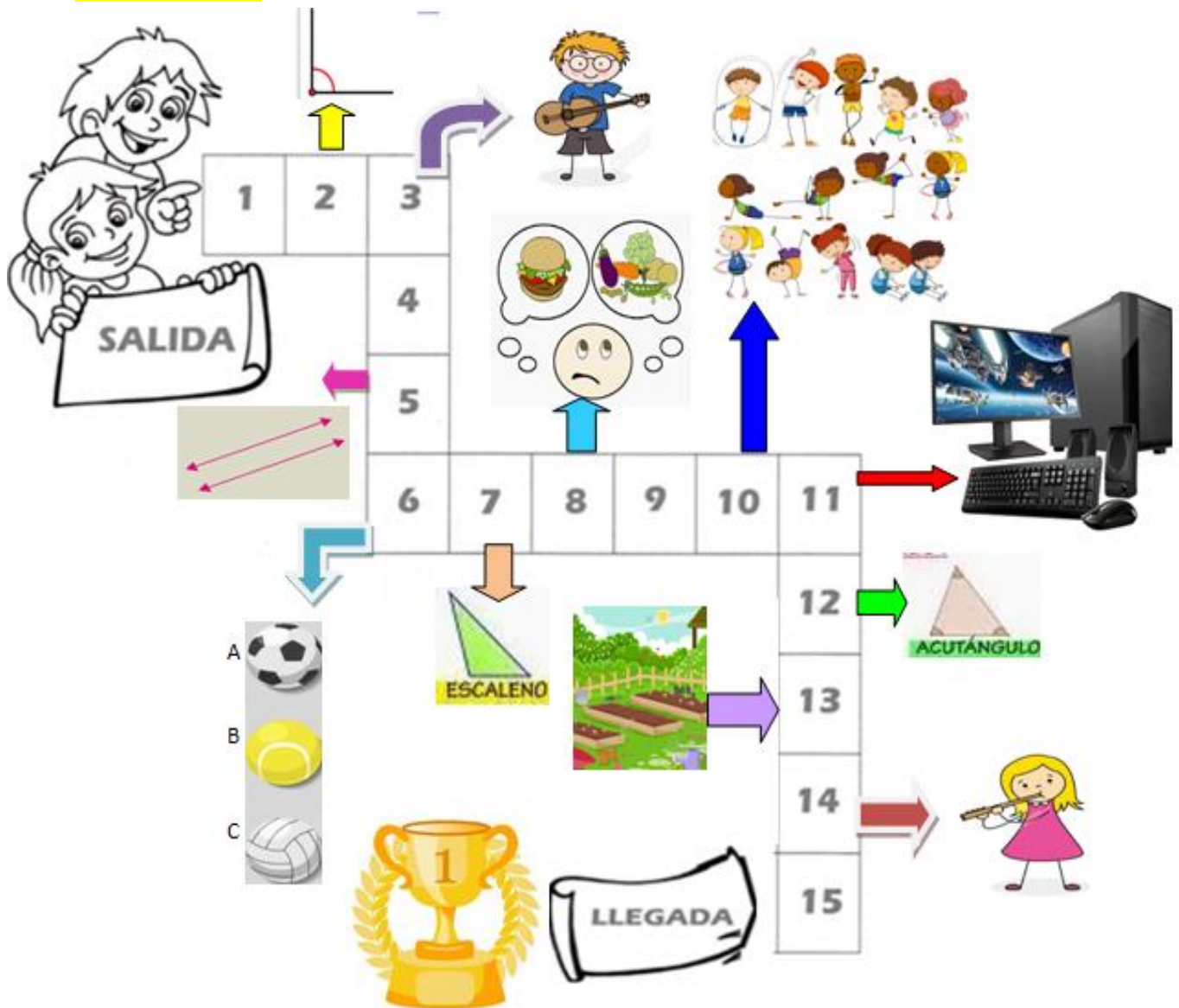
Casillero Nº 12: ¿Cómo son los ángulos de un triángulo acutángulo?

Casillero Nº 13: ¿Qué materiales se necesitan para plantar una huerta en casa?

Casillero Nº 14: ¿Qué instrumento musical tiene la nena? ¿Es un instrumento de viento, cuerda o percusión?

Casillero Nº 15: Escribe los valores que tú crees más importantes para convivir en armonía.

Ahora a JUGAR...



!!! FELICIDADES LLEGASTE A LA META!!! Ahora debes enviarle a la seño una foto de todas las respuestas.

Directora: Dora Guevara

Vicedirector: Darío Sosa