

GUÍA PEDAGÓGICA DE RETROALIMENTACIÓN N° 23. (2)

Escuela: Capital Federal

CUE. 700060700

Docentes: Micheli Mariela – Luján Montaña

Grado: 4º A y B. Segundo Ciclo. Nivel Primario Turno: Mañana y Tarde

Áreas: Matemática, Ciencias Naturales, Educación Física, Música

Título de la Propuesta: **FIESTA DE LA TRADICIÓN VIRTUAL**

Contenidos: **MATEMÁTICA:** Respecto del número y el sistema de numeración: El número natural (0 por lo menos hasta 100.000. Escritura de números naturales. Regularidades de la serie oral y escrita hasta 100.000. Relaciones de mayor, igual, menor, anterior, siguiente, entre. Operaciones con números naturales Sumas y restas con números naturales en el intervalo 0 - 10.000. Caracterización de diferentes cuerpos geométricos según la forma y el número de caras. **CIENCIAS NATURALES:** Ambientes de San Juan. Características de la flora y fauna regional. Especies en peligro de extinción. Sistema ósteo-artro muscular: huesos, articulaciones y músculos. Protección de la salud del sistema ósteo-artro-muscular. **MÚSICA:** Patrimonio cultural local y regional, Forma, Estilo, Voz hablada. **EDUCACIÓN FÍSICA:** Juegos Tradicionales.

Indicadores de evaluación para la nivelación:

Matemática:*Establece las regularidades de la serie numérica escrita para leer y escribir números convencionalmente. *Utiliza sumas y restas, con dificultad en sus unidades, distintas maneras de presentar la información (enunciados. tablas, gráficos, etc.), reconociendo y registrando los distintos cálculos necesarios para su resolución.* Identifica características y elementos de los cuerpos geométricos para diferenciarlos. **Ciencias Naturales:** Conoce las especies que forman los diversos ambientes de San Juan.*Localizar diferentes huesos y músculos en ilustraciones del cuerpo humano. **Educación Musical:** *Interpreta, analiza e identifica una producción que integra el patrimonio musical local, regional y nacional. *Explora sus posibilidades vocales en voz hablada. **Educación Física:** *Describe, elabora y practica juegos tradicionales autóctonos.

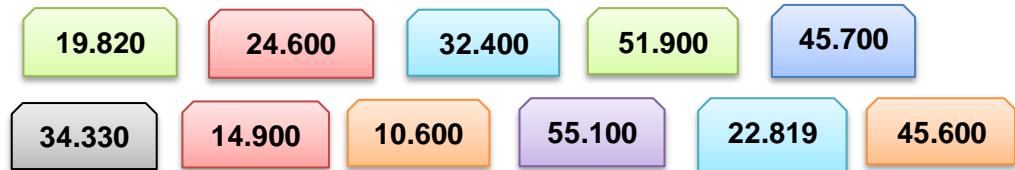
Desafío: Pensar un juego para embocar donde el puntaje sean números con n° de 5 cifras puedes usar material reciclable que tengas en casa.

Actividades: MATEMÁTICA

FIESTA DE LA TRADICIÓN – 10 de Noviembre.



En Jáchal están preparando la *Fiesta de la Tradición en forma virtual* y organizaron un gran sorteo, estos son algunos de los números que ya se vendieron.



José es el encargado de llevar el control de los n° por ello...

Ayúdale a ordenar los números de mayor a menor -----

Pero luego decidió...

Ubicar el n° en las filas que corresponden según la **decena de mil**.

10.000	
20.000	
30.000	
40.000	
50.000	

Piensa y agrega uno más para cada fila.

CIENCIAS NATURALES

Guille es el gaucho más joven y será quien publicará información sobre San Juan en la página virtual ¿podrías ayudarlo con algunas cosas que no sabe?



Según la página 43 del libro ¿QUÉ ES UN ECOSISTEMA? Copia.

Copia 2 ejemplos de la **FLORA** y **FAUNA** de SAN JUAN de cada ambiente .

AMBIENTES	FLORA	FAUNA
ANDINO		
MONTE de SIERRAS y BOLSONES		
MONTES DE LLANURA y MESETAS		

MATEMÁTICA

Don Zoilo está cantando los números del sorteo.

27.600

27.400

23.180

37.490

27.500



¿Podrías escribir los nombres de los números que salieron?



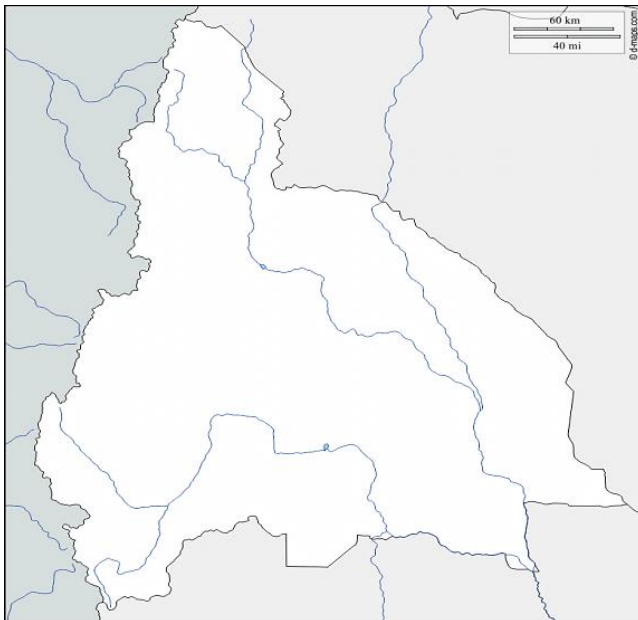
Don José dice que también salieron estos números ¿Cuáles son?

Veintisiete mil trescientos cuarenta y cinco mil ciento veinte diez mil once
treinta y ocho mil quinientos treinta y dos veinticinco mil doscientos cincuenta

De los nº que dijo *don Zoilo* y *don José* cuáles y dónde ubicarías en esta serie numérica.

27.100	27.200					27.700	27.800
--------	--------	--	--	--	--	--------	--------

CIENCIAS NATURALES



A Guille se le ocurrió dibujar en un mapa los lugares donde se encuentran Los ambientes de San Juan.



También señaló algunas especies en PELIGRO de EXTINCIÓN (sombra de toro, cóndor, sauce criollo, puma)

¿Podrías buscarlas y hacerlo?

MATEMÁTICA: PROBLEMAS CON TRADICIONES

Don José vendió **23.426** entradas y Don Zoilo **11.341**



¿Cuántas entradas vendieron entre los dos?



¿Cuántas entradas **más** que don Zoilo vendió Don José?

Recuerda: utilizamos la **suma** cuando averiguamos totales, agregamos o juntamos cantidades y **restamos** cuando quitamos, sacamos diferencia, averiguamos cuanto falta para...



*Guille sorteará este cuadro cuando llegue a los **12.484** seguidores, aún tiene **11.350** ¿Cuántos le faltan aún?



También se organizó un concurso **CANTANDO por TRADICIÓN** la gente votaba por mensajitos de textos.



Participante	1º canción	2º canción	Puntaje FINAL
	votos	votos	
Martín	12.470	13.200	
Pedro	16.579	8.346	
Juan	9.530	11.610	

¿Quién ganó el concurso? -----

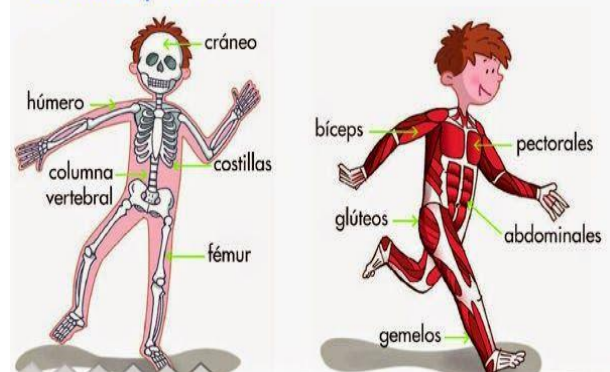
¿Qué diferencia hay entre el puntaje de Martín y Pedro?-----

¿Por cuántos puntos le ganó Martín a Juan? -----

CIENCIAS NATURALES. Sistema óseo y muscular

Los ----- son la parte dura cuerpo y sirven de sostén y los ----- la parte blanda que permiten el movimiento y le dan forma.

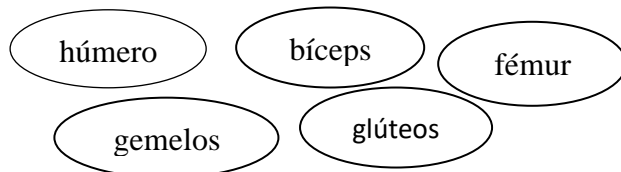
Los huesos y los músculos



¿Qué músculos están trabajando? Traza flechas con sus nombres.



Pinta con **azul** los músculos y con **verde** los huesos.



MATEMÁTICA – GEOMETRÍA

1_Colorea:

Prismas ▶  Piramides ▶ 

Los cilindros ▶  Conos ▶  Esferas ▶ 



2-Relaciona cada objeto con su forma:



Prisma

Pirámide

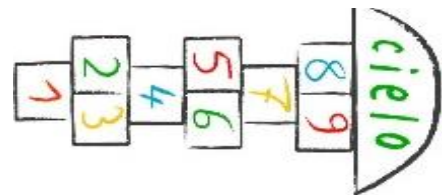
Cilindro

Cono

Esfera

EDUCACIÓN FÍSICA

Realizarán un juego tradicional que jugaban nuestros padres y abuelos. “El Tejo o Rayuela”.



1. Busca una piedra, una tiza (o carbón) y traza en el piso los cuadrados, colócales números y júgalo en familia.

2. Manda a mi correo profeandrespereyra@hotmail.com una foto o video realizando el juego. ¡Que te diviertas!

MÚSICA

❖ Lee la siguiente canción:

VALLECITO

Vallecito de Huaco donde nací,
sombra del fuerte abuelo que ya se fue;
a tu molino viejo quiero volver
hoy que de amarga vida probé la hiel.

Lejos de ti,
de mi querencia,
pobre de mí
me paso llorando ausencias,
me paso llorando ausencias.

Te canto Vallecito por recordar
tus verdes alfalfares mi huerto en flor,
el oro de tus trigos, el manantial,
y la lejana estrella que el reflejó.

Lejos de ti,
de mi querencia,
pobre de mí,
me paso llorando ausencias,
me paso llorando ausencias.

❖ Responde en tu cuaderno:

- a) ¿Escuchaste alguna vez esta canción?
- b) ¿Sabes quién es el autor? Escribe su nombre
- c) ¿Qué profesión u ocupación tenía el autor?
¿De qué lugar de San Juan habla? ¿Lo conoces

Equipo Directivo: Juana Montaña, Zulma Orellano.