

LÍNEA DE FINES 1.

ESCUELA: BACHILLERATO J. MANUEL ESTRADA

DOCENTE: MATIAS DARIO CABAÑES

ÁREA CURRICULAR: GEOGRAFIA DE 1RO.

TEMA: “ESPACIO GEOGRÁFICO, PAISAJE, TIPOS, ORIENTACIÓN Y CONTINENTES Y OCÉANOS”.

ASIGNATURA: GEOGRAFÍA GENERAL.

GUIA: 1

GUÍA DE ACTIVIDADES:

1-Lea el siguiente documento de información: “El Espacio Geográfico” y luego realice las siguientes actividades:



El Espacio Geográfico. El espacio accesible, habitado y transformado por el hombre. Es la superficie de la Tierra. Es el espacio donde el hombre desarrolla sus actividades. Es el espacio donde se provee los elementos necesarios para satisfacer sus necesidades. Hay tipos de espacios geográficos. Un lugar en la Tierra (espacio continental), en el mar, lago u océanos (espacio acuático), en el aire (espacio aéreo) y ahora el hombre “astronautas” ha llegado al espacio sideral y lo está contaminando poco a poco (espacio cósmico). Estos espacios no están desconectados entre sí sino que influyen y se relacionan unos con otros y a la vez con los seres humanos. El Espacio Geográfico presenta las siguientes características: Accesible: Cualquier espacio geográfico en el mundo tiene una ubicación a la cual el hombre accede. Localizable: Todos sus puntos en la superficie terrestre se pueden localizar: (Latitud, Longitud y Altitud). Cartografiable: El espacio se lo puede representar en un Mapa, Plano y Cartas Topográficas. Diferenciado Por la localización y por la evolución nunca encontramos dos espacios iguales Dinámico: El espacio cambia a través del tiempo.

a-¿Qué es el espacio geográfico? b) ¿Qué características presenta el espacio geográfico? Complete el Cuadro Comparativo.

b- Características presenta el espacio geográfico? Complete el Cuadro Comparativo.

Características			

c- ¿Cuáles son los tipos espacios geográficos que observas en las siguientes imágenes? Colóquele el nombre a cada uno de ellos.



2- Lea el siguiente texto “El Paisaje”.


Los paisajes son la parte visible del espacio geográfico. Es todo lo que observamos Todo paisaje una parte del espacio geográfico. Siempre debe haber un observador que lo contemple. Los paisajes se clasifican en: -Paisajes naturales: es el resultado del trabajo permanente de los fenómenos geológicos y climáticos a través de millones de años. Son aquella porción de espacio geográfico que no ha sido transformado por la acción humana. -Paisajes humanizados o culturales: son aquellos espacios geográficos que han sido transformados por la acción humana. Son los espacios humanizados los que predominan en la actualidad, siendo la ciudad el ejemplo más perfecto de un paisaje cultural o humanizado.

a) Complete la siguiente Sinopsis con los conceptos correspondientes.

Paisaje:.....	Paisaje Natural:
	Paisaje Cultural:.....

b) **Observe y colorea los siguientes paisajes.**

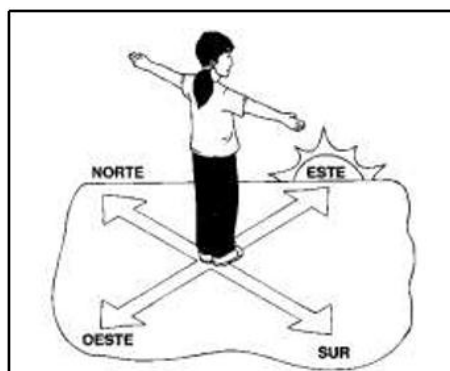
c) **Identifique cada uno de ellos con su nombre correspondiente**




d) **Busque, recorte y pegue imágenes con tipos de paisajes.**

3- Lea con atención los siguientes textos:

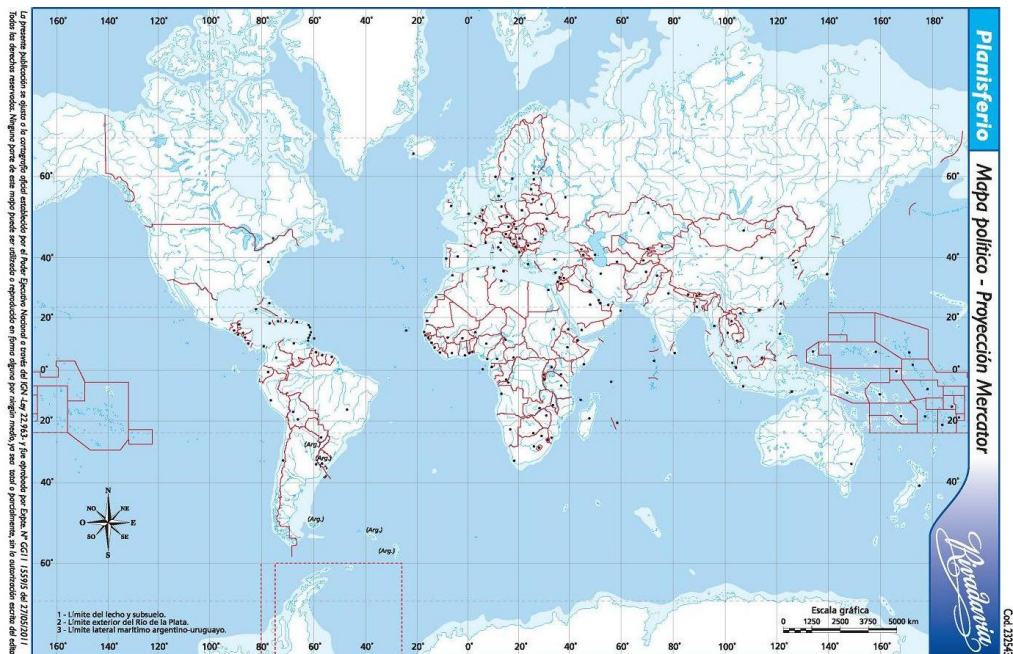
¿Sabías que...? La palabra Orientación significa: buscar el Oriente o el Este o sea el Punto cardinal por donde aparentemente sale el Sol, y se oculta por el Occidente u Oeste. Los otros dos puntos Norte y Sur, están referidos a la dirección de los polos Ártico y Antártico respectivamente. Los Puntos Cardinales: son las cuatro partes o puntos en que se subdivide el horizonte: Los Puntos Cardinales son: □ NORTE: Es el punto opuesto al Sur. □ SUR: Es el punto opuesto al Norte. □ ESTE: Es el punto por donde aparentemente sale el Sol. Es el punto opuesto al Oeste. □ OESTE: Es el punto por donde aparentemente se esconde el Sol. Es el punto opuesto al Este. ¿Sabías qué...? Si nos paramos de frente a a salida del Sol tenemos el Este, a nuestra espalda apunta al Oeste, el brazo izquierdo se dirige al Norte, y el brazo derecho al Sur.



a- Teniendo en cuenta la lectura del texto “Orientación”, identifique y coloque los Puntos Cardinales en sus puntos correspondientes



4- Observe con atención el siguiente Mapa Planisferio, y coloque líneas imaginarias, océanos y continentes.



Bibliografía: H. Perincioli de Rampa (2002). La Tierra hábitat del hombre, Ed.AZ, 8.

Miriam Borgognoni. (2009).Geografía 1, Editorial, Sttella, 7.

Consultas: cabaneseducacionambientalsi@gmail.com o 2644104084 (lunes a viernes en horario de 10 a 12hs y 18 a 20hs).

Éxitos. Saludos cordiales.

Directora: M. Eelena Rodriguez