

Guía Pedagógica N° 24 de Retroalimentación. Grupo 2

Escuela: Pedro de Valdivia CUE: 7000202-00

Docente: Cabrera, Patricia

Grado: 1° Turno: Único

Áreas: Ciencias Sociales, Matemática, Ed. Agropecuaria

Título de la propuesta: De la ciudad al campo

Contenidos: La sociedad en diferentes espacios, rural y urbano.

Características del campo y la ciudad, contrastes y relaciones.

Números naturales de una y dos cifras.

Relaciones numéricas. Composición y descomposición en dieces y unos.

Situaciones problemáticas de adición y sustracción.

La huerta orgánica en casa según su espacio.

Indicadores de evaluación:

- Identifica características de espacios rurales y urbanos.
- Lee, escribe, utiliza números naturales de una y dos cifras.
- Establece relaciones entre dos números: anterior-posterior, mayor-menor
- Descompone y compone números naturales con unos y dieces.
- Resuelve situaciones problemáticas sencillas de adición y sustracción.
- Reconoce el trabajo de huertas
- Distingue tipos de huerta.

Actividades:

DESAFÍO: CONFECCIONAR TARJETAS CON CÁLCULOS MATEMÁTICOS, PARA JUGAR Y COMPARTIR CON AMIGOS Y CON LA FAMILIA.


DÍA 1

1-LEE O QUE TE LEAN:



LUCAS VIVE EN UNA GRAN CIUDAD. FUE A VISITAR A SUS ABUELOS QUE VIVEN EN EL CAMPO, EN UN LUGAR MUY ALEJADO.

-OBSERVA Y MARCA CON UNA X LOS LUGARES QUE LUCAS VISITÓ:



**2-CUANDO LLEGÓ LUCAS VIO LOS CORRALES ¡¡CUÁNTOS ANIMALES HAY!!
LUCAS PENSABA Y RESOLVÍA:**

- *10 VACAS Y 8 CABALLOS ----○
- *7 CONEJOS BLANCOS Y 7 NEGROS -○
- *10 GALLINAS Y 10 GALLOS ----○
- *5 OVEJAS Y 5 TERNERITOS ----○
- *20 CERDOS Y 3 CERDITOS ----○
- *6 POLLITOS Y 6 POLLITOS ----○

¿ERES CAPÁZ DE RESOLVER ESTOS CÁLCULOS COMO LUCAS?

PUEDES AYUDARTE CON PALITOS, TAPITAS.


3- CONFECCIONA 15 TARJETAS RECTANGULARES CON CARTULINA U OTRO PAPEL, DE 8 CM POR 5 CM. EN CADA UNA COPIA UN CÁLCULO QUE REALIZÓ O REALIZARÁ LUCAS, SIN PONER EL RESULTADO ...EJEMPLO

$10 + 18$

DÍA 2

LUCAS ESTABA FELIZ DE ESTAR EN EL **CAMPO**...AUNQUE EXTRAÑABA UN POCO LA **CIUDAD**.

1-COLOCA LA PALABRA CAMPO O CIUDAD, SEGÚN CORRESPONDA



2-PARA RESOLVER: *LUCAS JUNTO CON SUS PRIMOS REALIZARON MUCHAS TAREAS... RECOLECTARON LOS HUEVOS:

DE UN GALLINERO 10 HUEVOS, DE OTRO 10 Y DE OTRO 3.

¿CUÁNTOS HUEVOS RECOLECTARON EN TOTAL?

*-LLENARON 5 CANASTOS DE MANZANAS Y 5 DE NARANJAS
¿CUÁNTOS CANASTOS LLENARON?

RECUERDA **COMPLETAR LAS TARJETAS** CON ESTOS CÁLCULOS.

DÍA 3:

1-EL ABUELO DE LUCAS, **DON JULIO** INDICABA LA CANTIDAD DE CAJONES O BOLSAS QUE COSECHABA, EN EL CUADRO NUMÉRICO, CON UN DIBUJO.

COLOCA EN CADA EL NÚMERO DONDE ESTÁ LA FRUTA O VERDURA.

1	2	3		5			8		
11			14		16	17		19	20
21		23		25	26		28		30
31	32		34	35		37		39	40
41	42	43			46			49	50

	<input type="checkbox"/>		<input type="checkbox"/>		<input type="checkbox"/>		<input type="checkbox"/>
	<input type="checkbox"/>		<input type="checkbox"/>		<input type="checkbox"/>		<input type="checkbox"/>
	<input type="checkbox"/>		<input type="checkbox"/>		<input type="checkbox"/>		<input type="checkbox"/>
	<input type="checkbox"/>		<input type="checkbox"/>		<input type="checkbox"/>		<input type="checkbox"/>
	<input type="checkbox"/>		<input type="checkbox"/>		<input type="checkbox"/>		<input type="checkbox"/>

2-A CADA NÚMERO: -COLÓCALE LOS NÚMEROS VECINOS, EN EL CUADRO NUMÉRICO.

3-PARA RESOLVER:

LLEVABAN EN CAMIONES LAS VERDURAS Y FRUTAS A LA CIUDAD, DEBÍAN RECORRER 20 KILÓMETROS HACIA EL NORTE Y 13 KILÓMETROS AL OESTE.

¿CUÁNTOS KILÓMETROS DEBÍAN RECORRER EN TOTAL? REALIZA LA CUENTA O DIBUJA 10 Y 1.

4-¿QUÉ OTROS MEDIOS DE TRANSPORTE UTILIZAN EN EL CAMPO? DIBUJA 2.

DÍA 4


1- AYUDA A LUCAS A COMPLETAR ESTE CUADRO.

SI HAY 10 BANANAS, 3 ESTÁN EN EL CANASTO CUÁNTAS HAY EN LA HELADERA? TRABAJA CON PALITOS O TAPITAS.

HAY	EN EL CANASTO	EN LA HELADERA
10 BANANAS	3
10 NARANJAS	5
10 PERAS	8

2- LUCAS AHORRÓ EL DINERO QUE SU ABUELO LE DIO

¿CUÁNTOS PESOS LE DIO CADA DÍA?



¿CUÁNTO DINERO TIENE EN TOTAL?

3-CON ESE DINERO QUIERE COMPRAR:



-SI COMPRA LA REMERA...PUEDES TRABAJAR CON LOS BILLETES Y LAS MANEDAS...

¿LE ALCANZA EL DINERO QUE TIENE? ¿LE SOBRA? ¿CUÁNTOS PESOS?


Y SI COMPRA LAS ZAPATILLAS ¿CUÁNTO DINERO LE QUEDARÁ? DIBUJA LOS 10 Y 1.

DON JULIO LE CONTÓ QUE HAY MUCHAS FORMAS DE REALIZAR UNA HUERTA EN CASA:

SE LA LLAMA **HUERTA URBANA**: SE PUEDEN REALIZAR EN ESPACIOS REDUCIDOS: CAJONES, BOTELLAS, ETC.

LA **HUERTA RURAL** SE REALIZA EN ESPACIOS RURALES.

OBSERVA LAS IMÁGENES:



***PINTA** LAS IMÁGENES

***COLOCA** SI ES UNA HUERTA RURAL O UNA HUERTA URBANA.

*DON JULIO LE PROPUSO QUE REALIZARA UNA HUERTA EN CASA.

DÍA 5

¡¡HOY FINALIZAMOS EL DESAFÍO!!

HAS TRABAJADO MUCHO...HAS REALIZADO MÚLTIPLES OPERACIONES.



CÁLCULOS FÁCILES Y OTROS NO TANTO...

HAS LOGRADO REALIZAR CÁLCULOS MENTALES SIMPLES...

COMPLETA LAS TARJETAS CON LOS CÁLCULOS QUE TRABAJASTE DURANTE LA SEMANA...

¿CUÁNTAS TARJETAS REALIZASTE? TE PROPUSE 15, PUEDES PENSAR Y CONFECCIONAR MÁS...

¿QUÉ REALIZAREMOS CON LAS TARJETAS?

!!!VAMOS A JUGAR !!!

Directora: Domínguez, Cecilia