

## Guía Pedagógica N° 22 de Retroalimentación Escenario 2

❖ ESCUELA RAFAEL ALBERTO ARRIETA-25 DE MAYO

❖ CUE: 700023200

❖ Docente: José Rolando Lafuente

❖ Grado: 3° Turno: Mañana

❖ NIVEL PRIMARIO

❖ Área: Ciencias Naturales, Ciencias Sociales

❖ Desafío educativo: conocer las principales características del sistema de transporte e identificar algunas medidas de prevención vinculadas con el Covid-19

❖ Capacidades:

Resolución de Problemas

- Usar conceptos y teorías para explicar algún aspecto de la realidad.

Aprender a aprender

- Buscar y solicitar ayuda en los procesos de aprendizaje.

Responsabilidad y compromiso

- Potenciar la motivación y la confianza en sí mismo en la consecución de metas.

❖ Contenidos

**Ciencias Naturales**

Identificación de algunas medidas de prevención vinculadas con el Covid 19.

**Ciencias Sociales**

El conocimiento de las principales características de un sistema de transporte analizando las principales relaciones entre el espacio rural y el espacio urbano.

❖ Criterios de evaluación

**Ciencias Naturales**

- Identificar actitudes de cuidado de sí mismo y la predisposición para adoptar hábitos saludables que preserven la vida y el entorno.

**Ciencias Sociales**









- Reconocer diferentes formas en que se organizan los espacios geográficos: locales y extralocales, cercanos y lejanos, urbanos y rurales.

1. Marca que grupo de alimentos debes comer todos los días para mantenerte saludable.

Marca solo un óvalo.

- Carnes, huevos, frutos secos, legumbres
- Cereales, frutas, verduras, agua, leche
- Embutidos, dulces, gaseosas

2. Pinta los círculos que correspondan a hábitos que debes adoptar para evitar contagiarte de Covid 19.

			
<input type="radio"/>	<input type="radio"/>	<input type="radio"/>	<input type="radio"/>
			
<input type="radio"/>	<input type="radio"/>	<input type="radio"/>	<input type="radio"/>

## CIENCIAS SOCIALES

1. Mira las imágenes y marca el transporte público que se utiliza en San Juan.



Marca solo un óvalo.

- Colectivo
- Lancha
- Tren

2) Observa la imagen y pinta el círculo de la opción que corresponda.



En el edificio del dibujo se:

- Declaró la Independencia argentina.
- Creó el Primer gobierno patrio durante la revolución de mayo.
- Fundó la provincia de San Juan.