

GUÍA PEDAGÓGICA N° 22 DE RETROALIMENTACIÓN**Escuela:** Antenor Flores Vidal**C.U.E.:** 7000093-00**Docente:** Gabriel Páez**Grado:** 2° **Primer Ciclo Nivel Primario** **Turno:** Único**Áreas:** Matemática, Ciencias Sociales, Formación Ética y Ciudadana**Título de la propuesta:** "Desde casa, también podemos"**Contenidos:****Matemática:**

- Numeración desde el 0 al 1.000.
- Funciones y usos: contar, ordenar, identificar, etc.
- Relaciones de: mayor, menor, anterior, siguiente, etc.
- Cálculos simples que involucran sumas y restas.
- Doble y mitad de.
- Situaciones problemáticas que involucran sumas y restas.
- Números ordinales hasta el 10°.
- Cuerpos y figuras geométricas.

¡¡¡TÚ PUEDES!!!**Ciencias Sociales:**

- Conmemoraciones históricas para el afianzamiento la identidad.
- Paisaje rural y urbano: transporte, producción, trabajadores, instituciones, etc.

Formación Ética y Ciudadana:

- Los valores y su puesta en práctica en diferentes situaciones y contextos.

Indicadores de evaluación para la nivelación:

- Reconoce números naturales desde el 0 al 1.000.
- Resuelve las funciones y usos de un número.
- Aplica las relaciones de números.
- Reconoce doble y mitad de una cantidad.
- Resuelve cálculos simples de sumas y restas.
- Resuelve diversas situaciones problemáticas.
- Identifica números ordinales.
- Reconoce cuerpos y figuras geométricas.
- Identifica acontecimientos históricos de nuestro país.
- Reconoce paisaje urbano y rural.
- Identifica características de ambiente urbano y rural.
- Pone en práctica buenos valores en diversas situaciones y contextos.

ACTIVIDADES:

6 – COLOCA 3 NÚMEROS MENORES QUE...

900 →

238 →

5 →

100 →

7 – AHORA, 3 MAYORES QUE...

213 →

99 →

961 →

8 →

8 – COMPLETA CON EL NÚMERO QUE FALTA PARA OBTENER EL RESULTADO DADO.

$100 + \dots = 150$

$21 + \dots = 250$

$390 + \dots = 400$

$220 - \dots = 215$

$518 - \dots = 513$

$68 - \dots = 64$

9 - COLOCA EN LOS ESPACIOS NÚMEROS QUE DEN EL RESULTADO.

$\dots + \dots = 80$

$\dots + \dots = 60$

$\dots + \dots = 22$

$\dots + \dots = 15$

10 - ¡A RESOLVER!

EL PAPÁ DE DARÍO LLEVÓ AL PUEBLO 54 PAQUETES DE ACELGA Y VENDIÓ 42. ¿CUÁNTOS PAQUETES DE ACELGA LE QUEDARON?

RESPUESTA:.....

ESE DÍA TAMBIÉN LLEVÓ 30 CARTONES DE HUEVOS, LE FALTARON Y VOLVIÓ A BUSCAR A LA FINCA 15 MÁS. ¿CUÁNTOS CARTONES VENDIÓ EN TOTAL?

RESPUESTA:.....

MARIO LEYÓ 82 PÁGINAS DE UN LIBRO QUE TIENE 95 EN TOTAL. ¿CUÁNTAS PÁGINAS LE FALTA LEER?

RESPUESTA:.....


11 – COLOCA EL DOBLE Y LA MITAD.

MITAD	NÚMERO	DOBLE
	4	
	18	
	40	
	22	

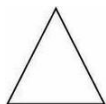
12 – COMPLETA COMO EN EL EJEMPLO, ESCRIBIENDO EL ORDEN QUE OCUPA CADA UNO EN LA FILA.



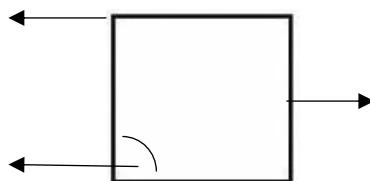
13 – MARCA EN EL CASILLERO CON UNA (X) EL PRIMERO, EL QUINTO Y EL NOVENO.



14 – ESCRIBE AL LADO EL NOMBRE DE LOS SIGUIENTES CUERPOS Y FIGURAS GEOMÉTRICAS.

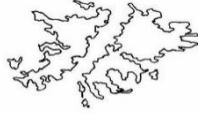
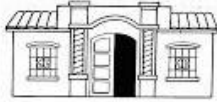


15 – COLOCA EL NOMBRE DE LOS ELEMENTOS QUE POSEE UNA FIGURA GEOMÉTRICA.



CIENCIAS SOCIALES:

16 – OBSERVA LAS IMÁGENES LUEGO ESCRIBE AL LADO QUE SE CONMEMORA O RECUERDA.



.....

.....

.....




.....

.....

.....

17 – OBSERVA LAS IMÁGENES Y ESCRIBE A QUE AMBIENTE PERTENECEN.



.....

.....

18 - ESCRIBE QUE TRANSPORTES, PRODUCCIONES, TRABAJADORES, INSTITUCIONES, ETC. PERTENEZCAN A CADA AMBIENTE.

AMBIENTE

AMBIENTE.....



FORMACIÓN ÉTICA Y CIUDADANA:

19 - ESCRIBE DOS BUENOS MODALES QUE PONES EN PRACTICA EN CASA Y DOS EN LA ESCUELA, LUEGO AL LADO FORMA UNA ORACIÓN CON LOS MISMOS.

..... =
..... =
..... =
..... =

20 – LEE Y COLOREA LAS VIÑETAS QUE TE HACEN SENTIR TRISTE.



DIRECTORA: JAQUELINA VILLALBA